

平成29年度入学試験

試験問題

社 会

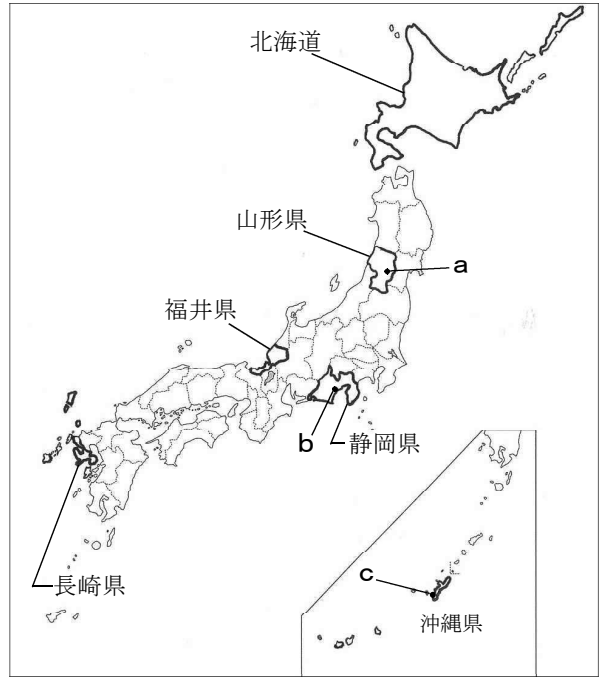
注 意

1. 開始のチャイムが鳴るまで開いてはいけません。
2. 受験番号を**解答用紙**の2カ所に書き、答えはすべて**解答用紙**に書きなさい。
3. 問題は **1** から **5** までで、10ページにわたって印刷してあります。
4. 終了のチャイムが鳴ったら、すぐに筆記用具を置きなさい。

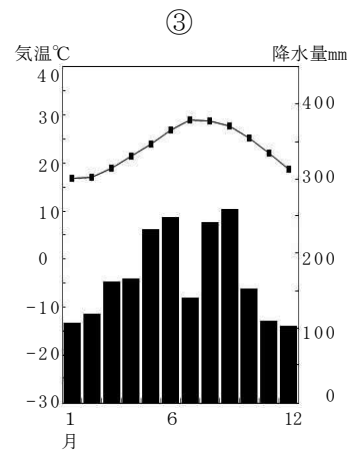
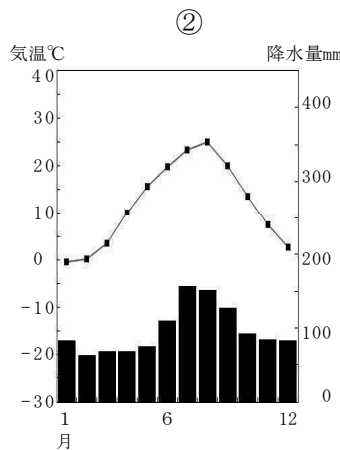
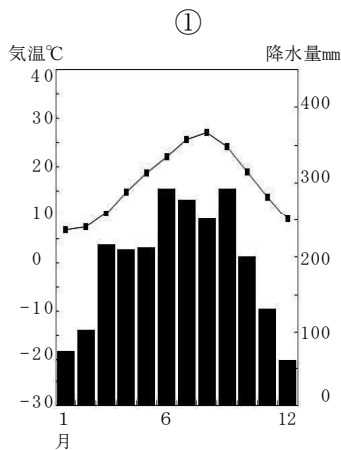
セントヨゼフ女子学園高等学校

1 次の略地図を見て、あとの各問いに答えなさい。 <略地図>

(1) 下の①～③のグラフは、略地図に a～c で示した都市の月別平均降水量と月別平均気温を表したものである。①～③にそれぞれあてはまる都市の組み合わせとして最も適当なものはどれか、次のア～エから1つ選び、その記号を書きなさい。



- ア. ①－a ②－b ③－c
- イ. ①－b ②－c ③－a
- ウ. ①－b ②－a ③－c
- エ. ①－c ②－a ③－b



(気象庁データから作成)

(2) 次の資料1は略地図に示した、北海道・山形県・静岡県・福井県・長崎県・沖縄県の1道5県における人口・農業産出額・工業総産出額を表にしたものである。①・③・⑥にあてはまる道県名の組み合わせとして最も適当なものはどれか、次のア～エから1つ選び、その記号を書きなさい。

<資料1>

道県	人口(千人)	農業産出額(億円)	工業総産出額(億円)
①	803	400	18,524
②	1,454	901	6,344
③	3,786	2,154	157,766
④	1,140	2,128	24,114
⑤	1,413	1,477	16,383
⑥	5,431	11,110	64,564

- ア. ①－福井 ③－沖縄
- ⑥－静岡
- イ. ①－沖縄 ③－静岡
- ⑥－長崎
- ウ. ①－山形 ③－北海道
- ⑥－静岡
- エ. ①－福井 ③－静岡
- ⑥－北海道

(平成25/26年度全国都道府県市区町村別人口・農林水産省WEB/経済産業省WEBから作成)

- (3) 略地図に示した長崎県にある、噴火によって地形が大きく変わった火山の名前はどれか、次のア～エから最も適当なものを1つ選び、その記号を書きなさい。

[ア. 霧島山 イ. 阿蘇山 ウ. 雲仙岳 エ. 桜島]

- (4) 略地図に示した北海道では、農業がさかんである。十勝平野周辺でさかんな農業について述べた文はどれか、次のア～エから最も適当なものを1つ選び、その記号を書きなさい。

- ア. 豆類・じゃがいも・てんさいなどを栽培し、酪農と組み合わせた混合農業が見られる。
イ. パイロットファームとよばれる農場で大規模な酪農が行われ、生乳が多く生産されている。
ウ. 泥炭地を改良して稲作をはじめ、日本有数の米の生産量を誇るまでになっている。
エ. 夏の涼しい気候をいかし、出荷時期を遅らせて、キャベツやレタスを栽培している。


- (5) 右の資料2は、略地図に示した静岡県にも見られる、温暖な気候と水はけの良い土地での栽培が適した工芸作物の写真である。また、資料3は、資料2で示した工芸作物の栽培についてまとめたものの一部である。資料3の ・ にあてはまる最も適当な語句を書きなさい。

〈資料3〉

生産量日本一を誇る静岡県では、有名な 台地をはじめとした台地や、丘陵地などで栽培がさかんである。

資料2に写っている扇風機のようなものは、この農作物をある自然災害から守るために設置された とよばれるものである。

〈資料2〉



先端部の拡大

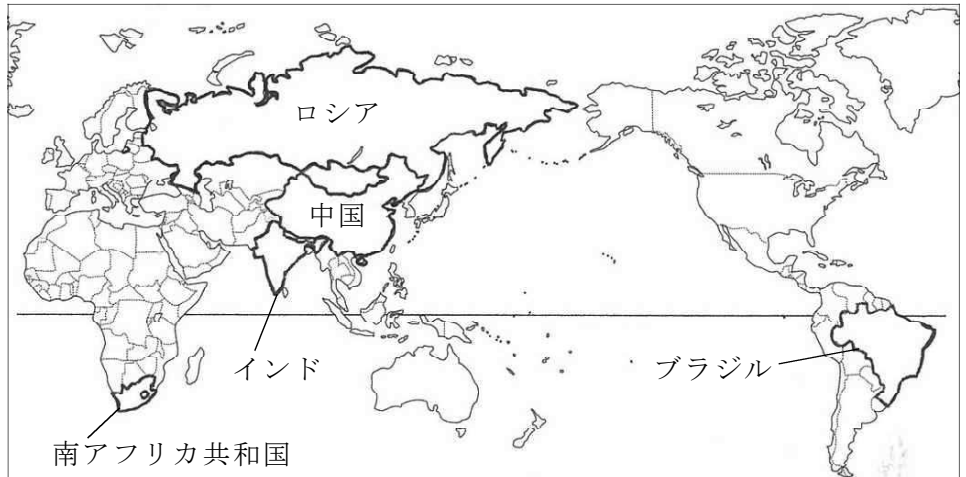


- (6) 略地図に示した福井県には、世界に通用する統一ブランド「THE 291」で売り出している地場産業がある。その製品は国内生産で9割を超え、世界生産の2割を占めている。製品名を書きなさい。

- (7) 略地図に示した山形県をはじめ東北・北陸地方では、地元でとれる材料を用いてさまざまな伝統工芸が発達してきた。発達の背景のひとつとして、これらの地方独特の事情がある。この事情について、「農業」という言葉を用いて、書きなさい。

2 次の略地図に示された国々について、あとの各問いに答えなさい。

〈略地図〉

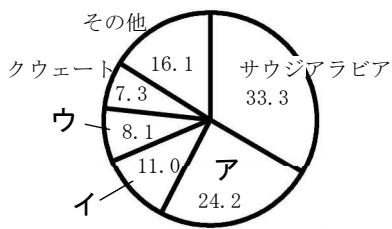


(1) 略地図に国名を記した国々は、2000年代以降著しい経済発展を遂げている4か国に、南アフリカ共和国を加えたものである。これらの国々の頭文字を取って何と呼ばれているか、アルファベット5字で書きなさい。


(2) 次の資料1は日本における原油、石炭、液化天然ガスの輸入相手国(2014年)を表している。原油、石炭、液化天然ガスのそれぞれのグラフのなかで、ロシアを表しているものとして最も適当なものはどれか、資料1の **ア**～**エ** から1つ選び、その記号を書きなさい。

〈資料1〉

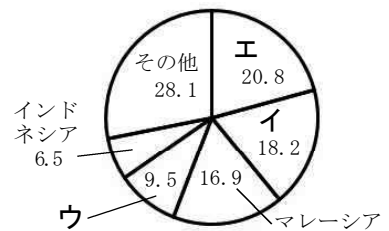
原油の輸入相手国



石炭の輸入相手国



液化天然ガスの輸入相手国



* 数字は%を示す (財務省貿易統計から作成)

(3) 次の資料2はブラジルを含む南アメリカ州について述べた文である。資料2の **①**～**④** にあてはまる語句の組み合わせとして最も適当なものを、あとの **ア**～**エ** から1つ選び、その記号を書きなさい。

〈資料2〉

アンデス山脈には高度な文明が栄え、15世紀には **①** 帝国が最盛期をむかえた。しかし、16世紀からは **②** と **③** から多くの人々がやってきて、先住民をほろぼし、支配した。そのため、**②** 語やブラジルでは **③** 語が話されるようになり、**④** 教が広まった。

- | | |
|---|---|
| } | ア. ①ーインカ ②ースペイン ③ーポルトガル ④ーキリスト |
| | イ. ①ーアステカ ②ースペイン ③ーポルトガル ④ーイスラム |
| | ウ. ①ーインカ ②ーポルトガル ③ースペイン ④ーヒンドゥー |
| | エ. ①ーアステカ ②ーポルトガル ③ースペイン ④ーキリスト |

- (4) 次の資料3は南アフリカ共和国・エジプト・コートジボワール・ナイジェリアの輸出入品と全体に占める割合を上位3位まで表している。南アフリカ共和国に当たるものはどれか、資料3の**ア**～**エ**から1つ選び、その記号を書きなさい。

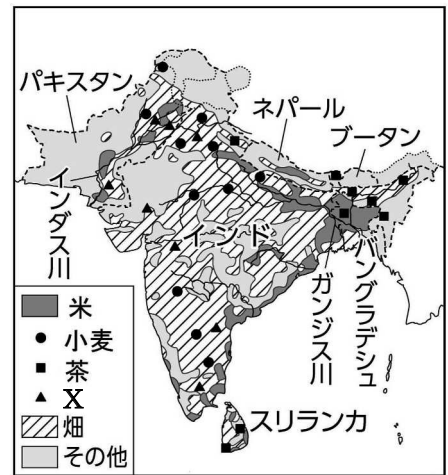
〈資料3〉

	輸出			輸入		
ア	原油11.4	野菜と果実10.0	石油製品9.1	機械類14.9	石油製品7.8	穀物7.2
イ	原油82.8	天然ゴム2.7	石油製品2.7	石油製品19.3	機械類19.1	自動車8.0
ウ	カカオ豆16.9	石油製品14.7	船舶14.3	原油23.5	船舶21.6	機械類10.6
エ	機械類10.2	自動車9.7	鉄鉱石7.4	機械類23.3	原油16.2	自動車7.9

* 数字は%を示す (データブック オブ・ザ・ワールド2016年版から作成)

- (5) 右の資料4は南アジアの農業について示している。また、資料4の農作物生産国(上位5ヶ国)を資料5にまとめた。資料4の凡例**X**の示す農産物はどれか、資料5の**ア**～**エ**から1つ選び、その記号を書きなさい。

〈資料4〉



(Alexander Kombiatlas ほかから作成)

〈資料5〉

農産物 生産国	ア	イ	ウ	エ
1位	中国	中国	中国	中国
2位	インド	インド	インド	インド
3位	ケニア	アメリカ合衆国	アメリカ合衆国	インドネシア
4位	スリランカ	パキスタン	フランス	バングラデシュ
5位	トルコ	ブラジル	ロシア	ベトナム

(2012年FAO STATによる)

- (6) インドは豊富な鉱産資源を利用して工業化をすすめてきた。現在は情報技術産業、先端技術産業などの分野の成長が著しい。特にソフトウェア開発において、インドが急成長した要因を1つ書きなさい。

〈資料6〉

中国の人口ピラミッド
2016年と2050年の予想

- (7) 右の資料6は、中国の人口ピラミッドである。中国では1979年から続いてきた「一人っ子政策」が2015年に廃止された。なぜ、「一人っ子政策」を廃止することになったのか、資料6を参考にして、将来予測される状況にふれて、書きなさい。

3 聖子さんの学級では、「日本の各時代の文化」というテーマで調べ学習を行い、そのテーマをカードにまとめたものである。これを見て、あとの各問いに答えなさい。

【A班】 弥生文化

【B班】 室町時代の文化：北山文化・東山文化

【C班】 国風文化

【D班】 鎌倉文化

【E班】 天平文化

【F班】 江戸時代の文化：元禄文化・化政文化

(1) 各班の調べたテーマと資料1「文化の特徴」・資料2「文化遺産」の正しい組み合わせとして最も適当なものを、次のア～カから1つ選び、その記号を書きなさい。

- | | | |
|---|------------------|-------------------|
| } | ア. 【A班】 - IV - ③ | イ. 【B班】 - III - ④ |
| | ウ. 【C班】 - II - ⑤ | エ. 【D班】 - V - ② |
| | オ. 【E班】 - VI - ① | カ. 【F班】 - I - ⑥ |

〈資料1〉

文化の特徴

- I 全国を統一する政権が出現したこの時代は、古い社会のしくみがこわされ、商業や貿易がさかんになった。下剋上で成り上がった大名や大商人たちは、権力や富を背景に豪華な生活を送った。
- II 平安時代半ばの貴族たちは、唐風の文化をふまながらも日本の風土や生活、日本人の感情にあった文化を生み出していた。
- III 足利義満が北山に建てた別荘には、公家の文化と武家の文化との融合がよくあらわされている。また武家を担い手とする簡素で気品ある文化が発展した。
- IV この時代には植物の栽培が始まったが、海面が上昇して入り江に恵まれたために魚や貝類が豊富にとれ、くり、どんぐりなどの木の実や、鳥、しか、いのししなどの動物が豊かだったので、農耕や牧畜はあまり発達しなかった。
- V 武士が台頭する中で、貴族は朝廷の文化を見直すようになり、新しい文化が生まれてきた。宋から新しい建築様式が取り入れられ、戦で焼けた寺社が再建された。また、民衆や自分の運命を切り開いてきた武士の心のよりどころとして、新しい仏教の教えが広まった。
- VI 日本で最初の仏教文化で、大王がいた奈良盆地の南部を中心に栄えた。おもに朝鮮半島からの渡来人の子孫によってつくられたが、南北朝時代の中国やインド・西アジアの文化の影響も受けている。

〈資料2〉

文化遺産

- ① 東大寺の大仏、唐招提寺鑑真像、正倉院
- ② 東大寺南大門と金剛力士像
- ③ 貝塚、たて穴住居、土偶
- ④ 金閣、銀閣、安土城、大阪城
- ⑤ 宇治の平等院鳳凰堂、水墨画
- ⑥ 風神雷神図屏風、浮世絵

注：①～⑥の文化遺産の項目には正しくない組み合わせも含まれている。

(2) A班の調べた内容について、この文化にあてはまらないものを、次のア～エから1つ選び、その記号を書きなさい。

[ア. 須恵器 イ. 稲作 ウ. 高床倉庫 エ. 銅鐸]

(3) B班の調べた内容について、右の資料3はセントヨゼ

フ女子学園の高校生が遠足で京都を訪れたときの写真である。この文化を代表する芸術で観阿弥・世阿弥親子が大成したものは何か、資料3を見て漢字で書きなさい。



(4) C班の調べた内容について、この文化に関連する人物と文学作品の組み合わせとして最も適当なものを、次のア～エから1つ選び、その記号を書きなさい。

[ア. 紀貫之『古今和歌集』 イ. 清少納言『源氏物語』
ウ. 紫式部『枕草子』 エ. 藤原定家『新古今和歌集』]

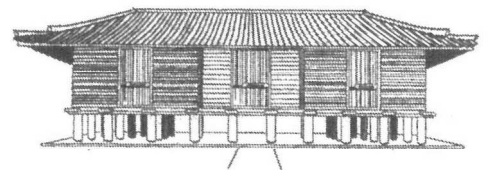
(5) D班の調べた内容について、この文化に関連する仏教と開祖の組み合わせとして最も適当なものを、次のア～エから1つ選び、その記号を書きなさい。

[ア. 天台宗-最澄 イ. 真言宗-空海 ウ. 浄土真宗-親鸞 エ. 曹洞宗-栄西]

(6) E班の調べた内容について、この文化に関連する右の資料4の説明にあてはまらないものを、次のア～エから1つ選び、その記号を書きなさい。

[ア. 西アジアやインドから唐にもたらされ、遣唐使が持ち帰ったものがおさめられている。
イ. 法隆寺を建設するための道具や式典を行うために使用したものがおさめられている。
ウ. 聖武天皇が使用した道具や楽器などがおさめられている。
エ. 「シルクロードの終着点」ともいわれている。]

〈資料4〉



〈資料5〉

(7) F班の調べた内容について、この文化に関連する右の資料5の説明として最も適当なものを、次のア～エから1つ選び、その記号を書きなさい。

[ア. この絵は、化政文化の時代のものである。
イ. この絵は、化政文化の錦絵と呼ばれる多色刷の版画であった。
ウ. この絵は、元禄文化の絵で、菱川師宣が描いたものである。
エ. この絵は、元禄文化の時代に風景画・役者絵などが大量に描かれるきっかけとなった。]



4 次の表は、まりあさんのクラスで、近代・現代の歴史の調べ学習をしたときのテーマをまとめたものである。これを見て、あとの各問いに答えなさい。

テーマ 1	日清戦争 (1894～1895年)
テーマ 2	日露戦争 (1904～1905年)
テーマ 3	第一次世界大戦 (1914～1918年)
テーマ 4	第二次世界大戦 (1939～1945年)


〈資料 1〉



(1) 右の資料 1・資料 2 について、どのテーマに関係するものか、最も適当な組み合わせを、次のア～エから 1 つ選び、その記号を書きなさい。

- | | | |
|---|-----------------|--------------|
| { | ア. 資料 1 - テーマ 3 | 資料 2 - テーマ 2 |
| | イ. 資料 1 - テーマ 2 | 資料 2 - テーマ 1 |
| | ウ. 資料 1 - テーマ 3 | 資料 2 - テーマ 1 |
| | エ. 資料 1 - テーマ 4 | 資料 2 - テーマ 2 |

〈資料 2〉



(2) テーマ 1 について、次の㉠～㉤のできごとを、書かれた内容の古いものから順に並べるとどのようになるか、最も適当なものを、あとのア～エから 1 つ選び、その記号を書きなさい。

- ㉠ 日本が獲得した^{りょうとう}遼東半島を、清に返還するように勧告してきた。
- ㉡ 下関条約を結んだ。
- ㉢ 朝鮮半島南部で、東学を信仰する団体を中心とした農民が、^{こうご}甲午農民戦争を起こした。
- ㉣ 八幡製鉄所が操業を開始し、国内の鉄鋼の大部分を生産した。

- | | | |
|---|------------------|------------------|
| { | ア. ㉠ → ㉣ → ㉡ → ㉢ | イ. ㉡ → ㉠ → ㉢ → ㉣ |
| | ウ. ㉢ → ㉡ → ㉠ → ㉣ | エ. ㉣ → ㉠ → ㉡ → ㉢ |

(3) テーマ 2 について、開戦以前のできごととして最も適当なものはどれか、次のア～エから 1 つ選び、その記号を書きなさい。

- | | |
|---|--------------------|
| { | ア. 日英同盟を結んだ。 |
| | イ. 日比谷焼き打ち事件が起こった。 |
| | ウ. 四か国条約を結んだ。 |
| | エ. 治安維持法を制定した。 |

(4) テーマ3について、この戦争と関係のある文としてあてはまらないものを、次のア～エから1つ選び、その記号を書きなさい。

- ア. 国際連合が発足した。
- イ. ロシア革命が起こった。
- ウ. 日本は中国に対して、二十一か条の要求を認めさせた。
- エ. 戦車・毒ガスなどの大量殺りく兵器が用いられた。

(5) テーマ4について、次の(a), (b)の各問いに答えなさい。

(a) 右のA～Dのカードは、第二次世界大戦中に起こったできごとを示している。古いものから順に並べるとどのようになるか、最も適当なものを、次のア～エから1つ選び、その記号を書きなさい。

Ⓐ 太平洋戦争始まる

Ⓑ ポツダム宣言受諾

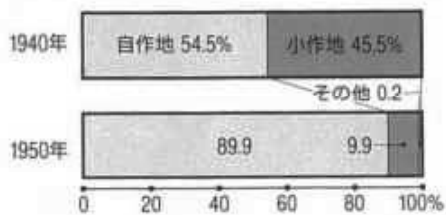
Ⓒ 日独伊三国同盟結ぶ

Ⓓ 日ソ中立条約締結

- ア. Ⓐ → Ⓑ → Ⓒ → Ⓓ
- イ. Ⓑ → Ⓒ → Ⓓ → Ⓐ
- ウ. Ⓒ → Ⓓ → Ⓐ → Ⓑ
- エ. Ⓓ → Ⓐ → Ⓑ → Ⓒ

(b) 第二次世界大戦後の日本に対するGHQの占領政策の基本方針は、民主化政策であった。下の資料3は農地改革による土地の割合の変化を示している。この改革によって、どのような民主化が進められたか、「地主」と「自作地」という2つの言葉を用いて、書きなさい。

〈資料3〉自作地と小作地の割合



(完結昭和国勢総攬そうらんほかから作成)

5 みどりさんは、公民的分野の学習のまとめを発表するために、4つのテーマを設定した。これを見て、あとの各問いに答えなさい。

I 人権と日本国憲法

II 国の政治のしくみ

III 政府の役割と国民の福祉

IV 国際社会のさまざまな動き

(1) I について、次の(a), (b)の各問いに答えなさい。

(a) 人権の保障は「個人の尊重」の原理（日本国憲法第13条）に基づき、第14条に次のように規定されている。A にあてはまる語句を解答欄に合わせて、書きなさい。


第14条 ① すべて国民は、A であって、人種、信条、性別、社会的身分又は^{また}門地により、政治的、経済的又は社会的関係において、差別されない。

(b) 産業化や情報化といった社会の急速な発展にともなうて、日本国憲法には直接的には規定されていない権利（「新しい人権」）が主張されるようになってきた。右の資料1は、何という「新しい人権」を尊重しようとするものであるか、書きなさい。

〈資料1〉



表



裏

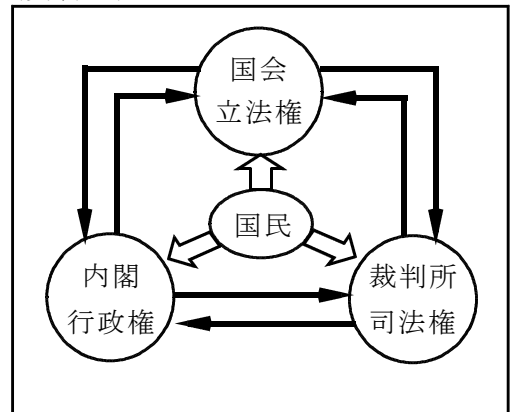
(2) II について、次の(a), (b)の各問いに答えなさい。

(a) 内閣だけにある権限を次のア～エから1つ選び、その記号を書きなさい。

- ア. 条約の承認
- イ. ^{だんがい}弾劾裁判
- ウ. 法律案の提出
- エ. 予算案の作成

(b) 日本では、国の政治を立法、行政、司法に分け、右の〈資料2〉

資料2のように、たがいに抑制し合い均衡を保っている。国の権力を三つに分け、それぞれ独立した機関に担当させるのはなぜか。「国民の権利」という言葉を用いて、書きなさい。



(3) **Ⅲ** について、次の(a)～(c)の各問いに答えなさい。

(a) 右の資料3は、日本の社会保障制度についてまとめたものである。**B**にあてはまる語句を書きなさい。

(b) 家計が政府に払う税金の1つに所得税がある。所得税の課し方として現在適用されている方法を、次のア～ウから1つ選び、その記号を書きなさい。

- ア. 所得に関係なく、同じ税額を支払う。
 イ. 所得に関係なく、同じ税率で支払う。
 ウ. 低所得者は低い税率で、高所得者は高い税率で支払う。

〈資料3〉

種類	仕事の内容
社会保険	医療保険 介護保険 年金保険 雇用保険 労災保険 など
B	生活保護 〔生活費, 住宅費, 教育費, 医療費 などの援助〕
社会福祉	高齢者福祉 児童福祉 障がい者福祉 母子福祉 など
公衆衛生	感染症対策 上下水道整備 廃棄物処理 公害対策 など

(c) 政府の経済的な役割の1つである財政政策について述べた次の文中の**X**・**Y**にあてはまる語句の組み合わせとして最も適当なものを、あとのア～エから1つ選び、その記号を書きなさい。

不景気のときは、公共事業への財政支出を**X**させたり、**Y**を実施したりして消費や生産を活発にしようとする。好景気が行きすぎるとインフレーションがおきやすいので、この逆を実施して、物価の安定を図る。

- ア. X－増加 Y－増税 イ. X－増加 Y－減税
 ウ. X－減少 Y－増税 エ. X－減少 Y－減税

(4) **Ⅳ** について、次の(a), (b)の各問いに答えなさい。

(a) 国際社会では、発展途上国に対する新しい支援のかたちとして、途上国の人々が生産した農産物や製品を、その労働に見合う適正な価格で取引することが奨励しょうれいされている。先進国の人々がそれを購入すれば、途上国の生産者の自立した生活を支えられると考えるからである。こうした取り組みを何というか、カタカナで書きなさい。

(b) 近年、特定の地域でまとまりを作り、協調や協力を強めようとする地域主義(リージョナリズム)の動きが世界各地で強くなっている。東南アジア諸国連合(ASEAN)は、東南アジアの安全と発展を目的に、経済・政治・安全保障などの分野で協力を進めている。

〈資料4〉

加盟年	国名	人口(万人)	一人あたりの国民総所得(ドル)
1967	インドネシア	25,570.9	3,580
1967	シンガポール	561.9	54,040
1967	タイ	6,740.1	5,340
1967	フィリピン	10,180.3	3,270
1967	マレーシア	3,065.1	10,430
1984	ブルネイ	42.9	38,750
1995	ベトナム	9,338.7	1,740
1997	ミャンマー	5,416.4	1,183
1997	ラオス	702.0	1,450
1999	カンボジア	1,567.7	950

(データブック「アジア・パシフィック・ワールド」2016年版から作成)

資料4は、ASEAN加盟国の人口と一人あたりの国民総所得を示している。資料4から読み取れる、ASEAN加盟国間の経済面での問題にはどのようなことがあるか、書きなさい。

これで問題は終わりです。

社会 (I)

平成 29 年度 入学試験解答用紙

注意： 1. (I) (II) それぞれに受験番号を記入する。
2. ※印の欄には記入しない。

1

(1)		(2)		(3)		(4)		※
(5)	X			Y				
(6)								※
(7)								

2

(1)			(2)		(3)			※
(4)		(5)						
(6)								※
(7)								

3

(1)		(2)		(3)				※
(4)		(5)		(6)				
(7)								

受験番号

--	--	--

※
得点

--

社会 (II)

平成 29 年度 入学試験解答用紙

4

(1)		(2)		(3)		(4)		※
(5)	(a)							
	(b)							※

5

(1)	(a)	の下に	(b)					※
	(a)							
(2)	(b)							※
(3)	(a)		(b)					
	(c)							
	(a)							
(4)	(b)							

受験番号

--	--	--

※
得点

--