

2022年度入学試験

試験問題

社 会

注 意

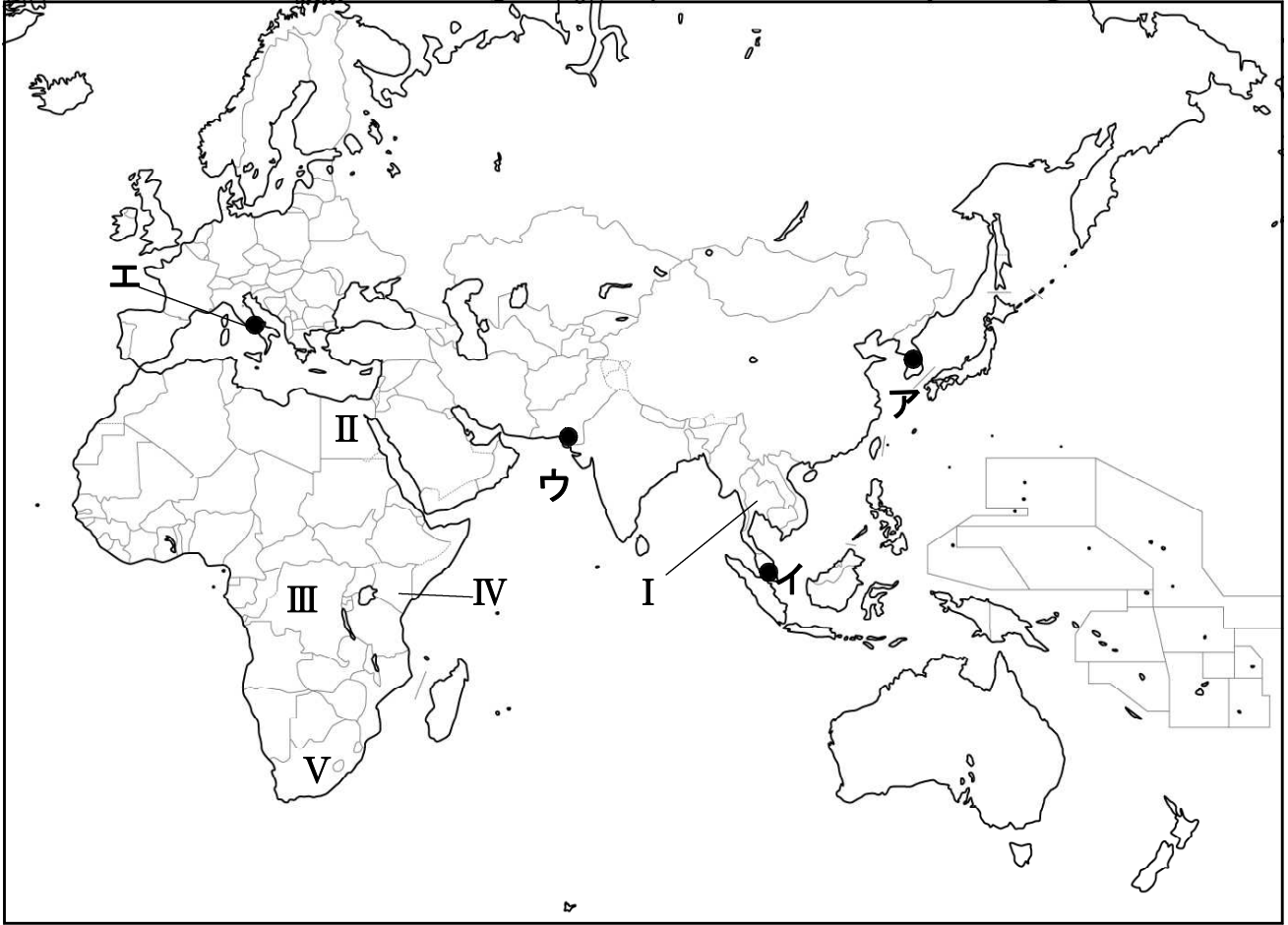
1. 開始のチャイムが鳴るまで開いてはいけません。
2. 受験番号を解答用紙の2カ所に書き、答えはすべて**解答用紙**に書きなさい。
3. 問題は **1** から **5** までで、13ページにわたって印刷してあります。
4. 終了のチャイムが鳴ったら、すぐに筆記用具を置きなさい。

セントヨゼフ女子学園高等学校

1 世界の一部の地域を表した略地図や資料を見て、あとの各問いに答えなさい。

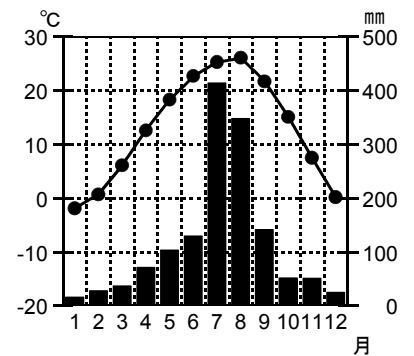
(1) 略地図について、次の(a)～(d)の各問いに答えなさい。

〈略地図〉



(a) 資料1は、ア～エで示したいずれかの都市における雨温図である。資料1はいずれの都市の雨温図か、略地図中のア～エから最も適当なものを1つ選び、その記号を書きなさい。

〈資料1〉



(気象庁ホームページより作成)

(b) 資料2は、Iで示した国の輸出品の変化を示したものである。資料2に示した輸出品Xは何か、次のア～エから最も適当なものを1つ選び、その記号を書きなさい。

〔ア. 原油 イ. 石炭 ウ. 機械類 エ. 液化天然ガス〕

〈資料2〉Iの輸出品

(%)

1980	米	野菜・果実	天然ゴム	すず	とうもろこし	繊維品	その他
	14.7	14.2	9.3	8.5	5.4	5.1	

2015	X		自動車	プラスチック類	石油製品	金属製品	その他
	31.6		12.5	4.5	3.2	2.9	

(UN Comtrade, ほか)

(c) 次のア～エの各文は略地図中の、II～Vの国についての説明である。内容として正しいものはどれか、最も適当なものを1つ選び、その記号を書きなさい。

〔ア. IIは、一年中雨が多く熱帯林が広がっている。
イ. IIIは、毎年夏から秋にかけて川がはんらんすることを利用して農業が営まれている。
ウ. IVは、高地に位置するため1年を通じて暑くも寒くもなく、バラが栽培できる。
エ. Vは、冷帯の気候を利用して、小麦やぶどうが栽培されている。〕

(d) アフリカ諸国や国民間の団結、アフリカの政治・経済・社会的な統合、平和や安全保障を目的に2002年に発足した国際機関を何というか、その略称をアルファベット2字で正しく書きなさい。

(2) 資料3は、2016年のヒスパニック就労者の割合が高い職種例である。ヒスパニックは、アメリカ合衆国の中では比較的安い賃金で働いているが、それでも移住してくるのはなぜか、その理由として考えられることを書きなさい。

〈資料3〉ヒスパニック就労者の割合が高い職種例(2016年)

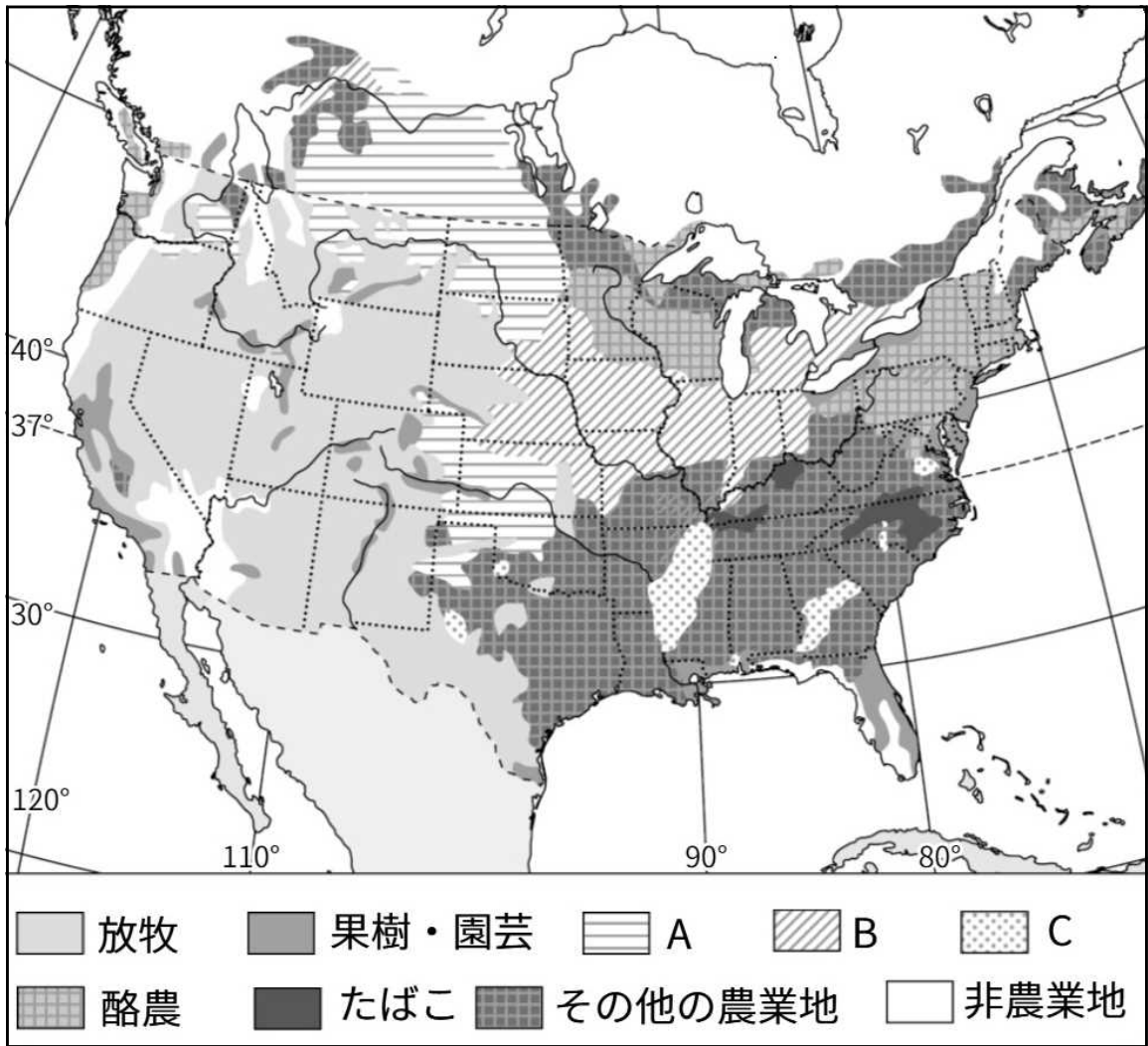
職種	割合(%)
屋根施工	51.7
塗装・建設・メンテナンス	50.7
メイド・家庭掃除人	47.3
マシンオペレーター	46.9
建設労働者	45.5
皿洗い	35.4
コック	35.0
食肉・鶏肉・魚処理施設作業員	34.6

(内多允『影響力を高める米国ヒスパニック』(2017)より引用)

(3) 資料4は、アメリカ合衆国とカナダのおもな農業地域を示している。作物と栽培地域A～Cの組み合わせはどれか、次のア～カから最も適当なものを1つ選び、その記号を書きなさい。

- | | | |
|----------------|-------------|-------------|
| ア. A－綿花 | B－小麦 | C－とうもろこし・大豆 |
| イ. A－綿花 | B－とうもろこし・大豆 | C－小麦 |
| ウ. A－とうもろこし・大豆 | B－綿花 | C－小麦 |
| エ. A－とうもろこし・大豆 | B－小麦 | C－綿花 |
| オ. A－小麦 | B－とうもろこし・大豆 | C－綿花 |
| カ. A－小麦 | B－綿花 | C－とうもろこし・大豆 |

〈資料4〉



(Goode's World Atlas2010, ほか)

2 日本の各地方について、あとの各問いに答えなさい。

(1) 北海道について、次の(a), (b)の各問いに答えなさい。

(a) 北海道の農業について正しく述べた文はどれか、ア～エから最も適当なものを1つ選び、その記号を書きなさい。

- ア. 石狩平野は土壌にめぐまれ、開拓当初から味の良い米が栽培されている。
- イ. 北見盆地は日本有数の畑作地帯で、機械を使わず手間ひまかけて作物が栽培されている。
- ウ. 根釧台地では1980年代に国の政策によって酪農村がつくられ、しだいに規模が拡大した。
- エ. 十勝平野は小麦やてんさい、じゃがいも、豆類など、寒さに強い作物が栽培されている。

(b) 北海道では、農家1戸あたりの耕地面積が広く、耕地をいくつかの区画に分けて、年ごとに栽培する作物をかえる輪作を行っている。輪作をすることでどのような良いことがあるか、1つ書きなさい。

〈資料1〉南部鉄器



(2) 東北地方にはさまざまな伝統的工芸品がある。資料1に示した伝統的工芸品は何県でつくられてきたものか、その県名を漢字で書きなさい。

(3) 中国・四国・近畿地方について、次の(a), (b)の各問いに答えなさい。

(a) 資料2は各県の人口と、いよかんの生産量、医薬品の生産額、カキの養殖量の県別割合を示したものである。資料2のA～Dにあてはまる県名の組み合わせはどれか、下のア～カから最も適当なものを1つ選び、その記号を書きなさい。

〈資料2〉

県	人口(万人) 2020年	いよかんの生産量(%) 2017年	医薬品の生産額(%) 2018年	カキの養殖量(%) 2019年
A	282	0.5	0.6	61.3
B	191	—	2.8	7.5
C	141	0.7	14.4	0.0
D	141	90.9	—	0.4
三重県	181	—	1.2	2.1

(農林水産省・厚生労働省統計より作成)

- ア. A—山口県 B—広島県 C—愛媛県 D—岡山県
- イ. A—愛媛県 B—岡山県 C—山口県 D—広島県
- ウ. A—岡山県 B—広島県 C—愛媛県 D—山口県
- エ. A—岡山県 B—広島県 C—山口県 D—愛媛県
- オ. A—広島県 B—岡山県 C—山口県 D—愛媛県
- カ. A—広島県 B—岡山県 C—愛媛県 D—山口県

- (b) 近畿地方には、歴史や宗教と関係が深いところがたくさんある。世界文化遺産に登録された、「紀伊山地の^{れいじょう}霊場と^{さんけい}参詣道」に相当する参詣道を一般に何というか、漢字4字で書きなさい。
- (4) 首都圏にはパソコンやインターネットなど、情報や通信に関連する技術を用いた産業が発展している。この産業を何というか、アルファベット3字で正しく書きなさい。

3 次の表は、みどりさんのクラスで、原始から中世までの歴史の調べ学習をしたときの内容をまとめたものの一部である。これを見て、あとの各問いに答えなさい。

テーマ1	古墳時代	倭の五王は中国(宋)にたびたび使いを送った。
テーマ2	飛鳥時代	聖徳太子は、大王(天皇)を中心とする政治制度を整えようとした。
テーマ3	奈良時代	聖武天皇は、政治を安定させようとして、東大寺の大仏をつくった。
テーマ4	平安時代	日本独自の国風文化が生まれ、平安京の貴族たちは寝殿造とよばれる屋敷に住んだ。
テーマ5	鎌倉時代	初の武家政権である鎌倉幕府が開かれたが、後鳥羽上皇は、朝廷の勢力を回復しようとして、承久の乱を起こした。

(1) 資料1・2は、どのテーマと関係するか、最も適当な組み合わせを、次のア～エから1つ選び、その記号を書きなさい。

〈資料1〉

寛仁^{かんにん}2年10月16日
 今日^{いし}は威子を皇后に立てる日である。
 …太閤^{たいこう}(道長)が私を呼んでこう言った。
 「和歌をよもうと思う。ほこらしげな歌ではあるが、あらかじめ準備していたものではない。」
 この世をば
 わが世とぞ思う
 望月^{もちづき}の欠けたることも
 無しと思えば (小右記^{しょうゆうき})

〈資料2〉 東大寺南大門金剛力士像



- | | |
|-------------|----------|
| ア. 資料1－テーマ2 | 資料2－テーマ1 |
| イ. 資料1－テーマ2 | 資料2－テーマ3 |
| ウ. 資料1－テーマ4 | 資料2－テーマ2 |
| エ. 資料1－テーマ4 | 資料2－テーマ5 |

(2) テーマ1について、次のA～Dのできごとを、書かれた内容の古いものから順に並べるとどのようになるか、最も適当なものを、あとのア～エから1つ選び、その記号を書きなさい。

- A 渡来人によって仏教や儒教の思想が伝えられた。
- B 邪馬台国は女王である卑弥呼が治めていた。
- C ワカタケル大王が九州地方から関東地方までの豪族たちを従えていた。
- D 大和政権が朝鮮半島に出兵し、高句麗^{こうくわ}や新羅^{しんら}と戦った。

- | | |
|------------------|------------------|
| ア. B → D → C → A | イ. B → A → C → D |
| ウ. C → B → D → A | エ. D → A → B → C |

(3) テーマ2の内容として最も適当なものはどれか、次のア～エから1つ選び、その記号を書きなさい。

- ア. 朝鮮半島南部における軍事的な指導権を中国に認めてもらおうとした。
イ. 小野妹子を隋に派遣し、隋の進んだ制度や文化を取り入れようとした。
ウ. 九州に防人とよばれる兵士をおき、朝鮮式山城を築くなど、中国の攻撃にそなえた。
エ. 中国の律令をまねて、大宝律令を制定し、中央集権国家を目指した。

(4) テーマ3について、この時代の仏教を説明する文としてあてはまらないものを、次のア～エから1つ選び、その記号を書きなさい。

- ア. 行基ぎょうきのように一般の人々の間で布教する僧があらわれた。
イ. 国ごとに国分寺・国分尼寺がつくられた。
ウ. 当時の僧は税を免除されていた。
エ. 最澄ひえいざんが比叡山えんりやくに延暦寺を建て、学問や厳しい修行をした。

(5) テーマ4について、次の(a), (b)の各問いに答えなさい。

ア	院政のはじまり
イ	坂上田村麻呂による遠征
ウ	遣唐使の廃止
エ	平等院鳳凰堂の完成

(a) 右のア～エのカードは、テーマ4の間に起こったできごとを示したものである。ア～エのカードを書かれた内容の古いものから順に並べると、3番目にくるカードはどれか、その記号を書きなさい。

(b) 国風文化について述べた、次の文の□□□□にあてはまる語句を漢字4字で書きなさい。

9世紀には、漢字を変形させて日本語の発音を表せるように工夫した□□□□が作られた。
□□□□は感情を書き表しやすくしたため、女性による多くの文学作品が生まれ、国風文化が栄えた。

(6) テーマ5について、承久の乱が起こったときに、実質的に幕府を動かしていた役職は何か、漢字2字で書きなさい。

- 4 さくらさんのクラスでは、「明治時代から昭和時代までの日本の政治」というテーマで調べ学習を行い、その内容を【A】～【D】にまとめた。これを見て、あとの各問いに答えなさい。

【A】板垣退助は、政府内部の争いに敗れて、①西郷隆盛とともに政府を去った。そして民撰議院設立の建白書を②政府に提出し、当時の政治を専制的であると批判した。これが自由民権運動の出発点となり、この運動は全国的な規模となった。

【B】藩閥政府をたおし、憲法に基づく政治を守ることをスローガンとする第一次護憲運動が起こると、民衆もこれを支持した。特に第一次世界大戦後は、③民主主義(デモクラシー)が強く唱えられるようになっていき、第二次護憲運動を経て、男子普通選挙が実現するにいたった。

【C】世界恐慌が起こり、④各国は対策をとった。日本の関東軍は、中国大陸での軍事行動を拡大後、国の建国を宣言し、これを支配した。中国は、日本の軍事行動を侵略であると⑤国際連盟に対して訴えた。

【D】日本の領土はポツダム宣言に基き、連合軍によって占領された。1951年、⑥日本はアメリカなど48か国との間で条約を結び、主権を回復した。日本は1960年代の⑦高度経済成長を経て、国際社会から経済大国と認められるようになった。

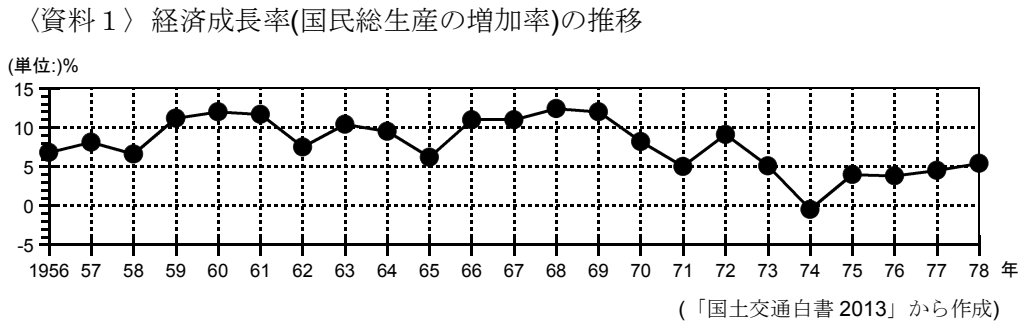
- (1) 【A】の時代と合致する社会の様相として最も適当なものを、次のア～エから1つ選び、その記号を書きなさい。
- ア. 1冊1円の円本や、ラジオ放送の全国普及などにより、大衆文化が発展した。
イ. 重化学工業が発展し、国産化が進められた自動車産業でも新しい財閥が成長した。
ウ. 道路にはランプやガス灯がつけられ、洋服や帽子などが普及するなど文明開化が始まった。
エ. テレビ・洗濯機・冷蔵庫など家庭電化製品が普及し、郊外には大規模な団地が建設された。
- (2) 1877年に、下線部①を中心とした鹿児島^の士族などが起こした反乱を書きなさい。
- (3) 下線部②について、この時の政府の中心人物で、1878年に暗殺されたのは誰か、名前を漢字で書きなさい。
- (4) 下線部③について、美濃部達吉が唱えた考え方として正しいものを、次のア～エから1つ選び、その記号を書きなさい。
- ア. 天皇機関説 イ. 天皇主権説 ウ. 三民主義 エ. 民本主義
- (5) 下線部④について、国名と対策の組み合わせとして最も適当なものを、次のア～エから1つ選び、その記号を書きなさい。
- ア. アメリカー五か年計画 イ. イギリスーブロック経済
ウ. ソ連ーニューディール エ. ドイツー鉄血政策
- (6) 【C】の文章中のに入る語句を漢字で書きなさい。

(7) 下線部⑤の結果, 起こったできごととして正しいものを, 次のア～エから1つ選び, その記号を書きなさい。

- ア. 建国を宣言した国の元首には, 清の最後の皇帝である溥儀が就任した。
- イ. 朝鮮では, 日本からの独立を訴える三・一独立運動が展開された。
- ウ. 日本は, 中国の訴えに反発し, 柳条湖で南満州鉄道の線路を爆破した。
- エ. リットン調査団の報告に基づいて行われた勧告に反発した日本は, 国際連盟を脱退した。

(8) 下線部⑥の条約名を書きなさい。

(9) 下線部⑦に関する資料1は, 1956年から1978年までの日本の経済成長率を示している。これを見ると, 1974年に経済成長率がマイナスとなっているが, その原因となったできごとは何か, 書きなさい。



5 ゆいさんは、公民的分野の学習のまとめを発表するために、4つのテーマを設定し、カードにした。これを見て、あとの各問いに答えなさい。

1. 世界の中の日本

2. 日本国憲法と人権の尊重

3. 現代の民主政治

4. 生産と労働

(1) 1のカードについて、次の表はゆいさんが、社会のできごとに家族のできごとを重ねた年表の一部である。これを見て、次の(a)、(b)の各問いに答えなさい。

西暦(年)	家族のできごと	社会のできごと
1966	父・母が生まれる	世界人権宣言に法的な拘束力をもたせ、人権を保障した <input type="text" value="A"/> が、国際連合において採択される。日本は1979年に <input type="text" value="A"/> を批准する。
1990	父・母が結婚する	東西ドイツ統一が実現する。
1991	私が生まれる	土地や株式の価格が上昇し、好景気が続いたバブル経済が崩壊する。
1993	妹が生まれる	E Uが発足する。

(a) に共通して当てはまる語句を書きなさい。

(b) 年表中の下線部に関して述べた、次の文の に共通して当てはまる語句を漢字2字で答えなさい。また【】にあてはまる語句をア、イから選び、その記号を書きなさい。

株式を購入した人は と呼ばれ、会社の利潤の一部を【ア 利子 ・ イ 配当】として受け取ったり、 総会で決算の承認や役人の選出などを行ったりすることができる。

(2) 2のカードについて、次の(a)、(b)の各問いに答えなさい。

(a) 日本国憲法では天皇の地位はどのように定められているか。次の条文の ~ にあてはまる語句を書きなさい。

第1条 天皇は、日本国の であり日本国民統合の であって、この地位は、主権の存する日本国民の総意に基づく。

第2条 皇位は、世襲のものであって、国会の議決した ^{こうしつてんぱん}皇室典範の定めるところにより、これを継承する。

第3条 天皇の国事に関わるすべての行為には、内閣の と を必要とし、内閣が、その責任を負ふ。

第4条 天皇は、この憲法の定める国事に関する行為のみを行ひ、国政に関する権能を有しない。天皇は、法律の定めるところにより、その国事に関する行為を委任することができる。

(b) 基本的人権の一つに自由権がある。憲法第38条1項には被告人に自分に不利な供述をしなくてもよい権利が定められている。この権利は、次のア～ウのどれに当てはまるか、1つ選び、その記号を書きなさい。

〔ア. 身体の自由 イ. 精神の自由 ウ. 経済活動の自由〕

(3) 3のカードについて、次の文は国会と裁判所についてまとめたものである。これを見て、次の(a), (b)の各問いに答えなさい。

国会	裁判所
<ul style="list-style-type: none"> ◆①<u>二院制</u>がとられ、国権の最高機関とされる。 ◆国会で議決された法律や予算などに基づき、行政を担当するのは、②<u>内閣</u>である。 ◆国の唯一の立法機関として、法律を制定する。 	<ul style="list-style-type: none"> ◆国会で議決された法律に基づき、司法を担当する。 ◆1つの事件について3回まで裁判を求めることができる三審制がとられている。 ◆2009年から、一部の刑事裁判に③<u>裁判員制度</u>が導入された。

(a) 下線部①について述べた文として正しいものはどれか、次のア～エから1つ選び、その記号を書きなさい。

〔ア. 衆議院の議員数は、参議院議員の議員数より2倍以上いる。
イ. 衆議院議員の任期は6年であり、3年ごとに半数が改選される。
ウ. 衆議院は、参議院より先に予算の審議を行う。
エ. 参議院議員選挙では、小選挙区比例代表並立制が採用されている。〕

(b) 下線部②について、国会と内閣は議院内閣制で結びついている。憲法によると衆議院で内閣不信任決議が可決された場合、内閣は何をしなければならないと定められているか。次の条文の□に適する語句を書きなさい。

第69条 内閣は、衆議院で不信任の決議案を可決し、又は信任の決議案を否決したときは10日以内に衆議院が解散されない限り、□をしなければならない。

(c) 下線部③について、この制度はどの裁判所において行われるか、次のア～オから1つ選び、その記号を書きなさい。

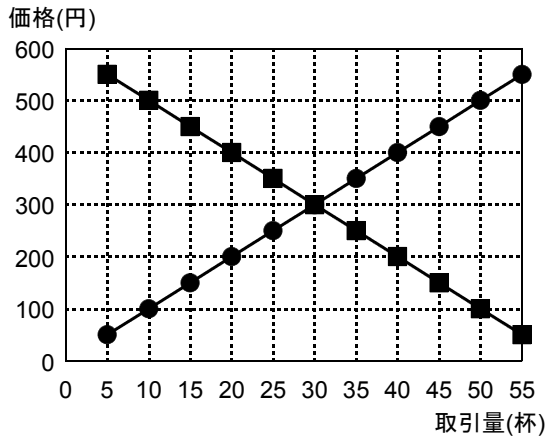
〔ア. 最高裁判所
イ. 高等裁判所
ウ. 地方裁判所
エ. 家庭裁判所
オ. 簡易裁判所〕

(4) 4のカードについて、次の①～④の文章はジュースを販売するAさん・Bさんについてのもの
 である。これを見て、あとの各問いに答えなさい。

- ① Aさんは最初1杯の価格を500円に設定したが、友達から「高い」と言われ、価格を変更した。
 ② Aさんは、たくさんジュースを作るためにBさんを雇った。しかし、Bさんは賃金が安く不満
 だった。
 ③ Bさんは自分の店を開くことを決めた。2つの店はお互いの利益が増えるよう競い合った。
 ④ 結局2人は競い合うのをやめて、それぞれの店でジュースを同じ価格で売ることになった。

(a) ①の場面について、資料1は、ジュースの需要と供給の関係を表したものである。資料2の
 [X], [Y]にあてはまる数量をそれぞれ書きなさい。

〈資料1〉



〈資料2〉

価格が500円するとき需要量は [X] 杯
 となる。このままでは40杯が売れ残
 るので、価格を [Y] 円にすると、
 需要量と供給量がつり合う。

(b) ②の場面ではBさんがAさんの店で働いている。わが国の労働者の賃金にかかる所得税につ
 いて述べた文として正しいものはどれか、次のア～エから1つ選び、その記号を書きなさい。

- ア. 納税者と担税者は同じであり、地方税である。
 イ. 納税者と担税者は異なり、地方税である。
 ウ. 納税者と担税者は同じであり、国税である。
 エ. 納税者と担税者は異なり、国税である。

(c) 2つの店の関係が③から④に変化した際に消費者にとって不利益になる可能性がある。この
 問題を防ぐために企業の公正で自由な競争をうながし、消費者の利益を守るため、1947年に制
 定されたわが国の法律を書きなさい。

これで問題は終わりです。