

平成30年度入学試験

一般方式試験問題

社 会

注 意


1. 開始のチャイムが鳴るまで開いてはいけません。
2. 受験番号を解答用紙の2カ所に書き、答えはすべて解答用紙に書きなさい。
3. 問題は **1** から **5** までで、10 ページにわたって印刷してあります。
4. 終了のチャイムが鳴ったら、すぐに筆記用具を置きなさい。

セントヨゼフ女子学園中学校

1 次の年表を見て、あとの問いに答えなさい。

年表 日本と中国とのかわり	時代	弥生時代	(3世紀)	(7世紀)	奈良時代	鎌倉時代	室町時代	江戸時代	1894年	1931年	1937年	1945年	1949年	1972年	1978年
	いざい		日本に米作りが広がる…①	邪馬台国が栄える…②	中国に使者をつかわす…③	鑑真が日本に来る…④	元がせめてくる…⑤	明と貿易をする…⑥	清	日清戦争がおこる…⑦	日本が満州を占領する…⑧	日中戦争がおこる…⑨	戦争がおわる…⑩	中華人民共和国ができる…⑪	中国と国交が正常化する…⑫

問1 年表の①に関連して、このころのようすは銅鐸どうたくにえがかれた絵からうかがえます。右の2枚の絵からはどのようなことがわかりますか。「米」という語句を使って説明しなさい。



問2 年表の②に関連して、この国があった中心は、右の地図ちずに示した2つの遺跡いせきのいずれかではないかと言われています。地図を参考に、次の文中の(A)・(B)にあてはまる地方名を答えなさい。

邪馬台国は、吉野ヶ里遺跡がある(A)地方にあったとする説と、纏向遺跡がある(B)地方にあったとする説が注目されている。



問3 年表の③に関連して、「日がのぼる国の天子、国書を日がしずむ国の天子に届けます」ではじまる国書を中国の皇帝こうていに差し出し、皇帝が不機嫌ふきげんになったと伝わるのはどちらの使者ですか。次のア・イから1つ選び、記号で答えなさい。

- ア 遣隋使 イ 遣唐使

問4 年表の④に関連して、鑑真が奈良に建てた寺として正しいものを、次のア～エから1つ選び、記号で答えなさい。

- ア 東大寺 イ 正倉院 ウ 法隆寺 エ 唐招提寺

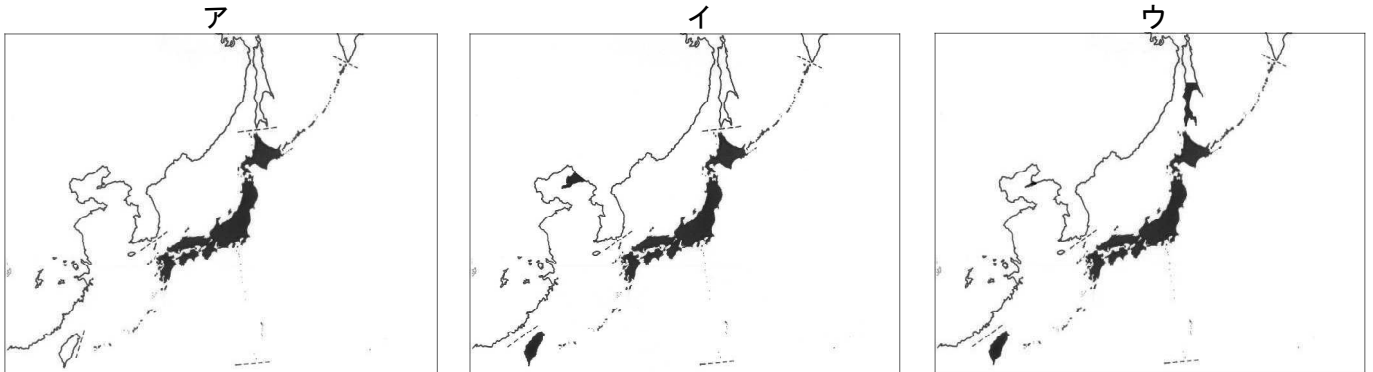
問5 年表の⑤のときの、武士や幕府のようすについて説明した文として正しいものを、次のア～エから1つ選び、記号で答えなさい。

- ア 武士たちは、火薬兵器と集団戦法で元軍を退しりぞけた。
 イ 武士たちは、ほうびを得るために必死に戦いぬいた。
 ウ 幕府は、活躍かつやくした武士たちすべてに新しい領地をあたえた。
 エ 幕府は、元軍の来しゅうに備えて幕府のすべての組織を九州に移した。

問6 年表の⑥に関連して、このころの中国との貿易について説明した文として正しいものを、次のア～エから1つ選び、記号で答えなさい。

- ア 足利義満は、中国との貿易で大きな利益を得た。
- イ 出島の商館長は、中国のできごとだけを報告書に記し、幕府に提出した。
- ウ 将軍がかわるごとに、通信使と呼ばれる使節が中国から来日した。
- エ 幕府は、松前藩を通じて中国のめずらしい品物を手に入れた。

問7 年表の⑦に関連して、この戦争の講和の際に決まった日本の領土(黒くぬりつぶした部分)として正しいものを、次のア～ウから1つ選び、記号で答えなさい。



問8 年表の⑧に関連して、中国はこれを侵略^{しんりやく}であるとして国際組織にうったえ、調査団が送られました。調査団を送り「満州国」を認めないと決議した、この国際組織の名を漢字4字で答えなさい。

問9 年表の⑨について、この戦争のきっかけとして正しいものを、次のア～エから1つ選び、記号で答えなさい。

- ア 日本軍と中国軍がペキン(北京)の近くで衝突^{しやうとつ}した。
- イ 日本がフランスと同盟を結んで民族運動に対抗した。
- ウ 日本軍がハワイのアメリカ軍基地やイギリス領のマレー半島^{こうげき}を攻撃した。
- エ 日本軍が中国軍のしわざにみせかけて、南満州鉄道の線路を爆破^{ばくは}した。

問10 年表の⑩について、この戦争が終わった日として正しいものを、次のア～エから1つ選び、記号で答えなさい。

- ア 4月1日 イ 8月6日 ウ 8月15日 エ 12月8日

問11 年表の⑪に関連して、この後日本の経済は急速に発展し、豊かなくらしは「三種の神器^{じんぎ}」になぞらえた製品に象徴^{しやうちやう}されました。1950年代後半からの「三種の神器」として正しいものを、次のア～クから3つ選び、記号で答えなさい。

- ア 電気せんたく機 イ 自動車 ウ カラーテレビ エ パソコン
- オ クーラー カ 携帯電話^{けいたい} キ 電気冷蔵庫 ク 白黒テレビ

問12 年表の⑫に関連して、このときの記念に中国から日本に贈^{おく}られた動物は何ですか。

問13 年表の⑬に関連して、同じ年に日本に返還^{へんかん}された領土を答えなさい。

2 次の①～⑧の巻物は、日本の文化の歴史についてまとめたものです。あてはまる時代として正しいものを、あとのア～クからそれぞれ1つずつ選び、記号で答えなさい(同じ記号を2回以上使うことがあります)。

①

絵画では、浮世絵が多くの人々に喜ばれた。貴族や武士のためにえがかれたこれまでの絵画とはちがいで、歌舞伎役者や人の世(浮世)の日常の姿が題材とされ、のちには多色刷りのものもあらわれた。代表的な浮世絵師の一人に、歌川(安藤)広重がいる。

②

武士や貴族が楽しむようになった茶の湯は、茶を飲む習慣として町や村にも広まった。さらに、貴族や武士だけでなく、民衆が参加して楽しむ文化が生まれた。祭りや田植えのときにおこなっていた踊りが、能や狂言へと発展した。

③

16世紀の中ごろから、ポルトガルやスペインの商人が九州の各地に来るようになり、ヨーロッパの国々との交流が盛んになった。織田信長は、ヨーロッパから伝わった技術や文化を利用して、寺社の勢力をうばうことをねらい、キリスト教を保護した。

④

金閣は3階建てで、1階は寝殿造、2階は寝殿造と書院造が合わさったつくりで、3階は中国式のお堂になっている。銀閣のとなりにある東求堂の書院造は、ふすまや障子でしきられ、たたみがしきつめられており、今の和室のもとになった。

⑤

くらしのなかに、欧米の制度や生活様式が取り入れられた。郵便や電信制度が整い、鉄道も開通した。新聞や雑誌の発行が盛んになり、人間の自由や権利を尊重する考えも広がりはじめた。

⑥

人形浄瑠璃や歌舞伎の見物は、人々の楽しみとして広まり、芝居小屋はたくさん見物客でにぎわった。近松門左衛門は、町人の苦しみや悲しみを台本に生き生きとえがき、町人たちを感動させた。

⑦

貴族たちは、和歌や舞曲・絵合わせ・けまりなどを楽しみ、その教養をきそった。女性の服装も十二単のように日本風が変わり、囲碁やすごろくで遊ぶようすが大和絵にえがかれた。

⑧

もとおりのりなが
本居宣長は『古事記』の研究を進め、35年にわたる苦心のすえ、44巻にのぼる『古
事記伝』を書き上げた。また、すぎたげんぼく杉田玄白はオランダ語で書かれた人体かいぼう書を手
に入れ、3年半ほど苦勞を重ねてほん訳を完成させ、『解体新書』として出版した。

ア 縄文時代

イ 平安時代

ウ 鎌倉時代

エ 室町時代

オ 安土桃山時代

カ 江戸時代

キ 明治時代

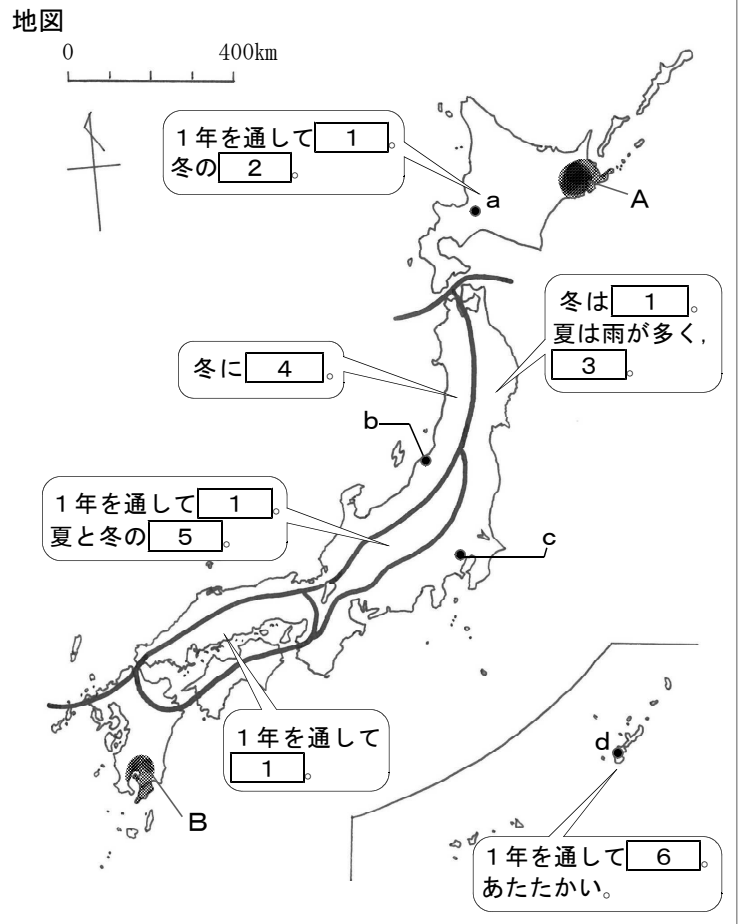
ク 大正時代

(は次のページにあります)

3 日本の気候と農業に関する次の文を読んで、あとの問いに答えなさい。

日本の国土は南北に長く、山がちな地形をしており、①地域によって気候も異なっています。こうした気候のちがいは、季節風とも関係があり、②地形とともにそれぞれの地域に特色をもたらしています。

各地に住む人々は、気候や地形に合わせて、くらしや産業にさまざまなくふうをしました。農業においては、せまい耕地で、安全で③質の高い農産物を生産してきたのです。しかし、④食生活の変化から、農産物の輸入が増え、最近では⑤将来の食料について、より安全・安心をもとめる声が高まっています。

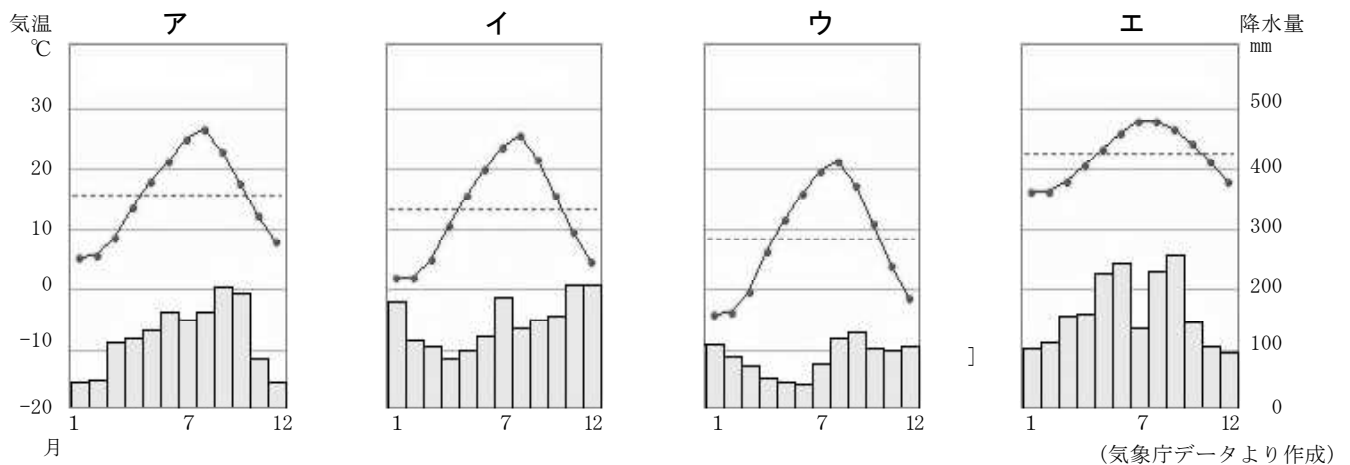


問1 下線部①に関連して、地図は日本の気候区分をあらわしています。(1)・(2)に答えなさい。

(1) 地図中の **1** ~ **6** にあてはまることばを、次のア~クからそれぞれ1つずつ選び、記号で答えなさい(同じ番号には同じことばが入ります)。

- | | | |
|------------|------------|---------|
| ア 気温の差が大きい | イ 気温の差が小さい | ウ 雨が多い |
| エ 雨が少ない | オ 雪が多い | カ 雪が少ない |
| キ 寒さがきびしい | ク むし暑い | |

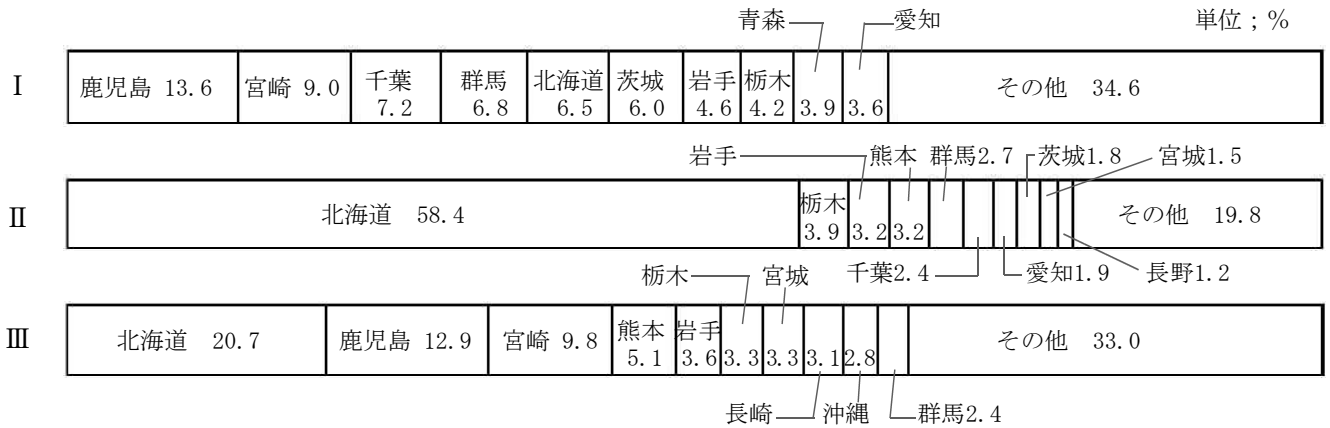
(2) 地図中の a ~ d の都市の月別平均気温と降水量を示したグラフとして正しいものを、次のア~エからそれぞれ1つずつ選び、記号で答えなさい。(グラフ中の.....は年平均気温を示す)



問2 下線部②に関連して、(1)・(2)に答えなさい。

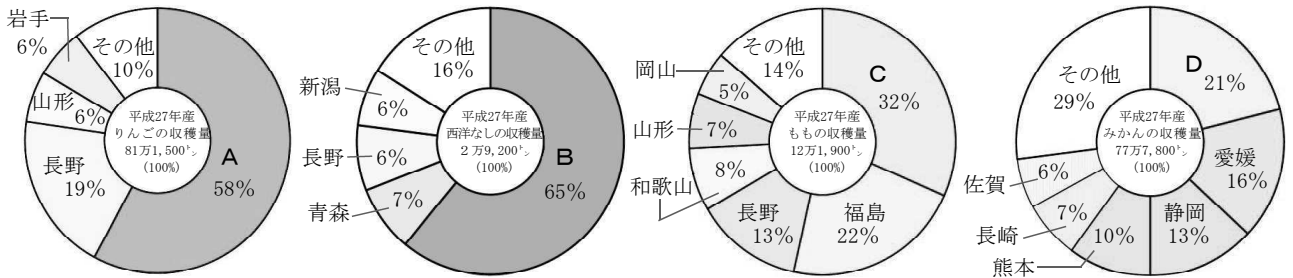
(1) 地図中に **■** で示した A・B は、火山灰が降り積もって周囲より高くなった台地です。それぞれ何と呼ばれていますか。

(2) (1)のような地形は耕作に不向きなため、畜産業がさかんです。次のⅠ～Ⅲのグラフは、おもな畜産物の出荷割合の上位10道県を示しています。Ⅰ～Ⅲの畜産物の組み合わせとして正しいものを、あとのア～エから1つ選び、記号で答えなさい。



- ア Ⅰ－豚 Ⅱ－肉牛 Ⅲ－乳牛 (農林水産省『畜産統計(平成28年2月1日現在)』より作成)
- イ Ⅰ－肉牛 Ⅱ－豚 Ⅲ－乳牛
- ウ Ⅰ－豚 Ⅱ－乳牛 Ⅲ－肉牛
- エ Ⅰ－乳牛 Ⅱ－豚 Ⅲ－肉牛

問3 下線部③に関連して、次の4つの円グラフはいずれもくだもの作りがさかんな県を示しています。グラフ中のA～Dの県の組み合わせとして正しいものを、あとのア～エから1つ選び、記号で答えなさい。

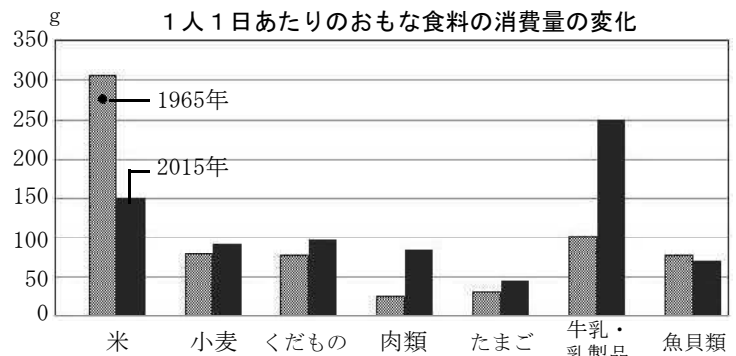


(農林水産省『果樹生産出荷統計』より作成)

- ア A－青森 B－山形 C－山梨 D－和歌山
- イ A－福島 B－鳥取 C－山梨 D－三重
- ウ A－青森 B－鳥取 C－静岡 D－和歌山
- エ A－福島 B－山形 C－静岡 D－三重

問4 下線部④について、右のグラフからよみとれることとして正しいものを、次のア～エから1つ選び、記号で答えなさい。

- ア 最近の人たちは、50年前にくらべて少食になった。
- イ 最近では、ほとんどの人が肉を主食として食べるようになっている。
- ウ 50年前にくらべて消費量が減ったのは、米と魚貝類である。
- エ 50年前にくらべて消費量が倍以上に増えたのは、牛乳・乳製品だけである。



(農林水産省『平成27年度食料需給表』より作成)

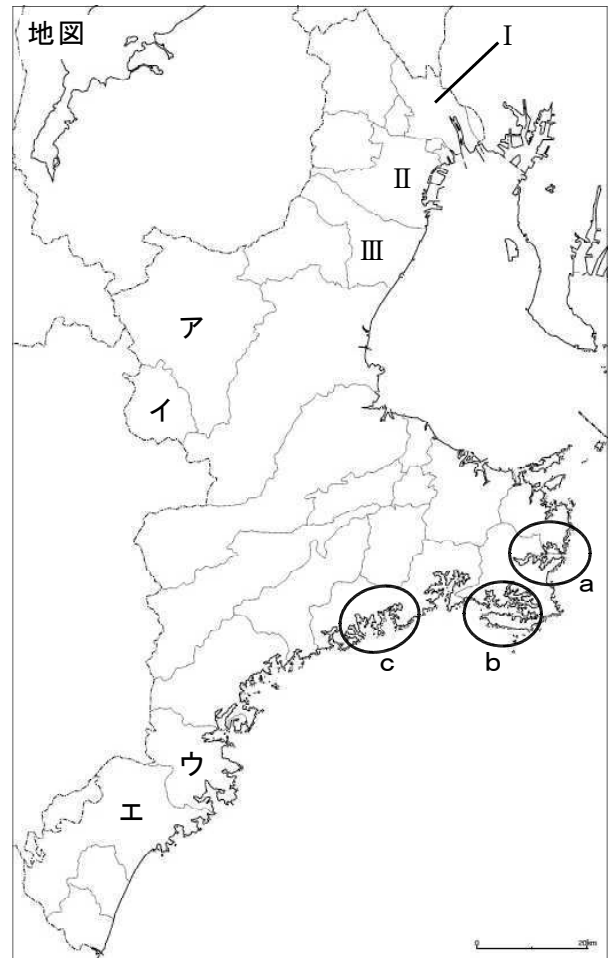
問5 下線部⑤に関連して、農林水産省は、「アニマルウェルフェアに配慮した家畜の飼育管理」をすすめています。「アニマルウェルフェア」とは、「動物がその生活している環境にうまく対応している態様(ありさま)」と定められ、家畜の能力を引き出し、健康に育てることが求められています。乳牛・肉牛・豚・にわとりの中から1種類を選び、アニマルウェルフェアに合わせた具体的な飼育方法を考え、書きなさい。

4 次の文を読んで、あとの問いに答えなさい。

三重県は、①第42回主要国首脳会議(伊勢志摩サミット)を終えて、県内のさまざまな観光地やイベント、温泉、宿泊など、三重県の旅行情報を提供することに力を入れています。より多くの観光客が三重県を訪れてくれれば、そこに仕事が生まれ、三重県を活性化できると考えているのです。

三重県観光連盟公式サイト「観光三重」では、「はやわかり三重」というページで「Q：三重ってなにがあるの？」との質問に「伊勢神宮、②熊野古道、海女、③伊賀の忍者、伊勢海老、松阪牛、(中略)…これ全部、三重にあること、ご存知でしたか？」とまとめています。

しかし、観光だけでなく、三重県には他にもみどころがあります。県のホームページにある「みえDataBox」を見ると、④工業製品の出荷金額など、いろいろな日本一があり、「その他の日本一」として、⑤日本一古い「いろは歌」墨書土器が見つかることや、⑥日本一短い地名・駅名があることでも有名です。三重県に住んでいるわたしたちみんなが、もっとよく地元のことを知り、県外や海外の人々に発信できるようにならなくては いけませんね。



問1 下線部①に関連して、2017年5月、「伊勢志摩サミット記念館 サミエール」がオープンした場所として正しいものを、次のア～エから1つ選び、記号で答えなさい。

- ア 伊勢市駅 イ 賢島駅 ウ 宇治山田駅 エ 鵜方駅

問2 下線部②に関連して、熊野古道が登録されている世界遺産の分類として正しいものを、次のア～エから1つ選び、記号で答えなさい。

- ア 文化遺産 イ 自然遺産 ウ 複合遺産 エ 記憶遺産

問3 下線部③に関連して、伊賀市には、忍者について学べる「伊賀流忍者博物館」があります。伊賀市の位置として正しいものを、地図中のア～エから1つ選び、記号で答えなさい。

問4 下線部④について、次の資料中の(1)のひとつに「萬古焼」があげられます。地図中のⅠ～Ⅲから萬古焼の主な生産地にあてはまる市町の位置を選んだものと、資料中の(2)に関連して、真珠の養殖がさかんな英虞湾の位置を地図中のa～cから選んだものを、あとの表にまとめました。組み合わせとして正しいものを、表中のア～ケから1つ選び、記号で答えなさい。

資料 工業製品出荷金額日本一(従業員4人以上の事業所)ベスト5(平成26年)

品目名	三重県値 (単位：百万円)	全国値 (単位：百万円)	全国シェア (%)
炭素・黒鉛質ブラシ	19,528	26,384	74.0
(1)陶磁器製台所・調理用品	2,096	3,216	65.2
(2)天然・養殖真珠装身具 (購入真珠によるもの)	7,969	13,959	57.1
液晶パネル	825,624	1,467,424	56.3
錠・かざり	31,516	66,271	47.6

(三重県ホームページ：三重の統計情報「みえDataBox」より作成)

表

	ア	イ	ウ	エ	オ	カ	キ	ク	ケ
萬古焼	Ⅰ	Ⅰ	Ⅰ	Ⅱ	Ⅱ	Ⅱ	Ⅲ	Ⅲ	Ⅲ
英虞湾	a	b	c	a	b	c	a	b	c

問5 下線部⑤について、このような土器がつくられた時代として最もあてはまるものを、次のア～エから1つ選び、記号で答えなさい。

ア 弥生時代 イ 古墳時代 ウ 平安時代 エ 鎌倉時代

問6 下線部⑥について、この地名・駅名を漢字で書きなさい。

(5 は次のページにあります)

5 次の文を読んで、あとの問いに答えなさい。

2017. 7. 14. 中日新聞（写真は省略しています）

たかし： この記事のマララさんが①ノーベル平和賞を受賞したのは、たしか2014年のことだったね。
②パキスタンで銃撃されて、大変な手術をうけて回復したんだね。イラクに③子どもたちを励ましに行けるなんて、奇跡みたいだ。

みどり： テレビのニュースで見たわ。わたしは彼女が④国連本部で行った⑤2013年のスピーチを思い出したわ。

たかし： マララさんは昨年、国連平和大使に選ばれたね。新聞記事によると、マララさんはこのイラクで20歳の誕生日を迎えたそうだよ。

みどり： 「イスラム国」(IS)の占領で3年間学校に通えなかった少女と交流して「彼女の気持ち分かる」と自分の⑥ツイッターでつぶやいたそうよ。女子の⑦を受ける権利を訴え続けた彼女には学校に通えなかった少女たちの思いが分かるのね。

たかし： 戦争や紛争によって⑧が増え続けると、⑦を受けられない子どもの数もますます大きくなってしまふ。自衛隊が⑨PKOから撤退した、⑩南スーダンの子どもたちが⑧になってしまわないか心配だよ。

解放のモスルを
マフラさん激励
ノーベル平和賞受賞者の
マララ・ユスフザイさん
(二)が過激派組織「イスラ
ム国」(IS)から奪還され
たイラク・モスル近郊の避
難民キャンプを訪れ少女た
ちを激励した写真(マ
ララ基金のブログから)。
自身のツイッターで、I
Sの占領で3年間学校に通

えていない少女との交流を
紹介。「彼女の気持ちがあ
かる」とつぶやき、母国パ
キスタンでの自身の姿を重
ねた。二十歳の誕生日をイ
ラクで迎え、「一緒に立ち
上がり、まだ戦いの中にい
る少女たちに希望を与えま
しょう」と呼びかけた。

問1 下線部①に関連して、この賞を受賞した人物にあてはまらないものを、次のア～エから1つ選び、記号で答えなさい。

- ア マザー・テレサ イ マリー・キュリー ウ バラク・オバマ
エ ワンガリ・マータイ

問2 下線部②に関連して、次の表は、パキスタン、イラク、中国における女性の識字率、女性の就業率、人口を示しています。パキスタンを表しているのはどれですか。表中のア～ウから1つ選び、記号で答えなさい。

表

	女性の識字率(%) (2015)	女性の就業率(%) (2012)	人口(千人) (2016)
ア	73.8	11.4	37,548
イ	42.7	22.2	192,827
ウ	94.5	61.5	1,382,323

(『2017データブック オブ・ザ・ワールド』、国際統計格付センター「世界ランキング」より作成)

問3 下線部③について、紛争にまきこまれた子どもたちに、食料を配給するなど、発展途上国の子どもたちのための支援を目的とした国連の組織として正しいものを、次のア～エから1つ選び、記号で答えなさい。

- ア UNICEF イ UNESCO ウ WTO エ IMF

問4 下線部④について、国連には現在(2016年9月現在)何カ国が加盟していますか。正しいものを次のア～エから1つ選び、記号で答えなさい。

ア 153カ国 イ 173カ国 ウ 193カ国 エ 203カ国

問5 下線部⑤について、この時のマララさんの演説の空欄くうらんに入る語句を答えなさい。

1人の子ども、1人の□□□□、1冊の本、そして1本のペンが、世界を変えられるのです。

問6 下線部⑥について、このロゴマークとして正しいものを、次のア～エから1つ選び、記号で答えなさい。



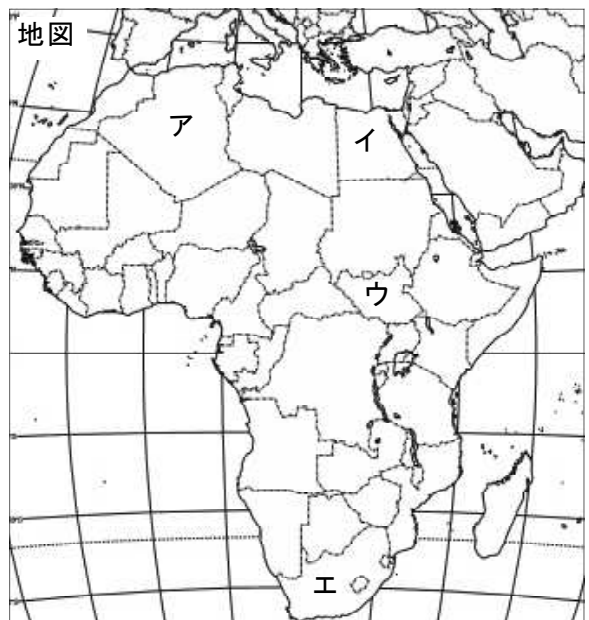
問7 文中の□⑦に入る語句を漢字2字で答えなさい。

問8 文中の□⑧に入る語句を漢字2字で答えなさい。

問9 下線部⑨について、PKOのために自衛隊が最初に派遣された国として正しいものを、次のア～エから1つ選び、記号で答えなさい。

ア ミャンマー イ アフガニスタン
ウ カンボジア エ シリア

問10 下線部⑩について、この国の位置として正しいものを、右の地図中のア～エから1つ選び、記号で答えなさい。



これで問題は終わりです。

社 会 (I)

注意：1. (I) (II) のそれぞれに受験番号を記入する。
 2. ※印の欄には記入しない。

1

問1						※		
問2	A	地方	B	地方				
問3		問4		問5		問6		※
問7		問8						
問9		問10						
問11								※
問12			問13					

2

①		②		③		④		※
⑤		⑥		⑦		⑧		

受 験 番 号			

※ 得 点	

3

問 1	(1)	1		2		3		4	
		5		6					
	(2)	a		b		c		d	

※

問 2	(1)	A	台地	B	台地	(2)	
-----	-----	---	----	---	----	-----	--

問 3		問 4		
-----	--	-----	--	--

※

問 5	
-----	--

※

4

問 1		問 2		問 3		問 4	
-----	--	-----	--	-----	--	-----	--

問 5		問 6	
-----	--	-----	--

※

5

問 1		問 2		問 3		問 4	
-----	--	-----	--	-----	--	-----	--

問 5		問 6		問 7		
-----	--	-----	--	-----	--	--

問 8		問 9		問 10	
-----	--	-----	--	------	--

※

受 験 番 号			

※ 得 点	