

# 平成30年度入学試験

## 試験問題

# 社 会

### 注 意

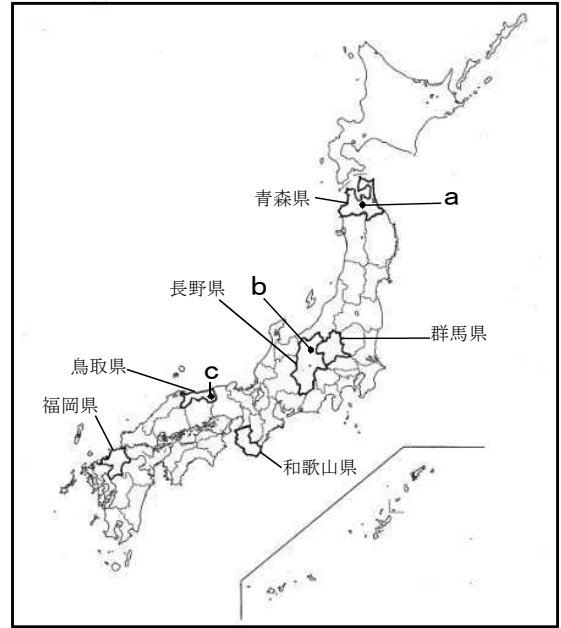
1. 開始のチャイムが鳴るまで開いてはいけません。
2. 受験番号を解答用紙の2カ所に書き、答えはすべて**解答用紙**に書きなさい。
3. 問題は **1** から **5** までで、10ページにわたって印刷してあります。
4. 終了のチャイムが鳴ったら、すぐに筆記用具を置きなさい。

セントヨゼフ女子学園高等学校

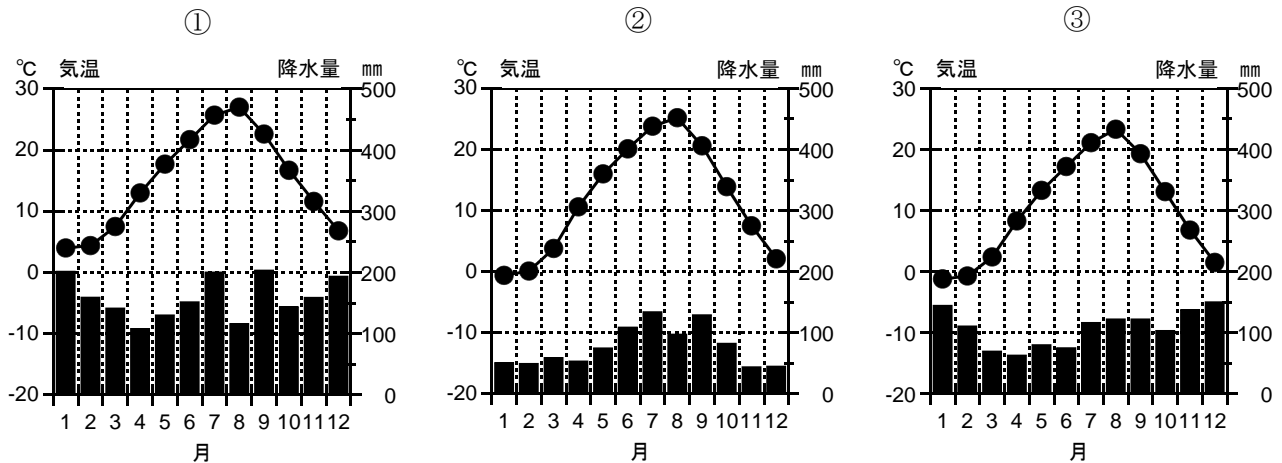
1 次の略地図を見て、あとの各問いに答えなさい。

(1) 下の①～③のグラフは、略地図に a～c で示した都市の月別平均降水量と月別平均気温を表したものである。①～③にそれぞれあてはまる都市の組み合わせとして最も適当なものはどれか、次のア～エから1つ選び、その記号を書きなさい。

〈略地図〉



- ア. ① - a      ② - b      ③ - c
- イ. ① - b      ② - c      ③ - a
- ウ. ① - c      ② - a      ③ - b
- エ. ① - c      ② - b      ③ - a



(気象庁データから作成)

(2) 次の資料1は略地図に示した、青森県・群馬県・長野県・和歌山県・鳥取県・福岡県の6県における第2次産業比率・人口密度・耕地率を表にしたものである。①・②・⑤にあてはまる県名の組み合わせとして最も適当なものはどれか、次のア～エから1つ選び、その記号を書きなさい。

〈資料1〉

県	第2次産業比率 (%)	人口密度 (人/km <sup>2</sup> )	耕地率 (%)
①	19.8	1,027	16.9
②	30.8	315	11.3
③	20.0	139	15.9
④	21.8	165	9.9
⑤	28.5	158	8.0
⑥	21.7	210	7.1

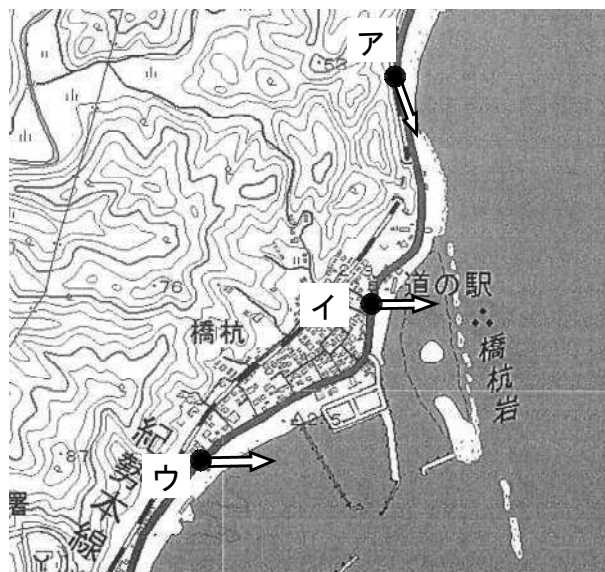
- ア. ① - 群馬県      ② - 鳥取県      ⑤ - 青森県
- イ. ① - 福岡県      ② - 群馬県      ⑤ - 長野県
- ウ. ① - 福岡県      ② - 長野県      ⑤ - 鳥取県
- エ. ① - 和歌山県      ② - 群馬県      ⑤ - 福岡県

(平成22年国勢調査・平成28年住民基本台帳・平成27年耕地及び作付面積統計ほかから作成)

(3) 次の資料2は和歌山県の一部を表した地形図である。この地形図の沖合に流れている海流の名前と、海流が暖流か寒流かの組み合わせとして最も適当なものはどれか、次のア～カから1つ選び、その記号を書きなさい。

- |            |             |
|------------|-------------|
| ア. 千島海流・暖流 | イ. 千島海流・寒流  |
| ウ. 対馬海流・暖流 | エ. リマン海流・寒流 |
| オ. 日本海流・暖流 | カ. 日本海流・寒流  |

〈資料2〉



(国土地理院地図から作成)

(4) 次の資料3は資料2の海岸沿いで写した写真である。どの方向から撮影したものか、資料2の地形図に示したア～ウから最も適当なものを1つ選び、その記号を書きなさい。

〈資料3〉



(5) 略地図に示した群馬県を含む工業地域には、自動車関連や電気機械などの工場が集まっている。次の資料4はこれらの地域の最近の変化についてまとめたものの一部である。資料4の  ・  にあてはまる最も適当な言葉を書きなさい。

〈資料4〉

かつて群馬、栃木、茨城の  3県で生産された製品の多くは国道などを利用して東京大都市圏や東京湾岸の貿易港に輸送されていた。2011年に  自動車道が全線開通したことで、交通渋滞の激しい都心を通らずに、ひたちなか市にある日立港や、輸入品の貨物取扱量が大幅に増加した  港から効率よく輸出できるようになった。

(6) 右の資料5について、次の(a), (b)の各問いに答えなさい。

(a) 資料5は略地図に示した、青森県・群馬県・長野県・和歌山県・鳥取県・福岡県の6県における老年人口率(65歳以上)を表にしたものである。老年人口率が21%以上の社会を何と呼ぶか、書きなさい。

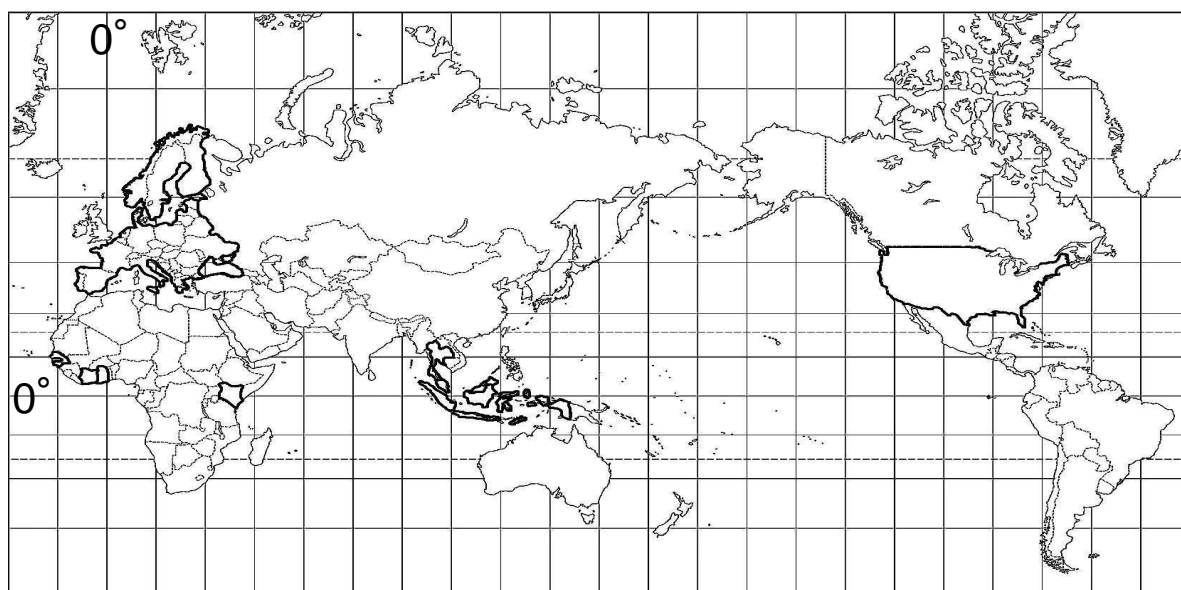
〈資料5〉

県	老年人口率 (%)
青森県	29.6
群馬県	27.1
長野県	29.5
和歌山県	30.3
鳥取県	29.3
福岡県	25.4

(b) 資料5から読み取れる人口問題について、山間部や離島では、どのようなことを行ったら定住者を増加させることができると考えるか、あなたの考えを書きなさい。

(住民基本台帳人口要覧 I  
平成28年版から作成)

- 2 次の略地図に太線で示された国や地域について、あとの各問いに答えなさい。  
 〈略地図〉



- (1) 次の資料1は略地図の図法について述べた文である。資料1の①～④にあてはまるものの組み合わせとして最も適当なものを、あとのア～カから1つ選び、その記号を書きなさい。

〈資料1〉

略地図の図法は①図法である。略地図上の任意の2点を結んだ直線は、最短距離を②。略地図上の0度の緯線を③と呼ぶ。正しい方位では、東京の東には、④がある。

- |    |         |        |         |            |
|----|---------|--------|---------|------------|
| ア. | ①－正距方位  | ②－表さない | ③－本初子午線 | ④－ニューヨーク   |
| イ. | ①－正距方位  | ②－表さない | ③－赤道    | ④－ブエノスアイレス |
| ウ. | ①－正距方位  | ②－表す   | ③－赤道    | ④－ブエノスアイレス |
| エ. | ①－メルカトル | ②－表さない | ③－赤道    | ④－ニューヨーク   |
| オ. | ①－メルカトル | ②－表す   | ③－本初子午線 | ④－ブエノスアイレス |
| カ. | ①－メルカトル | ②－表さない | ③－赤道    | ④－ブエノスアイレス |

- (2) 次の資料2はアメリカ合衆国の北東部、中西部、太平洋部、南部、山岳部の各地域における1960年と2006年の地域別工業生産額割合の変化を表している。南部を表しているものとして最も適当なものはどれか、資料2のア～エから1つ選び、その記号を書きなさい。


〈資料2〉

	ア	イ	ウ	エ	山岳部
1960年	35.6	31.6	20.2	10.9	1.7
2006年	29.1	16.0	36.6	14.2	4.1

〔注:数字は%を示す〕(現代アメリカデータ総覧2009から作成)

- (3) 次の資料3はマレーシア・タイ・インドネシアの輸出品について示している。マレーシアを表しているものとして最も適当なものはどれか、資料3のア～ウから1つ選び、その記号を書きなさい。

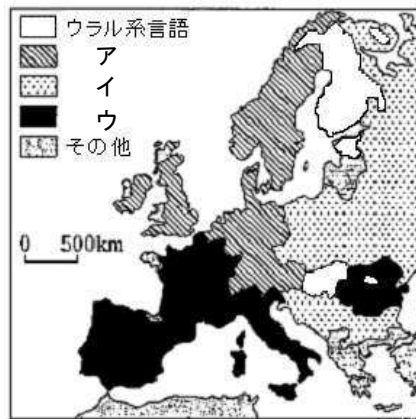
〈資料3〉



〔注:数字は%を示す〕(マレーシア・タイ2015年,インドネシア2016年)(UN Commodity Trade Statistics Databaseから作成)

(4) 右の資料4は、ヨーロッパの言語分布を示している。ラテン系言語を表しているものとして最も適当なものはどれか、資料4のア～ウから1つ選び、その記号を書きなさい。

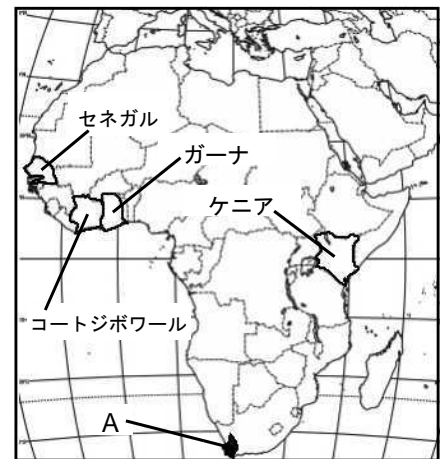
〈資料4〉



(Diercke Weltatlasから作成)

(5) 右の資料5のAの範囲は地中海性気候を示している。ここでは地中海沿岸と同じくブドウが多く生産されている理由を「乾燥」という言葉を用いて、書きなさい。

〈資料5〉



(6) 資料5に示したアフリカ大陸の①セネガル、②ガーナ、③コートジボワール、④ケニアで用いられているおもな言語の組み合わせとして最も適当なものを、次のア～エから1つ選び、その記号を書きなさい。

- |   |    |         |          |         |         |
|---|----|---------|----------|---------|---------|
| { | ア. | ①－英語    | ②－スペイン語  | ③－英語    | ④－フランス語 |
|   | イ. | ①－フランス語 | ②－英語     | ③－英語    | ④－フランス語 |
|   | ウ. | ①－英語    | ②－ポルトガル語 | ③－フランス語 | ④－英語    |
|   | エ. | ①－フランス語 | ②－英語     | ③－フランス語 | ④－英語    |

(7) 世界の国々では、さまざまな言語が用いられている。そのため、(6)のように国が公おおよその会議や文書に使用することを定めた言語がある。このような言語を何というか、書きなさい。

3 次のカードは、みどりさんの班の6人が、歴史の授業を通じて関心を持った和歌や歴史上の人物が残した言葉などについて、それぞれまとめたものの一部である。これを見て、あとの各問いに答えなさい。

A よのなか 世間を憂しとやさしと思へども  
飛び立ちかねつ鳥にしあらねば  
ひん きゆう 貧者と 窮者の問答形式をとり、当時の農民の苦しみを歌にあらわしたものである。

B この世をばわが世とぞ思ふ望月の  
欠けたることも無しと思へば  
藤原氏が栄華をきわめ、絶頂期にその思いを歌によんだものである。

C この一門にあらざらむ人は皆人非人なるべし  
にんびにん  
平氏の興亡を主題とした軍記物語のなかで、その栄華の様子をあらわしたものである。

D 白河の清きに魚のすみかねて  
もとのにごりの田沼こひしき  
江戸幕府が行った政治改革に対する風刺として生まれたものである。

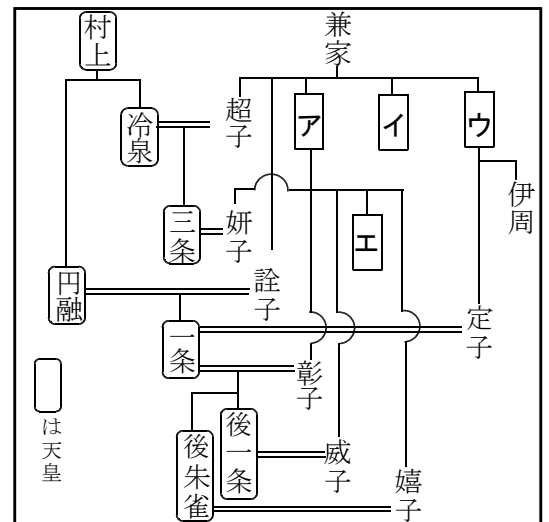
E げんし 元始、女性は実に太陽であった。真正の人  
であった。今、女性は月である。  
しんせい  
女性の解放をめざす運動をおこなうなかでつくられた文芸機関誌の創刊の辞である。

F もはや戦後ではない。  
神武景気とよばれる大型景気を迎え、1956（昭和31）年の『経済白書』に書かれ、当時の流行語ともなった言葉である。

(1) カードAについて、この歌は宮廷の歌人や貴族だけでなく、東国の民衆たちがよんだ東歌や防人歌など約4500首を収録した歌集に収められている。この歌集を何というか、その名称を漢字で書きなさい。

(2) カードBについて、この歌をよんだ人物は誰か。右の資料1の系図のA～Eから最も適当なものを1つ選び、その記号を書きなさい（なお、系図は、家系が複雑なので、わかりやすさを優先し、表記方法を一部変更した）。

〈資料1〉



〈資料2〉

(3) カードCについて、右の資料2はこの物語のあとに語られる文の一部である。ここから読み取れる当時のこの一族の勢力について具体的に書きなさい。

日本秋津嶋は纒に六十六箇国，平家知行の国卅余箇国，既に半国にこえたり。  
〔『平家物語』巻第一「我身栄花」〕

(4) カードDについて、この狂歌に込められた思いを述べた文はどれか、次のア～エから最も適当なものを1つ選び、その記号を書きなさい。

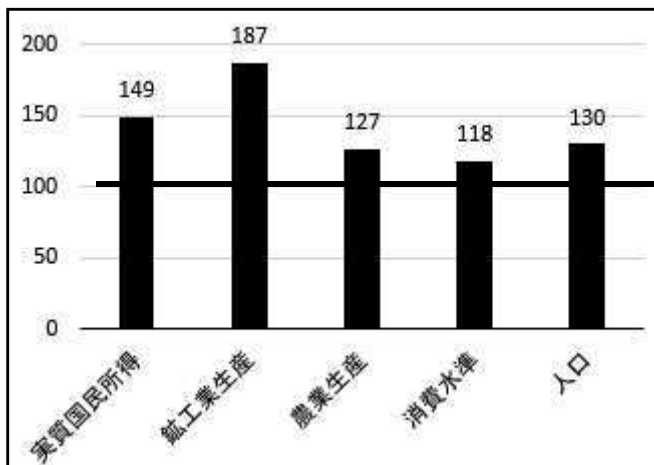
- ア. 寛政の改革の厳しさへの批判から、前の享保の改革をなつかしむ気持ち。
- イ. 寛政の改革の厳しさへの批判から、賄賂が横行した政治でも昔がよかったという気持ち。
- ウ. 天保の改革の厳しさへの批判から、前の寛政の改革をなつかしむ気持ち。
- エ. 天保の改革の厳しさへの批判から、賄賂が横行した政治でも昔がよかったという気持ち。

(5) カードEに示された女性の解放を目指す運動は、大正時代に入りさらに発展した。社会的に差別されていた女性の解放を目指すこの動きの背景には、デモクラシーの高まりや第一次世界大戦による世界の変化がある。それについて述べた文はどれか、次のア～エから最も適当なものを1つ選び、その記号を書きなさい。

- ア. 欧米諸国では、第一次世界大戦で戦場に向かった男性を女性が支え、軍需工場で働くなどして貢献した。その働きが認められ、独・米・英の国々では次々と女性が参政権を獲得した。
- イ. 第一次世界大戦後の欧米諸国では、総力戦に貢献した労働者の権利が認められ、アメリカでは1919年にワイマール憲法が制定され、労働者の団結権が定められた。
- ウ. パリ講和会議の際に国際連盟の規約をつくる会議もおこなわれ、ここで初めて人種差別撤廃が提案され、国際連盟総会で採択された。
- エ. 民族自決の考えから、アジアやアフリカでは列強の植民地支配からの独立を求める運動が活発になり、インドはガンディーの指導のもと独立を果たした。

(6) カードFについて、次の資料3は、昭和9～11年を100としたときの、昭和30（1955）年の経済回復水準を示したものである（ただし、農業生産は昭和8～10年＝100）。「もはや戦後ではない」という言葉の意味として考えられることを、資料3から読み取れることをもとにして、「戦前」という言葉を用いて、書きなさい。

〈資料3〉



（経済企画庁 昭和31年度 年次経済報告 日本経済の現段階 経済水準回復過程の終了  
昭和30年度の経済水準 第15図から作成）

4 右の表は、まりあさんの学級で、歴史的分野の学習のまとめとして、学習内容をふり返る活動を行ったときに設定されたテーマを示したものである。これを見て、あとの各問いに答えなさい。

テーマ1	ヨーロッパと日本
テーマ2	東南アジアと日本
テーマ3	ロシアと日本
テーマ4	アメリカと日本
テーマ5	沖縄の歴史
テーマ6	北海道の歴史

(1) テーマ1について、次のA～Dのカードは、16世紀から17世紀にかけて、ヨーロッパと日本が関わったできごとを示したものである。A～Dのカードを、書かれた内容の古いものから順に並べると、どのようになるか、その記号を書きなさい。

A キリスト教の布教のため、イエズス会の宣教師フランシスコ=ザビエルが来日した。

B キリスト教の力をおそれた豊臣秀吉が、宣教師の海外追放を命じて、キリスト教を禁止した。

C イギリスは平戸の商館を閉鎖し、ヨーロッパの国ではオランダのみが長崎の出島で貿易をすることとなった。

D 種子島に漂着した倭寇の船に乗っていたポルトガル人によって、日本に鉄砲が伝えられた。

(2) テーマ2について、右の資料1は、まりあさんが要点をまとめたノートの一部である。資料1のXにあてはまる最も適切な言葉は何か、漢字で書きなさい。

〈資料1〉

江戸時代初期、幕府は将軍の与えた海外渡航許可証を携帯したXによる日本人の海外渡航を積極的に奨励した。このX貿易の発展を背景に、東南アジア各地に日本人の居留地である日本町が形成された。

(3) テーマ3について、明治8(1875)年にロシアとの間で結ばれた条約によって画定した国境の説明はどれか、次のア～エから最も適切なものを1つ選び、その記号を書きなさい。

- ア. 樺太は両国人雑居の地として国境を定めない。
- イ. 小笠原諸島を日本領とする。
- ウ. 樺太をロシア領、千島列島のすべてを日本領とする。
- エ. 択捉島以南を日本領、得撫島ウルツフ以北をロシア領とする。



(4) テーマ4について、日本の歩みに深く関わったアメリカ人とその人物に関連する事柄の組み合わせはどれか、次のア～エから最も適当なものを1つ選び、その記号を書きなさい。

- ア. マシュー・ペリー：強い態度で幕府に貿易をせまり、通商条約を結ばせた。  
イ. ウィリアム・スミス・クラーク：日本画の復興、日本美術の海外への紹介につとめた。  
ウ. フランクリン・ルーズベルト<sup>(ロ)</sup>：日本・イタリアと三国同盟を結び、結束を強化した。  
エ. ダグラス・マッカーサー：GHQの最高司令官として、戦後日本の占領政策を指揮した。

(5) テーマ5について、右の資料2は1972年の沖縄の日本復帰 〈資料2〉

に先だって、1971年11月24日に衆議院で決議された原則である。  
資料2の  にあてはまる最も適当な言葉は何か、書きなさい。

政府は、核兵器を  の非核三原則を遵守するとともに、沖縄返還時に適切なる手段をもって、核が沖縄に存在しないこと、ならびに返還後も核を持ち込ませないことを明らかにする措置をとるべきである。  
〈非核兵器ならびに沖縄米軍基地縮小に関する衆議院決議〉

(6) テーマ6について、次の資料3は、北海道の名付け親として知られる松浦武四郎が著した『近世蝦夷人物誌』の現代語訳で、百数十名のアイヌに直接話を聞いてその文化・風俗・生活・人生について記録したものの一部である。資料3の波線部に語られた幕府の政策の意図について、当時の日本をとりまく国際情勢にふれて、書きなさい。

〈資料3〉

去る辰年（安政3年、1856）、蝦夷地が幕府ご直轄となると、<sup>[注]</sup>場所駐在の役人が赴任してきて、幕府のご意向として髪を和風に改めるようにと命じられた。

（略）

ところがハフラ酋長はこれに全く承服せず、駐在の役人、某氏の前に進み出てこう言った。「……このようなきに風俗を改めよとの仰せであります、風俗と申すものは、そうそうたやすく変えられるものではございません。」

（参編 巻の下 36 豪勇のハフラ酋長）

[注]「場所」とは、アイヌ交易の地を表す

『アイヌ人物誌』松浦武四郎著 更級源蔵・吉田豊訳

5 ともさんは、公民的分野の学習のまとめを発表するために、4つのテーマを設定した。これを見て、あとの各問いに答えなさい。

I 人権と共生社会

II 政府の仕事と地方自治

III 私たちの消費生活と経済

IV ささまざまな国際社会

(1) I について、次の(a), (b)の各問いに答えなさい。

(a) 人権の保障は一人一人をかけがえのない人間としてあつかうという日本国憲法第13条に基づいて規定されている。A にあてはまる言葉を解答欄に合わせて、書きなさい。

第13条 すべて国民は、個人として尊重される。生命、自由及び幸福追求に対する国民の権利については、A に反しない限り、立法その他の国政の上で、最大の尊重を必要とする。

(b) 国土交通省は平成28年に、右の資料1のように、外国人がよく訪れる施設の外国人向け地図記号を公開した。このように言葉や文化、性別、年齢、障がいの有無にかかわらず全ての人にとって使いやすいように考えられた製品や情報の設計を何というか、書きなさい。

〈資料1〉



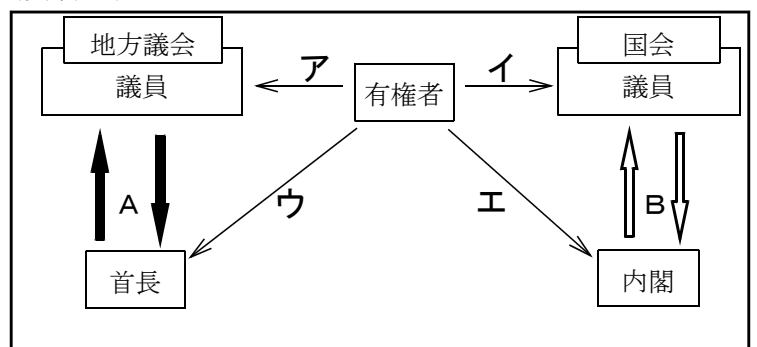
(国土地理院2016年 報道発表資料から作成)

(2) II について、次の(a), (b)の各問いに答えなさい。

(a) 次の資料2は有権者と国会、地方議会との関係を示したものである。有権者が直接選挙で選ぶ対象にあてはまらないものをア～エから1つ選び、その記号を書きなさい。

〈資料2〉

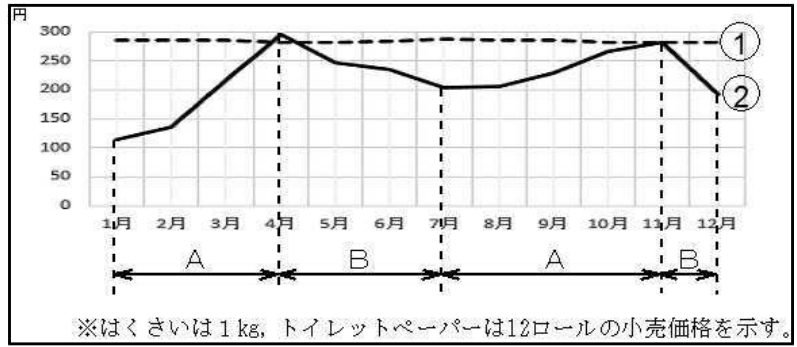
(b) 矢印A, Bは地方議会と首長, 国会と内閣におけるそれぞれの<sup>きんこう</sup>均衡と抑制の関係を示している。矢印A, Bの違いについて「責任」という言葉を用いて、書きなさい。



(3) **Ⅲ** について、次の(a), (b)の各問いに答えなさい。

(a) 右の資料3は、東京都区部における平成28年の各月のはくさいとトイレットペーパーの小売価格の変動を点線①と実線②のグラフで示したものである。また、資料4は資料3の価格動向についてまとめたものの一部である。資料4の **X**・**Y** にあてはまる最も適当な言葉を漢字で書きなさい。

〈資料3〉



(平成28年小売物価統計調査 東京都区部から作成)

〈資料4〉

資料3の実線②について、Aの期間は小売価格が上昇していることから **X** 量が **Y** 量を上回ったことがわかる。またBの期間は **Y** 量が **X** 量を上回っているため、小売価格が下落している。

(b) 資料3の点線①と実線②についての説明として、最も適当なものはどれか、次のア～エから1つ選び、その記号を書きなさい。

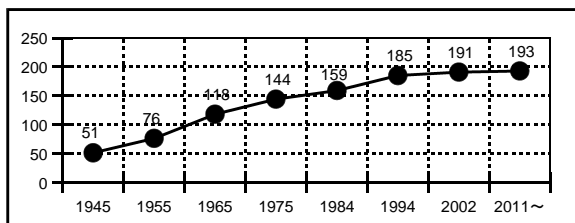
- ア. 現代の技術では常に安定して農作物を生産することができるため、点線①がはくさいである。
- イ. 農作物は、収穫量が天候に左右されやすいため、実線②がはくさいである。
- ウ. 原料となる古紙の回収量が季節によって変動するため、実線②がトイレットペーパーである。
- エ. 加工品は貯蔵ができないため、点線①がトイレットペーパーである。

(4) **Ⅳ** について、次の(a), (b)の各問いに答えなさい。

(a) 国際協力によって信頼を築こうという考えのもと、自国と密接な関係にある国に対して、武力攻撃があったとき、ともに防衛行動をとる権利を何というか、書きなさい。

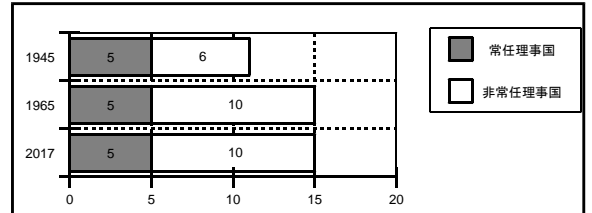
(b) 次の資料5は国際連合加盟国数の推移、資料6は安全保障理事会の議席数の推移を表したものである。ここから読み取れる国連がかかえている課題は何か、資料5, 資料6をもとにして、書きなさい。

〈資料5〉



(国際連合広報センター 加盟国一覧から作成)

〈資料6〉



(国際連合広報センター 国連主要機関メンバーから作成)

これで問題は終わりです

# 社会 ( I )

平成 30 年度 入学試験解答用紙

注意：1. (I) (II) のそれぞれに受験番号を記入する。

2. ※印の欄には記入しない。

**1**

(1)	(2)	(3)	(4)
(5)	X	Y	
(6)	(a)	社会	
	(b)	※	

**2**

(1)	(2)	(3)	(4)
(5)			
(6)	(7)		

**3**

(1)	(2)
(3)	
(4)	(5)
(6)	※

受験番号

<div style="display: flex; justify-content: space-around;"> <span style="font-size: 2em;">⋮</span> <span style="font-size: 2em;">⋮</span> <span style="font-size: 2em;">⋮</span> </div>
---

※

得点
<div style="display: flex; justify-content: center;"> <span style="font-size: 2em;">⋮</span> </div>

# 社会 ( II )

4

(1)	→	→	→	
(2)		(3)		(4)
(5)				
(6)				

※

5

(1)	(a)	⋮	⋮	⋮	⋮	
	(b)					
(2)	(a)					
	(b)					※
(3)	(a)	X	量	Y	量	
	(b)					
(4)	(a)					
	(b)					※

受験番号

⋮	⋮	⋮
---	---	---

※

得	点
⋮	⋮