

平成31年度入学試験

試験問題

社 会

注 意

1. 開始のチャイムが鳴るまで開いてはいけません。
2. 受験番号を**解答用紙**の2カ所に書き、答えはすべて**解答用紙**に書きなさい。
3. 問題は **1** から **5** までで、10ページにわたって印刷してあります。
4. 終了のチャイムが鳴ったら、すぐに筆記用具を置きなさい。

セントヨゼフ女子学園高等学校

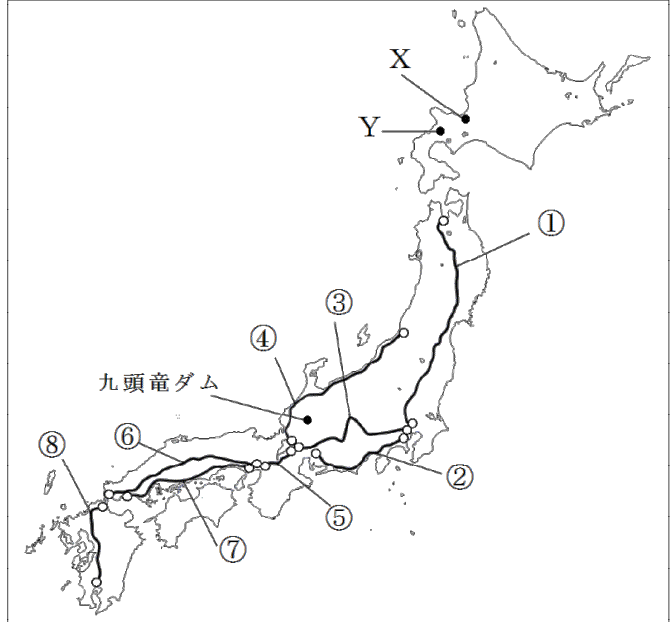
1 次の略地図を見て、あとの各問いに答えなさい。

(1) 略地図の①～⑧はおもな高速道路を示している。①～⑧にあてはまる高速道路は次の a～h のいずれかである。それぞれあてはまる高速道路の組み合わせはどれか、あとのア～エから最も適当なものを1つ選び、その記号を書きなさい。

〈略地図〉

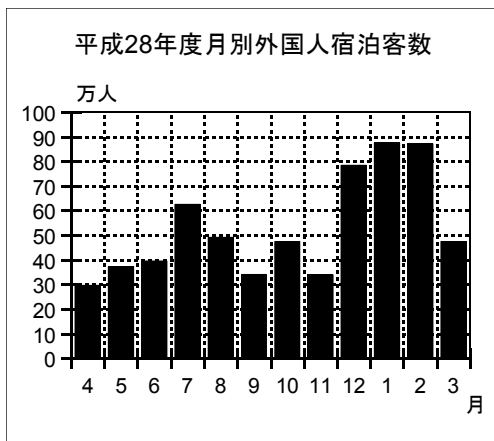
- | | |
|----------|----------|
| a 九州自動車道 | b 山陽自動車道 |
| c 中央自動車道 | d 中国自動車道 |
| e 東北自動車道 | f 東名高速道路 |
| g 北陸自動車道 | h 名神高速道路 |

- | | | | |
|---|--------|-----|-----|
| } | ア. ①－e | ②－b | ③－c |
| | イ. ④－d | ⑤－h | ⑥－f |
| | ウ. ④－g | ⑦－b | ⑧－a |
| | エ. ③－g | ⑥－d | ⑦－b |



(2) 資料1は北海道の平成28年度月別外国人宿泊客数をグラフにしたものである。資料2はこの各地の変化についてまとめたものの一部である。資料2の X～Z にあてはまる最も適当な語句を書きなさい。ただし、X・Y には略地図に X・Y で示した地名が、Z には観光の取り組みを示す言葉が入る。

〈資料1〉



(北海道経済部観光局資料より作成)

*外国人宿泊者数は、延べ人数で100の位を四捨五入

〈資料2〉

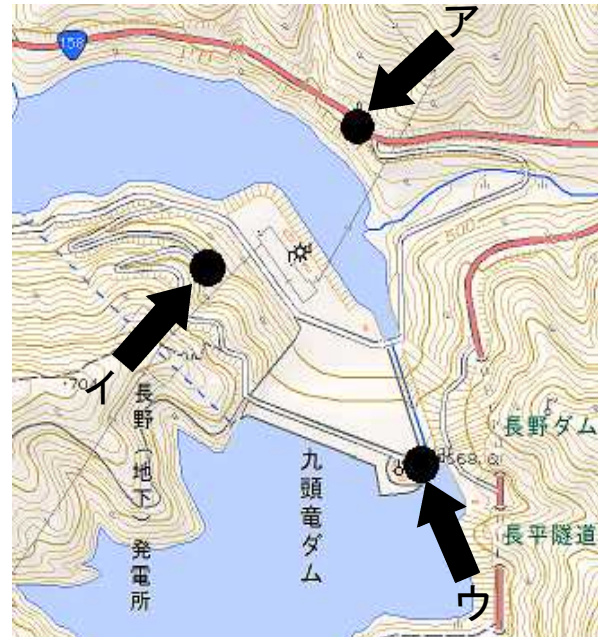
北海道には、涼しい夏を求めて多くの観光客が訪れる。また、寒さの厳しい冬にも観光客は多く、毎年2月に X で行われる雪まつりには200万人を超える人が訪れる。最近では北海道西部の Y や中央部の富良野で、パウダースノーとよばれる良質の雪でスキーやスノーボードが楽しめることが広く知られるようになり、外国人観光客も訪れる。しかし、観光客が増えるに従って自然環境の破壊が問題となっている地域もある。そこで、植物を踏み荒らすことなく、安全に散策できるように高架木道^{こうかもくどう}を設けるなど生態系の保全と観光の両立をめざした Z の取り組みが盛んになっている。

- (3) 次の資料3は九頭竜ダム沿いで写した写真である。資料4は略地図に示した九頭竜ダム付近の地形図である。どの方向から撮影したものか、資料4に示したア～ウから最も適当なものを1つ選び、その記号を書きなさい。

〈資料3〉



〈資料4〉



(国土地理院地図から作成)

- (4) ダムにはどのような役割や目的があるか書きなさい。

- (5) 資料5は大阪市中央卸売市場に入荷する野菜の入荷額の道府県別割合を示したものである。

①～③にあてはまる県の組み合わせはどれか、次のア～エから最も適当なものを1つ選び、その記号を書きなさい。

〈資料5〉

- | | |
|---|--------------------------------|
| { | ア. ①－宮崎県 ②－高知県 ③－愛媛県 |
| | イ. ①－宮崎県 ②－愛媛県 ③－高知県 |
| | ウ. ①－高知県 ②－茨城県 ③－宮崎県 |
| | エ. ①－高知県 ②－愛媛県 ③－宮崎県 |

	きゅうり (%)	なす (%)
1位	① 27.7	② 19.0
2位	福島県 12.7	熊本県 17.1
3位	② 12.5	大阪府 13.0
4位	③ 10.9	福岡県 11.6
5位	北海道 9.5	岡山県 9.8

[2013年] (大阪市中央卸売市場資料から作成)

- (6) 次の文は日本の工業について述べたものである。次のア～エから最も適当なものを1つ選び、その記号を書きなさい。

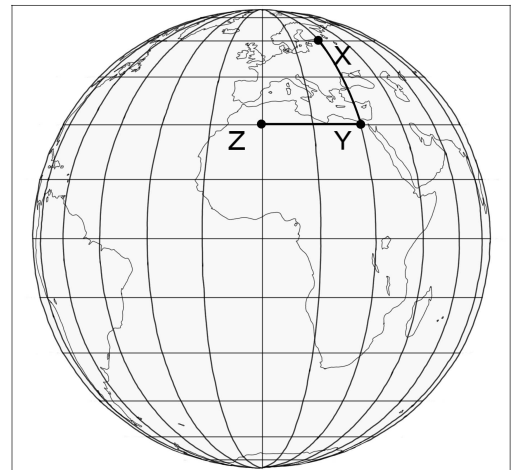
- | | |
|---|--|
| { | ア. 東北地方では、広大な土地を生かした工業団地が造られ、半導体や電子機械を造る工場や自動車工場が進出している。 |
| | イ. 紀伊半島の内陸部では、地元で採掘される石炭を加工し、セメントにするための工場が集まっている。 |
| | ウ. 瀬戸内工業地域では、海外との競争に打ち勝つために、高度な技術を必要とする印刷業やゲームソフトの開発が行われている。 |
| | エ. 北九州工業地帯では、神通川流域で発生した公害に苦しんだ時期もあったが、現在ではその経験を生かして、廃棄物を再利用する事業に取り組んでいる。 |

2 次の地図 1～3 を見て、あとの各問いに答えなさい。

(1) 右の地図 1 は赤道と本初子午線が交わる地点を中心にながめた半球図である。この図について述べた次の文が正しければ○、誤っていれば×を解答用紙に書きなさい。

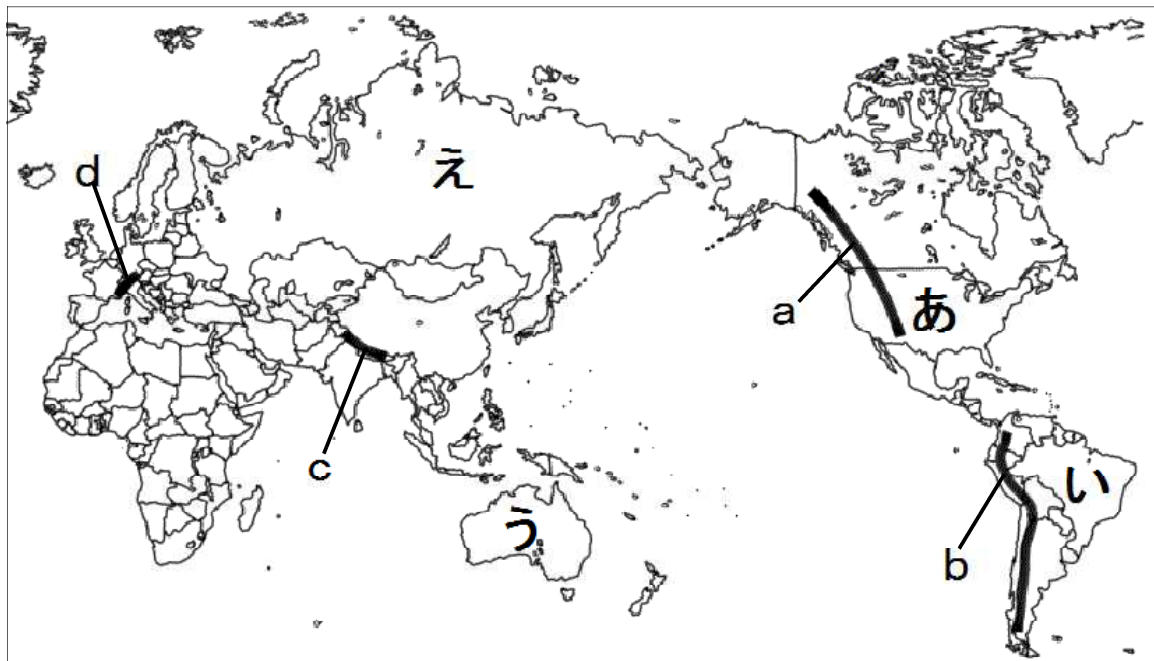
実際の地球上で、XY の距離と YZ の距離を比べると XY の方が長い。

〈地図 1〉



(2) 次の地図 2 に示されたあ～えの国の首都として正しいものを、あとのア～エから 1 つ選び、その記号を書きなさい。

〈地図 2〉

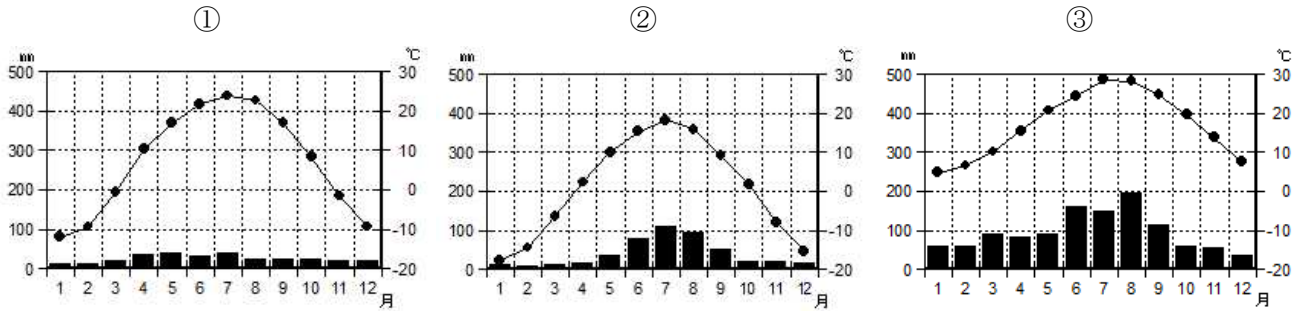


〔ア. ニューヨーク イ. リオデジャネイロ ウ. シドニー エ. モスクワ〕

(3) 地図 2 の a～d は、山脈をあらわしている。a～d の山脈名にあてはまらないものを次のア～エから 1 つ選び、その記号を書きなさい。

〔ア. アンデス山脈 イ. ピレネー山脈 ウ. アルプス山脈 エ. ヒマラヤ山脈〕

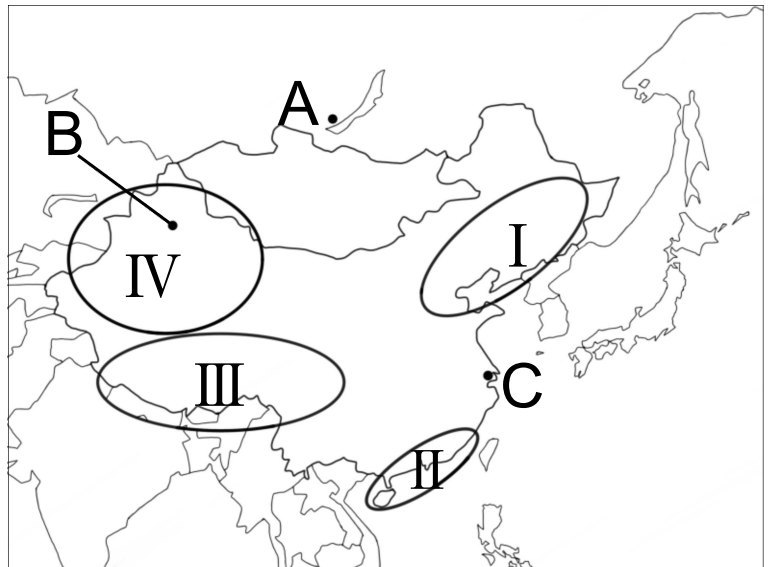
(4) 次の①～③のグラフは、地図3にA～Cで示した都市の月別平均降水量と月別平均気温をあらわしたものである。①～③にそれぞれあてはまる都市の組み合わせはどれか、あとのア～エから最も適当なものを1つ選び、その記号を書きなさい。



(気象庁データから作成)

- | | |
|---|--------------------------|
| } | ア. ①－A ②－B ③－C |
| | イ. ①－B ②－A ③－C |
| | ウ. ①－A ②－C ③－B |
| | エ. ①－B ②－C ③－A |

〈地図3〉



(5) 次のア～エは地図3のI，II，III，IV地域のそれぞれの特徴を述べた文である。II地域の特徴を述べた文はどれか、最も適当なものを1つ選び、その記号を書きなさい。

- | | |
|---|---|
| } | ア. 人口が多く工業もさかんである。経済特区が設けられており、外国企業が工場を建て、ここで生産された多くの製品が輸出されている。 |
| | イ. 鉱産資源に恵まれ、かつては重工業が発達していた地域である。畑作がさかんでとうもろこしの一種であるこうりゃんや大豆等が栽培されている。 |
| | ウ. イスラム教を信仰するウイグル族が多く住んでいる。盆地や砂漠が広がり、油田も開発されている。 |
| | エ. 高原が広がり、ラマ教を信仰するチベット族が多く住んでいる。青蔵鉄道が開通し、多くの観光客が訪れるようになった。 |

3 次のカードは、ともこさんの班の6人が、日本の世界遺産について、それぞれまとめたものの一部である。これを見て、あとの各問いに答えなさい。

A 官営模範工場である富岡製糸場は、日本の製糸業を発展させ、世界の絹産業にも影響をあたえました。

B 法隆寺は、現存する世界最古の木造建築物といわれています。

C 屋久島の「縄文すぎ」は、縄文時代から自生していることがわかってきた巨木です。樹齢は3000年以上といわれています。

D 厳島神社は、平清盛が深く敬ったことから、平氏の氏神のようになりました。

E 広島県産業奨励館は、人類史上はじめて使用された原爆の被害を伝えるため原爆ドームとして保存されています。

F 古都京都の文化財の中には、足利義満が建てた鹿苑寺の金閣ろくおんじなどがふくまれています。

(1) カードA～Fの下線部の語句や人名を古いものから順に並べると、どのようになるか、次のア～エから最も適当なものを1つ選び、その記号を書きなさい。

- ア. C→D→B→F→A→E イ. C→B→D→A→F→E
 ウ. C→D→A→B→F→E エ. C→B→D→F→A→E

(2) カードAについて、富岡製糸場では、どのような作業が行われていたか、次のア～エから最も適当なものを1つ選び、その記号を書きなさい。

- ア. 綿花から綿糸をとる
 イ. 繭まゆから生糸をとる
 ウ. 藍あいから染料をとる
 エ. 櫛はぜからろうをとる

(3) カードBについて、法隆寺が建てられたころの飛鳥文化の特徴をあらわした文はどれか、次のア～エから最も適当なものを1つ選び、その記号を書きなさい。

- ア. 南北朝時代の中国や、さらに遠いインドや西アジアなどの文化の影響を受けた文化である。
 イ. 日本の風土や生活、日本人の感情に合った文化である。
 ウ. 仏教と唐の影響を強く受けた国際的な文化である。
 エ. 国ごとに国分寺と国分尼寺を建て、仏教の力によって国家を守ろうとする仏教文化である。

(4) カードCについて、縄文時代の生活の様子をあらわした文はどれか、次のア～エから最も適切なものを1つ選び、その記号を書きなさい。

- ア. 稲作が伝えられ、人々は水田近くにむらをつくり、たて穴住居で暮らした。
- イ. 鉄製の農具が普及し、草や木を焼いた灰が肥料として使われ、米の裏作に麦を作った。
- ウ. 植物の栽培が始まり、魚や貝類が豊富にとれ、貝塚には食べ物の残りかすなどを捨てた。
- エ. 収穫を増やそうと、二毛作をとり入れ、肥料に牛馬のふんや堆肥たいひを使うようになった。

(5) カードDについて、平清盛が行ったことはどれか、次のア～エから最も適切なものを1つ選び、その記号を書きなさい。

- ア. 征夷大將軍せいゐに任命され、東北に大軍を送り勢力を広げた。
- イ. 將軍の力を弱め、執権の地位につき、その地位を独占した。
- ウ. 征夷大將軍に任命されて幕府を開き、守護の権限を強め、全国の武士をまとめようとした。
- エ. 上皇に仕え、二度の内乱で活躍し、太政大臣たいじょうという最高の官職についた。

(6) カードEについて、広島に原爆が投下された月日はいつか、次のア～エから最も適切なものを1つ選び、その記号を書きなさい。

- ア. 8月6日
- イ. 8月9日
- ウ. 8月8日
- エ. 8月15日

(7) カードFについて、古都京都の文化財でないものはどれか、次のア～エから最も適切なものを1つ選び、その記号を書きなさい。

- ア. 清水寺
- イ. 延暦寺えんりやくじ
- ウ. 平等院
- エ. 興福寺

4 右の表は、まりあさんの学級で、歴史的分野の調べ学習について、班ごとのテーマを示したものである。これを見て、あとの各問いに答えなさい。

テーマ1	キリスト教
テーマ2	イスラム教
テーマ3	仏教

(1) テーマ1について、次の(a), (b)の各問いに答えなさい。

〈資料1〉

年代	キリスト教に関するできごと
1517年	ルターが <u>宗教改革</u> を始める。
	↕ A
1549年	イエズス会の宣教師フランシスコ＝ザビエルが日本にキリスト教を伝える。
	↕ B
1587年	キリスト教の力をおそれた豊臣秀吉が、宣教師の追放を命じる。
	↕ C
1865年	開国後、長崎に外国人のための大浦天主堂が建てられる。

(a) 上の資料1は、キリスト教に関するできごとについて、まりあさんがまとめたものの一部である。資料1の宗教改革の影響を受けたキリスト教徒は何と呼ばれたか、カトリック教会に対し「抗議をする者」という意味の名称を書きなさい。

(b) 次の文は、このテーマに関する日本のできごとを示したものである。これは、資料1のどの時期にあてはまるか、最も適当なものを資料1のA～Cから1つ選び、その記号を書きなさい。

キリスト教徒への迫害や、重い年貢の取り立てに苦しんだ島原や天草の人々は、天草四郎（益田時貞）という少年を大将にして一揆を起こした。

(2) テーマ2について、この宗教について述べたものはどれか、次のア～エから最も適当なものを1つ選び、その記号を書きなさい。

- ア. 一日3回、仕事場や学校でもいのりを行う。
- イ. 牛は神聖な動物なので、牛肉は食べない。
- ウ. 唯一の神アラーへの絶対服従を唱えている。
- エ. 教典は新約聖書で、信者の生活から政治、経済活動まで規定している。


(3) テーマ3について、次の資料2は、鎌倉時代の仏教について、まりあさんがノートにまとめたものの一部である。資料2の **X** にあてはまる文章を書きなさい。

〈資料2〉

鎌倉時代には、たくましく成長した民衆や、自分の運命を切り開いてきた武士の心のよりどころとして、新しい仏教が広まった。念仏や題目を唱えたり、座禅を組むなど、これらに共通することは **X** ことで、多くの人々の心をとらえた。

(4) テーマ1～3について、次の資料3は、世界の宗教人口を示している。X、Y、Zにあてはまる宗教の礼拝所の組み合わせはどれか、あとのア～エから最も適当なものを1つ選び、その記号を書きなさい。

〈資料3〉



[2015年] (The World Almanac2017から作成)

- | | | | | |
|---|----|-------|-------|-------|
| { | ア. | X－モスク | Y－教会 | Z－寺院 |
| | イ. | X－寺院 | Y－教会 | Z－モスク |
| | ウ. | X－教会 | Y－モスク | Z－寺院 |
| | エ. | X－教会 | Y－寺院 | Z－モスク |

5 まさこさんは、公民的分野の学習のまとめを発表するために、4つのテーマを設定した。これを見て、あとの各問いに答えなさい。

I 裁判所の仕組み

II 消費生活と経済

III 新しい人権

IV 持続可能な社会の実現

(1) I について、次の(a), (b)の各問いに答えなさい。

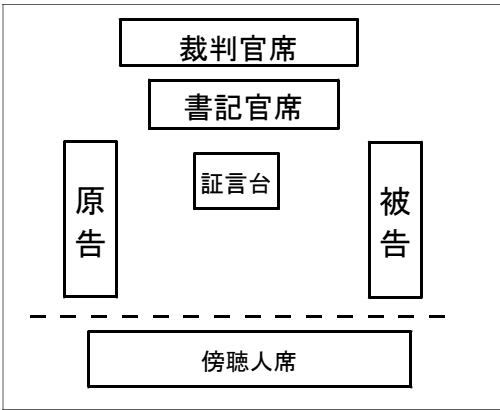
(a) 裁判は公正中立でなければならず、「司法権の独立」が日本国憲法第76条に規定されている。

A にあてはまる語句を、漢字2字で書きなさい。

第76条 ③ すべて裁判官は、その A に従ひ独立してその職務を行ひ、この憲法及び法律にのみ拘束される。

(b) 右の資料1は、裁判所の法廷の様子をあらわしたもの (資料1)

である。資料1のような法廷で行われる裁判について正しく述べているものを、次のア～エから1つ選び、その記号を書きなさい。



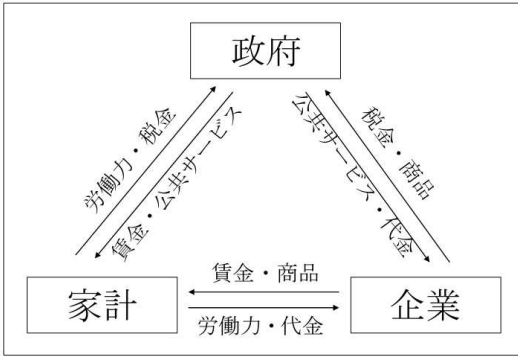
- ア. 殺人・強盗などの犯罪行為を裁く。
- イ. 友人に貸したお金を返してほしいと訴える。
- ウ. 被告とは検察官が起訴した人のことである。
- エ. 原告は弁護士をつけることができない。

(2) II について、次の(a), (b)の各問いに答えなさい。

(a) 消費生活における、流通の道筋の中で生産者や製造業者から商品を仕入れ、小売業者に売る業種を何というか、書きなさい。

(b) 次の資料2は、経済の循環の一部についてあらわしたものである。企業が賃金を家計に支払うと、家計は政府に税金を支払わなければならない。資料3のア～ウのうち、課税の方法が日本の税制度に最も近いものはどれか、記号を書きなさい。また、その制度の特徴を書きなさい。

〈資料 2〉



〈資料 3〉 所得に対する税額

所得	ア	イ	ウ
150万円	15万円	15万円	15万円
200万円	15万円	20万円	40万円
1000万円	15万円	100万円	300万円

(3) Ⅲについて、次の(a), (b)の各問いに答えなさい。

(a) 右の資料 4 は、まさこさんが新しい人権について調べた内容を新聞にした際につけた見出しと記事の一部である。文中の **A** に適当な言葉を10字程度で書きなさい。

〈資料 4〉

作者側敗訴
出版差し止め

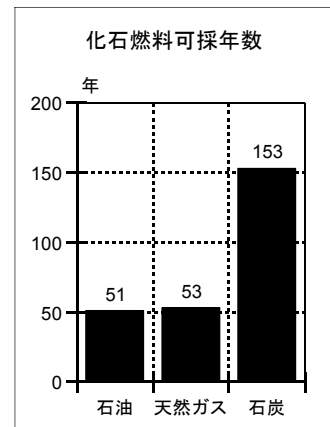
人は誰でも、私生活において他人に知られたくない秘密がある。しかし、都市化が進み、メディアが発達した現代では、互いの人権が衝突する場面がある。例えば、見出しについての裁判では、表現の自由と私生活上の事柄をみだりに公開されない権利とが衝突した。裁判所は **A** だとして、出版を差し止める判決を下し、表現の自由に制限が加えられた。

(b) 新しい人権は日本国憲法に直接的に明記されていないが、憲法第13条を根拠として主張されている。この権利を何というか、解答欄に合わせて、漢字4字で書きなさい。

(4) Ⅳについて、次の(a), (b)の各問いに答えなさい。

(a) 右の資料 5 は、化石燃料の可採年数をあらわしたものである。ここからわかる、日本が国として取り組むべき課題について書きなさい。

〈資料 5〉



[2016年]
(JAERO日本原子力文化財団HPから作成)

(b) 持続可能な社会を実現していくためには、貧困問題の解決も必要である。そこで、援助ではなく人々の自立を促すことも重要となってくる。その取り組みの1つとして、貧しい人々が新しい事業を始めるために少額のお金を貸し出す仕組みがある。この仕組みを何というか、書きなさい。

これで問題は終わりです。

社会 (I)

注意：1. (I) (II) のそれぞれに受験番号を記入する。
2. ※印の欄には記入しない。

1

(1)				※
(2)	X	Y	Z	
(3)				
(4)				※
(5)	(6)			

2

(1)	(2)	(3)		※
(4)	(5)			

3

(1)	(2)	(3)	(4)	※
(5)	(6)	(7)		

受験番号			

※

得	点

社会 (II)

4

(1)	(a)		(b)		※
(2)					※
(3)					
(4)					

5

(1)	(a)	⋮	(b)		
(2)	(a)				※
	(b)	記号			
(3)	(a)				
	(b)	⋮	⋮	⋮	
(4)	(a)				※
	(b)				

受験番号			

※

得	点