

2022年度入学試験

一般方式試験問題

社 会

注 意

1. 開始のチャイムが鳴るまで開いてはいけません。
2. 受験番号を**解答用紙**の2カ所に書き，答えはすべて**解答用紙**に書きなさい。
3. 問題は **1** から **4** までで，8ページにわたって印刷してあります。
4. 終了のチャイムが鳴ったら，すぐに筆記用具を置きなさい。

セントヨゼフ女子学園中学校

1 ともさんは、日本の歴史において活躍した女性について調べ、クロスワードパズルをつくりました。次のA～Fの各文はそれぞれの女性の自己紹介文です。読んであとの問いに答えなさい。

A：わたしは①ある国の女王です。わたしは、神のおつげを伝えて人々の心をとらえ、弟がわたしの考えにもとづいて政治をおこないました。わたしは人々の前に姿を見せず、めしつかい1000人が、身のまわりの世話をしました。宮殿には物見やぐらやさくを設け、いつも兵士が守っていました。

B：源頼朝の妻であったわたしは、御家人を集めて、次のように言いました。「…頼朝様が平氏をたおして鎌倉に幕府を開いてからの御恩は、山よりも高く、海よりも深いものです。…ところが、②朝廷は、幕府をたおせという命令を出しました。名誉をたいせつにする者は、京都に向かって出陣し、源氏3代の将軍がきずきあげたものを守りなさい。」

C：わたしは③岩倉使節団と一緒にアメリカにわたった最初の女子留学生です。7才のときから11年間の勉強を終えて帰国しました。のちに女性が働いて自活する道をひらこうと、学校をつくり、女性の英語教師の育成に力をつくしました。

D：わたしは歌人としてたくさんの歌をよみましたが、④戦場に行った弟を心配した「君死にたまふことなかれ」という作品が有名です。ほかにも自分の恋愛を短歌にして発表したり、『源氏物語』をわかりやすい現代語に訳したり、日本で最初の男女共学の学校をつくりました。

E：わたしは女性の自由と権利の拡大をめざす運動を続け、「もともと、女性は⑤であった。しかし今、女性は月である。…病人のような青白い顔色の月である。わたしたちは、かくれてしまったわたしたちの⑤を取りもどさなければならない。」とうったえました。

F：連合軍は、⑥日本の民主化を進めるための指令を次々に出しました。そのため、女性に参政権をあたえる法律がつくられました。戦後はじめておこなわれた衆議院議員総選挙で、わたしをはじめ39人の女性議員が誕生したのです。そして、⑦新しい憲法が1946年11月3日に公布されました。

問1 A～Eで紹介したのは、それぞれ誰ですか。Fのようにひらがなで名前を入れて、クロスワードを完成させなさい。

※答えは解答用紙に書きなさい。

- 問2 下線部①について、この国名を漢字4字で答えなさい。
- 問3 下線部②について、この命令がきっかけでおこった戦乱せんらんにあてはまるものを、次のア～エから1つ選び、記号で答えなさい。
- ア 応仁の乱おうにん イ 平治の乱 ウ 承久の乱じょうきゅう エ 大塩の乱
- 問4 下線部③について、あてはまるものを次のア～エから1つ選び、記号で答えなさい。
- ア 使節とともに留学生を送り、中国の進んだ文化や学問・技術を学ばせた。
- イ 使節団の目的は、不平等条約の改正を進めることだった。
- ウ 使節は毎年江戸を訪ね、海外のできごとを記した報告書を提出した。
- エ 使節団は国際連盟からの脱退だつたいを宣言し、国際社会こりつで孤立した。
- 問5 下線部④について、この戦場とは、次のア～エの戦争のどれにもっとも関わりがありますか。1つ選び、記号で答えなさい。
- ア 朝鮮戦争ちょうせん イ 日中戦争 ウ 西南戦争 エ 日露戦争にちろ
- 問6 文中の⑤には同じ語句が入る。漢字2字で答えなさい。
- 問7 下線部⑥について、この時の民主化改革かいかくにあてはまらないものを、次のア～エから1つ選び、記号で答えなさい。
- ア ほとんどの農民が農地をもてるようになる。 イ 政党が復活する。せいとう
- ウ 労働組合の解散をすすめる。 エ 教育制度を改革する。
- 問8 下線部⑦について、この新しい憲法には、男女の平等が書かれている。これは、日本国憲法の三つの原則のうちどれに含まれるか。解答用紙に合うように、あてはまる語句を漢字で答えなさい。
- 問9 A～Fで紹介した以外に、歴史上で活躍した女性を1人あげて、その人物になりきって、「わたしは、」で始まる自己紹介文を書きなさい。

2 長い歴史のなかで生まれ、守り伝えられてきた文化的財産(文化財)には、有形・無形さまざまな種類があります。次のA～Cの語群は、文化的財産の例・生まれた時代・関係する人物について示しています。資料を見てあとの問いに答えなさい。

A : 文化財の例

- ① 源氏物語絵巻まき
(大和絵)
- ② 法隆寺ほうりゅう
- ③ 人形浄瑠璃じょうるり
- ④ 東海道五十三次うきよ
(浮世絵)

B : (生まれた)時代

- ア 飛鳥時代
- イ 奈良時代
- ウ 平安時代
- エ 鎌倉時代
- オ 室町時代
- カ 安土桃山時代
- キ 江戸時代

C : (関係する)人物

- ク 聖徳太子しょうとく
- ケ 近松門左衛門ちかまつもんざえもん
- コ 紫式部むらさきしきぶ
- サ 歌川広重うたがわひろしげ

問1 Aの文化財①～④について、それぞれに関係する時代をBのA～キから、人物をCのク～サからそれぞれ1つ選び、記号で答えなさい(同じ記号を2度以上使ってもよい)。

問2 Aの①源氏物語絵巻には、このころの生活や遊びもえががれました。おなじころに、年中行事がはじまり、下の表のようになって、現代に受けつがれています。これらの時期・行事食・植物についての正しい組合せを、A～エから1つ選び、記号で答えなさい。

	年中行事	時期	行事食(食べ物)	植物(飾り) <small>かざ</small>
ア	七草	一月七日	七草がゆ	菊 <small>きく</small>
イ	ひな祭り	三月三日	かしわもち	桃 <small>もも</small>
ウ	端午の節句 <small>たんご</small>	五月五日	ちまき	菖蒲 <small>しょうぶ</small>
エ	七夕	七月七日	かき氷	笹竹 <small>ささ</small>

問3 Aの②法隆寺は世界遺産いざんです。世界遺産には文化遺産・自然遺産・複合遺産がありますが、日本で登録されている自然遺産にあてはまらないものを、次のA～エから1つ選び、記号で答えなさい。

- ア 屋久島やくしま
- イ 小笠原諸島おがさわらしよとう
- ウ 富士山
- エ 知床しれとこ

問4 Aの③人形浄瑠璃は、無形文化財です。無形文化財とは、人間の「わざ」そのものであり、このわざを高度に身につけた個人や集団によって受けつがれます。次のA～エのうち、無形文化財にあてはまらないものを1つ選び、記号で答えなさい。

- ア 相撲すもう
- イ 能楽
- ウ 歌舞伎かぶき
- エ 雅楽が

問5 Aの④東海道五十三次の題材になっているのは、江戸と主要な町を結ぶ五街道の1つであった、東海道の宿場町でした。五街道の例を、東海道のほかに1つあげなさい。

3 日本各地の特色について、あとの問いに答えなさい。

問1 地図1は北海道・東北地方の地形を示している。(1)～(4)に答えなさい。

(1) ①・②の川にあてはまるものを、次のア～エから1つずつ選び、それぞれ記号で答えなさい。

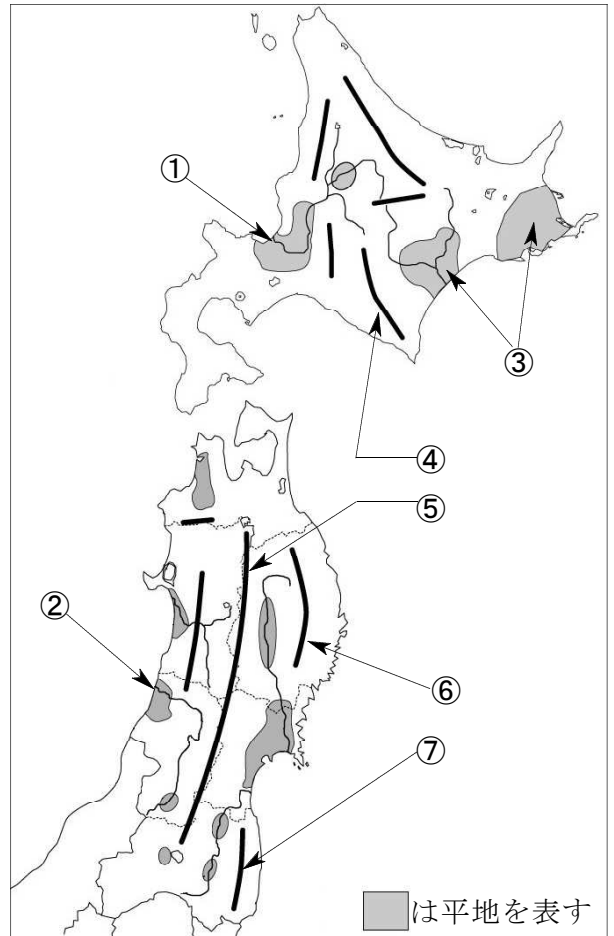

- ア 北上川 イ 最上川
ウ 石狩川 エ 十勝川

(2) ③は畜産業がさかんな平地である。次のア・イの表は、乳牛と肉牛の飼育頭数が多い道県をまとめたものである。乳牛を示しているのはどちらか。1つ選び、記号で答えなさい。

ア	2020年(万頭)	2020年(%)	イ	2020年(万頭)	2020年(%)
北海道	82.1	60.7	北海道	52.5	20.5
栃木	5.2	3.9	鹿児島	34.1	13.3
熊本	4.4	3.3	宮崎	24.4	9.6
岩手	4.2	3.1	熊本	13.2	5.2
群馬	3.4	2.5	岩手	9.1	3.6
全国	135.2	100.0	全国	255.5	100.0

『表とグラフでみる日本のすがた2021』より作成

(3) ④・⑤の山脈を何というか。漢字で答えなさい。
(4) ⑥・⑦は、山地のなかでも、下の図の○でこまれた地形が続いている。このような地形を何というか。漢字2字で答えなさい。



問2 地図2は東京湾をはさんで向かい合う3都県の一部を示している。(1)～(3)に答えなさい。

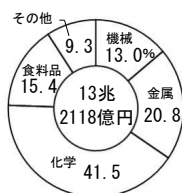
(1) A～Cの都県名を、それぞれ漢字で答えなさい。

(2) 地図2から、C県の東京湾沿岸に多くの工場が建ち並ぶようすがわかる。この工業地域における2018年の工業出荷額の割合を示す下のグラフを参考に、工場が海に面している理由を考えて書きなさい。

地図2



工業出荷額割合(2018年)

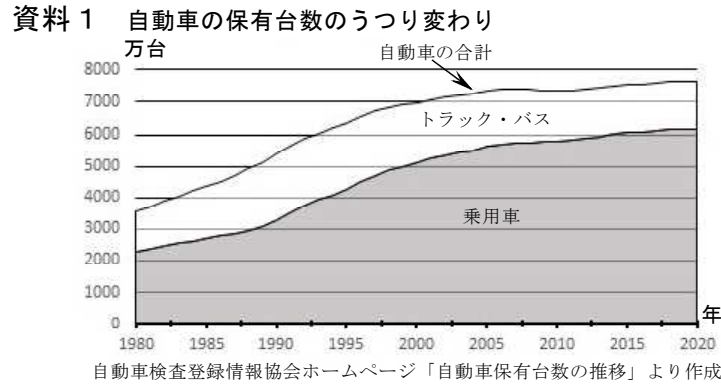


『表とグラフでみる日本のすがた2021』より作成

国土地理院地図(https://mapps.gsi.go.jp/maplibSearch.do#1)より加工して作成

(3) (2)の工業地域を何というか。漢字で答えなさい。

問3 資料1は日本の自動車の保有台数のうつり変わりを示している。(1)～(3)に答えなさい。



- (1) 資料1からわかることとして正しい内容を、次のア～エから2つ選び、記号で答えなさい。
- ア 乗用車の保有台数は、1985年には3000万台未満だが、2015年には6000万台に達した。
 - イ 自動車の合計保有台数が最も増えたのは、2005年から2010年である。
 - ウ 2015年の自動車の合計保有台数を1992年と比べてみると、ほぼ2倍に増えている。
 - エ 2015年のトラック・バスの保有台数を1992年と比べてみると、減ってきている。
- (2) 自動車の生産をふくむ機械工業が最もさかんな工業地帯として正しいものを、次のア～エから1つ選び、記号で答えなさい。
- ア 京浜工業地帯
 - イ 中京工業地帯
 - ウ 阪神工業地帯
 - エ 北九州工業地帯
- (3) 最近では、環境にやさしい自動車として、①～③のような自動車が開発されている。あとの文ア～ウはそれぞれの自動車のしくみについて述べたものである。[a]～[c]にあてはまる語句を入れて文を完成させ、①～③と結びつくものを1つずつ選び、記号で答えなさい(同じ記号には同じ語句が入る)。
- ① ハイブリッドカー
 - ② 電気自動車
 - ③ 燃料電池自動車
- ア [a]にたくわえた電気でモーターを動かして走る。[b]を全く使わない。
 - イ 電気モーターと[b]エンジンを組み合わせて走る。[b]の使用量をおさえられる。
 - ウ 水素と酸素が[c]になるときに発生する電気でモーターを動かして走る。

問4 日本は、国土の面積の約3分の2が森林である。森林と林業について、(1)～(3)に答えなさい。

- (1) 森林には天然林と人工林がある。資料2のア・イのうち、人工林を示しているのはどちらか。1つ選び、記号で答えなさい。

資料2 日本の森林面積(2017年3月31日現在)
(単位: 万ヘクタール)

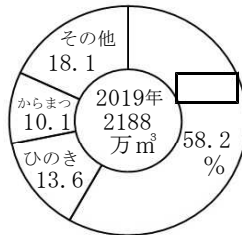
	ア	イ	合計	合計(%)
国有	229	473	766	30.6
民有	792	875	1,739	69.4
うち 公有	133	153	299	12.0
私有	657	719	1,435	57.3
合計	1,020	1,348	2,505	100.0

林野庁しらべ。合計の不一致は四捨五入による。

『表とグラフでみる日本のすがた2021』より作成

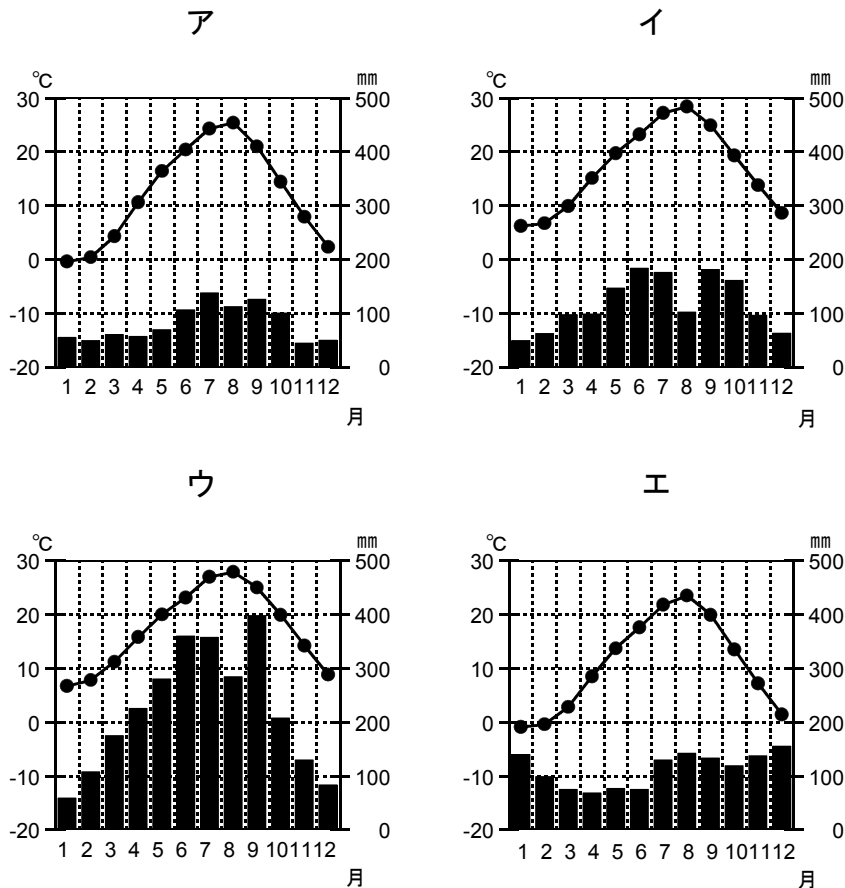
- (2) 資料3は国内で生産された木材(丸太)の割合を種類別に示している。□にあてはまる木材の種類を答えなさい。

資料3 木材(丸太)の種類別生産割合



農林水産省しらべ。パルプ用、その他用をのぞいた内訳。速報値。
『表とグラフでみる日本のすがた2021』より作成

- (3) 高知県は、県全体の面積の約84%が森林であるが、それには地形や気候といった環境が大きく関わっている。高知県(高知市)の気候を表すグラフとして正しいものを、次のア～エから1つ選び、記号で答えなさい。



気象庁ホームページより作成

4 次の文を読んで、あとの問いに答えなさい。

わたしたちが買い物をするときには、①消費税という税金をはらいます。消費税がなければ、その分だけ安く商品を買えると思ってしまいがちですが、②集められた税金はわたしたちが安全で快適な生活を送るために使われています。

集められた税金は、国会や地方議会などで③予算として使いみちが決められます。地方議会では税金の使いみちを決める以外にも、④その地域につながるの深いきまりをつくったり、⑤税金が正しく使われたかを調べる仕事もあります。

問1 下線部①について、資料1は、買い物をした際のレシートである。あ・いに入る消費税率として正しいものを、次のア～エからそれぞれ1つずつ選び、記号で答えなさい。

- ア 15 イ 10
ウ 8 エ 5

問2 下線部②について、税金の使われ方としてあてはまらないものを、次のア～エから1つ選び、記号で答えなさい。

- ア ごみの処理しより イ 警察けいさつの仕事
ウ 道路の整備 エ 郵便ゆうびんの配達

資料1 レシートの例

コンビニ DAIKU		
津市半田 1330		
領収証		
おにぎり(梅)	1	¥108 ※
牛乳	1	¥216 ※
ドッグフード	1	¥550
合計		¥874
(内税額)		¥74)

※軽減税率	<input type="checkbox"/> あ	%対象 ¥324(税額¥24)
	<input type="checkbox"/> い	%対象 ¥550(税額¥50)
お預り金額		¥1,000
おつり		¥126

問3 下線部②について、資料2は、住んでいる市区町村以外の地方自治体を、寄付おうえんというかたちで応援できる制度について案内しているパンフレットである。資料2のうにあてはまる語句として正しいものを、次のア～エから1つ選び、記号で答えなさい。

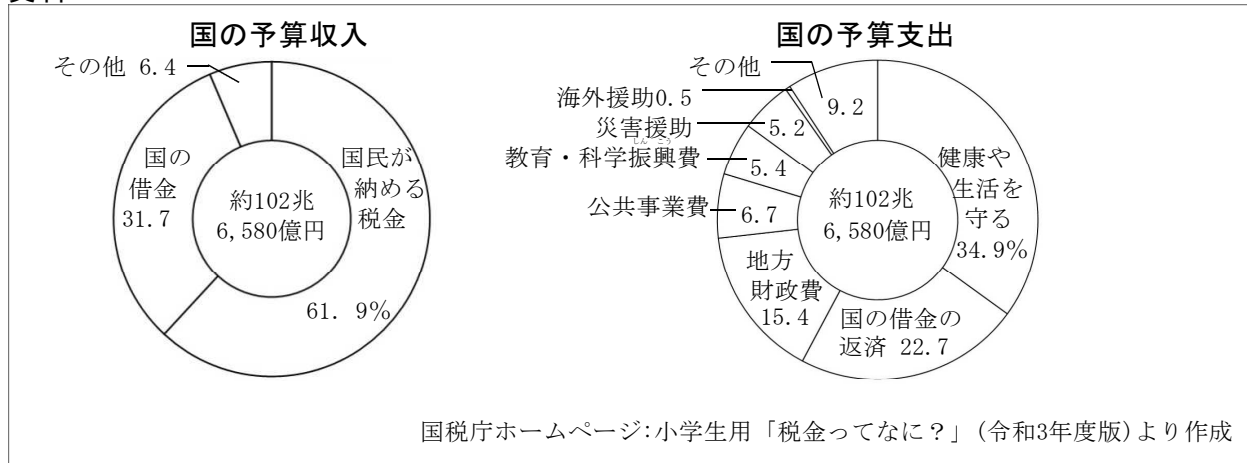
- ア おもいで イ ふるさと
ウ さとやま エ まちなか

資料2



問4 下線部③について、資料3は2020年度の国の予算を割合で示している。(1)・(2)に答えなさい。

資料3



(1) 国の予算収入の中に含まれている税金を、次のア～エから2つ選び、記号で答えなさい。

- ア 住民税 イ 所得税 ウ 法人税 エ 入湯税

(2) 国の予算支出の中で、健康や生活を守ることに関する費用を、次のア～エから1つ選び、記号で答えなさい。

- ア 社会保障関係費 イ 防衛関係費 ウ 教育費 エ 国債費

問5 下線部④について、まちづくりの推進や景観を守るためなど、地域ごとに地方議会が制定するきまりのことを何というか。漢字2字で答えなさい。

問6 下線部⑤について、国や地方公共団体は、税金の使いみちを最終的に決める際に、国民の多くがもっている意見を意識している。社会や政治について国民の多くがもっている意見のことを何というか。漢字2字で答えなさい。

これで問題は終わりです。