

2023年度入学試験

試験問題

社 会

注 意

1. 開始のチャイムが鳴るまで開いてはいけません。
2. 受験番号を解答用紙の2カ所に書き、答えはすべて**解答用紙**に書きなさい。
3. 問題は **1** から **5** までで、10ページにわたって印刷してあります。
4. 終了のチャイムが鳴ったら、すぐに筆記用具を置きなさい。

セントヨゼフ女子学園高等学校

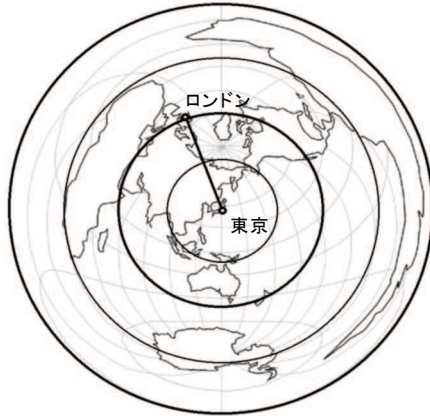
1 世界の各地の地理について、あとの各問いに答えなさい。

(1) 資料1は航空図、資料2は航海図として用いられる。次の(a)、(b)の各問いに答えなさい。

(a) 次のア～エの

各文は資料1・資料2についての説明である。それぞれの地図の説明として正しいものはどれか、最も適当なものを1つ選び、その記号を書きなさい。

〈資料1〉



〈資料2〉



- ア. 東京とロンドンを移動する最短ルートは、資料1では直線で、資料2では曲線で表される。
- イ. 東京とロンドンを、経線に対して常に同じ角度をたもって結ぶルートは、資料1・2ともに直線で表される。
- ウ. 資料1・資料2は常に面積を正しく表しており、資料2のグリーンランドの面積は南アメリカ大陸とほぼ同じである。
- エ. 資料2は緯線と経線がすべて等間隔で交わっているので、低緯度も高緯度も形が正しく表されている。

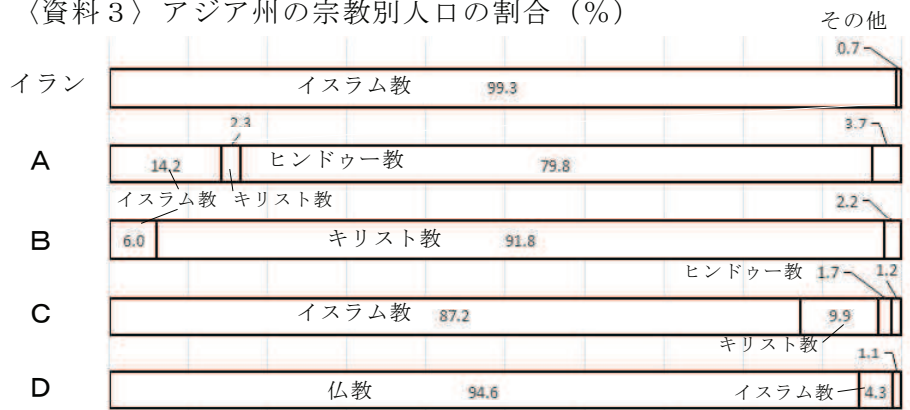
(b) 地球の全周は約4万kmである。資料1の同心円は等間隔で引かれている。東京とロンドンのおよその距離を1,000km単位で書きなさい。

(2) 世界は大きく5つの気候帯に分けられる。次の文章中の□に共通してあてはまる語句を漢字で書きなさい。

熱帯は□を中心に広がっており、一年中暑くて四季の変化がなく降水量が多い地域である。一方、□から最も遠いところに広がる寒帯は、一年中寒さが厳しく、樹木が育たない地域である。

(3) 資料3は、アジア州の5つの国(イラン、インド、インドネシア、タイ、フィリピン)における、宗教別人口の割合を示したものである。国名A～Dの組み合わせとして最も適当なものを、次のア～エから1つ選び、その記号を書きなさい。

〈資料3〉アジア州の宗教別人口の割合(%)




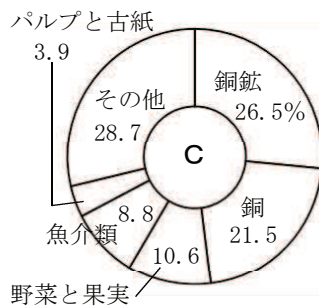
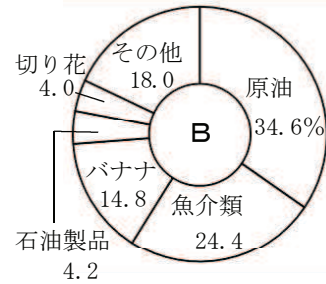
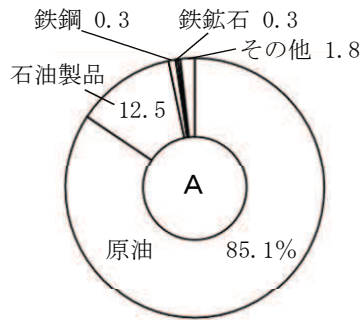
(CIA World Factbook, ほかより作成)

- ア. A-タイ B-インドネシア C-フィリピン D-インド
 イ. A-タイ B-インド C-フィリピン D-インドネシア
 ウ. A-フィリピン B-インドネシア C-タイ D-インド
 エ. A-インド B-フィリピン C-インドネシア D-タイ

(4) 資料4は、南アメリカ州の国々の輸出品を示している。次の円グラフの輸出品と国名A～Dの組み合わせとして最も適当なものを、次のア～エから1つ選び、その記号を書きなさい。

〈資料4〉南アメリカ州の国々の輸出品(2016年)

- ア. A-エクアドル
 B-アルゼンチン
 C-チリ
 D-ベネズエラ
 イ. A-チリ
 B-エクアドル
 C-ベネズエラ
 D-アルゼンチン
 ウ. A-ベネズエラ
 B-エクアドル
 C-チリ
 D-アルゼンチン
 エ. A-アルゼンチン
 B-ベネズエラ
 C-エクアドル
 D-チリ

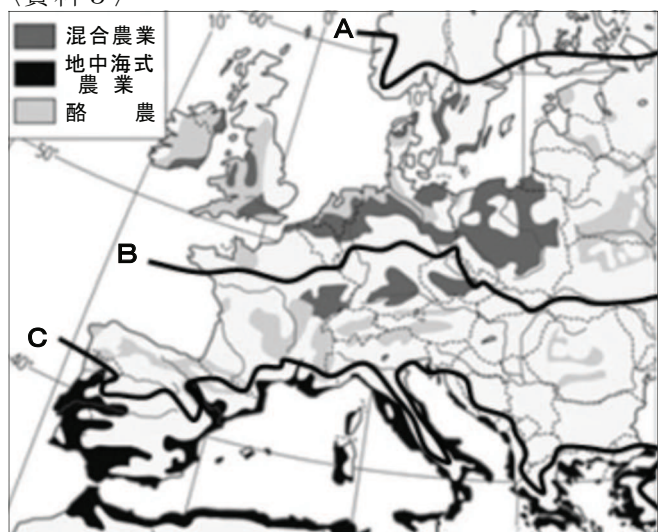


(『データブックオブ・ザ・ワールド2022 Vol.34』より作成)

(5) ヨーロッパ州では、自然環境に合った農業が古くから行われてきた。資料5はヨーロッパの農業地域を表したものであり、A～Cの各線は主要な農産物の栽培の北限を示している。A～Cの農産物の組み合わせとして最も適当なものを、次のア～エから1つ選び、その記号を書きなさい。

- ア. A-ぶどう B-オリーブ
 C-小麦
 イ. A-小麦 B-ぶどう
 C-じゃがいも
 ウ. A-ぶどう B-オリーブ
 C-じゃがいも
 エ. A-小麦 B-ぶどう C-オリーブ

〈資料5〉



(Seydlitz Project Erde, ほかより作成)

2 津駅を起点に、新幹線を利用して昼ごろまでに移動できるところを検索してみると、次のような行程が計画できた。九州地方と東北地方について、あとの各問いに答えなさい。

6:17	7:08	7:23	8:57	9:08
津	——	名古屋	——	東京
	(近鉄特急)		(JRのぞみ)	(JRはやぶさ)
— 新青森12:29到着				

6:37	7:43	8:00	8:48	8:55
津	——	名古屋	——	新大阪
	(近鉄特急)		(JRのぞみ)	(JRみずほ)
— 鹿児島中央12:41到着				

(1) 九州地方は火山活動がさかんである。火山活動が与える影響について、次の(a)、(b)の各問いに答えなさい。

(a) 火山活動で生じる地熱は、電力を生み出すエネルギー産業にも用いられている。地熱発電について正しく述べた文として最も適当なものを、次のア～エから1つ選び、その記号を書きなさい。

- ア. 熊本県の八丁原地熱発電所は日本最大級の発電量を誇る。
- イ. 国内の地熱発電所の半分以上が九州地方にある。
- ウ. 地熱発電が盛んな国は日本だけである。
- エ. 地熱発電が盛んな場所は、高潮の被害が多いところでもある。

(b) 火山活動は地下水を温めて温泉も作り出す。温泉地について正しく述べた文として最も適当なものを、次のア～エから1つ選び、その記号を書きなさい。

- ア. 九州地方には、温泉地に向けて、特色のある観光列車が走っている。
- イ. 九州地方の県別温泉宿泊者数が最も多いのは、鹿児島県である。
- ウ. 九州地方の温泉地に最も多く訪れているのは、欧米からの観光客である。
- エ. 九州地方の温泉の源泉数は、日本の温泉の源泉数の半分以上を占める。

(2) 九州地方の農業について正しく述べた文として最も適当なものを、次のア～エから1つ選び、その記号を書きなさい。

- ア. 九州の北部はシラス台地が広がっており、米の他に小麦や大麦も育てる二期作がさかんである。
- イ. 九州の北部で、日本で初めて「とちおとめ」が開発され、海外向けにブランドいちごとして出荷されている。
- ウ. 九州の南部は家畜を効率的に育てるだけでなく、安全な肉の生産を行う畜産がさかんである。
- エ. 九州の南部は冬でも温暖な気候を生かした野菜の抑制栽培がさかんで、ビニールハウスを利用したトマトの栽培などが行われている。

(3) 九州新幹線の開通が地域に変化をもたらした例にあてはまらない文として最も適当なものを、次のア～エから1つ選び、その記号を書きなさい。

- ア. 九州各地の行き来が活発になり、博多－熊本間を移動する人が増えた。
- イ. 九州各地で、新幹線を使った通勤や通学が増えたことで、勤務地や学校の近くに住む人が増

えた。

ウ. 関西から鹿児島への旅行時間が短縮されたため、観光客が増えた。

エ. 鹿児島市に住む人も、鉄道による福岡市への往復が日帰りで出来るようになった。

(4) 東北地方について、次の文を読み、あとの(a), (b)の各問いに答えなさい。

東北地方の **1** 側では、やませという **2** から吹く冷たく湿った風の影響を強く受けると、稲が十分に育たず、収穫量が減る **3** が起こることがある。そのため、古くから寒さに強いそばや小麦の栽培も広く行われてきた。**3** の影響を受けにくい根菜類の栽培も盛んである。

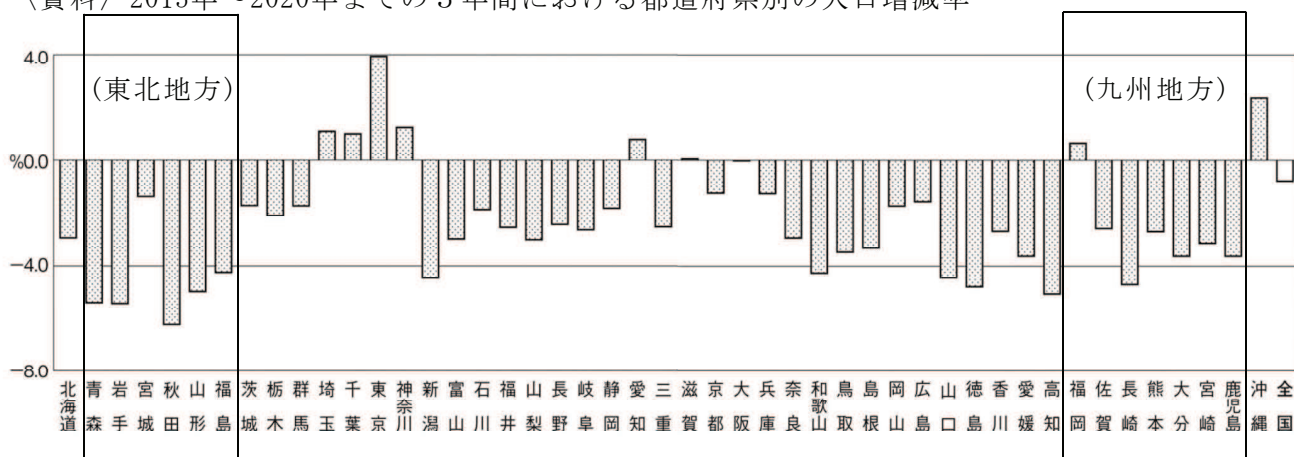
(a) 東北地方について、文中の **1** ～ **3** にあてはまる語句の組み合わせとして最も適当なものを、次のア～カから1つ選び、その記号を書きなさい。

- ア. 1－日本海 2－南東 3－干害
- イ. 1－日本海 2－北西 3－干害
- ウ. 1－日本海 2－北東 3－冷害
- エ. 1－太平洋 2－北東 3－冷害
- オ. 1－太平洋 2－北西 3－冷害
- カ. 1－太平洋 2－南東 3－干害

(b) 文中の下線部に関連して、根菜類とは、にんにく・ごぼう・ながいもなどである。にんにくの生産量全国第1位(2020年)の県名を東北地方の中から選び、書きなさい。

(5) 資料は、都道府県別の人口増減率を示している。東北地方と九州地方に注目して、資料から読み取れることを書きなさい。

〈資料〉2015年～2020年までの5年間における都道府県別の人口増減率



(日本国勢図会2022/23 より作成)

3 博物館の見学を振り返って、資料1・資料2を見ながら、先生と生徒たちが話し合っている。会話文を読んで、あとの各問いに答えなさい。

〈資料1〉



〈資料2〉



やすは：資料1はアイヌ文化の展示物で「山丹服」と表示されていますが、同様のものを、教科書では「①蝦夷錦」として紹介しています。蝦夷錦とは違うものなのですか？

先生：山丹服も蝦夷錦も、同じものです。アイヌの人々が、中国東北部から樺太に住む北方民族との交易を経て、手に入れたものです。

ひろな：とても②高価な絹織物のようですね。

先生：もとは清朝高官の官服として、中国の江南地方で生産されたものです。それを③松前藩がアイヌとの交易で入手し、蝦夷錦とよんで本州にもたらし、幕府や大名が珍重しました。

ひろな：中国の高価な衣服を入手できる窓口なら、江戸時代には他にもありましたよね？

やすは：④琉球王国のことですね。

先生：琉球は中国に⑤朝貢していたから、中国皇帝から反物などたくさんの返礼を贈られました。中国の様式を取り入れて仕立てられた琉球国王の礼服が、今も国宝として残っています。

やすは：資料2は三重県の齋宮歴史博物館で撮影した衣服です。⑥平安時代以降の日本の衣服は、いずれも直線的な形で、中国の衣服とは異なる印象ですね。

先生：遣唐使を停止し、国風文化が発展していったことと関わりがあるのでしょうか。

ひろな：⑦奈良時代までの高貴な人の衣服は、中国のものとよく似ていたのに、見た目の変化がとてもはっきりしていますね。

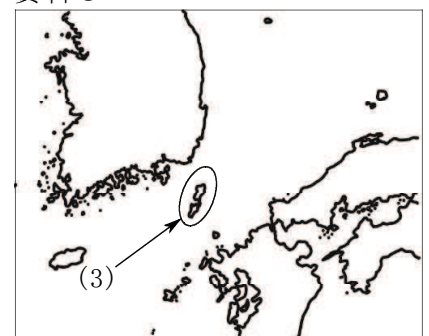
(1) 下線部①について、「蝦夷」は、古くは朝廷が、東北地方に住み、朝廷に従わない人々に対して用いたよび名でもあった。彼らを朝廷は何とよんだか、ひらがな3字で書きなさい。

(2) 下線部②に関連して、中国は古くから絹織物を特産物として、シルクロードを通じて西方の馬などと交換していた。日本の正倉院はシルクロードの終着点ともいわれる。現在、正倉院を管理している省庁として最も適当なものを、次のア～エから1つ選び、その記号を書きなさい。

- | | |
|----------|--------|
| ア. 財務省 | イ. 宮内庁 |
| ウ. 経済産業省 | エ. 観光庁 |

(3) 下線部③に関連して、江戸時代の鎖国下で異国と関わりを持った藩が、松前藩のほかに2つあった。ひとつは薩摩藩で、あとひとつはどこか、資料3を参考にして書きなさい。

資料3



(4) 下線部④に関連して、琉球王国が成立した15世紀初めの日本について説明している文として最も適当なものを、次のア～エから1つ選び、その記号を書きなさい。

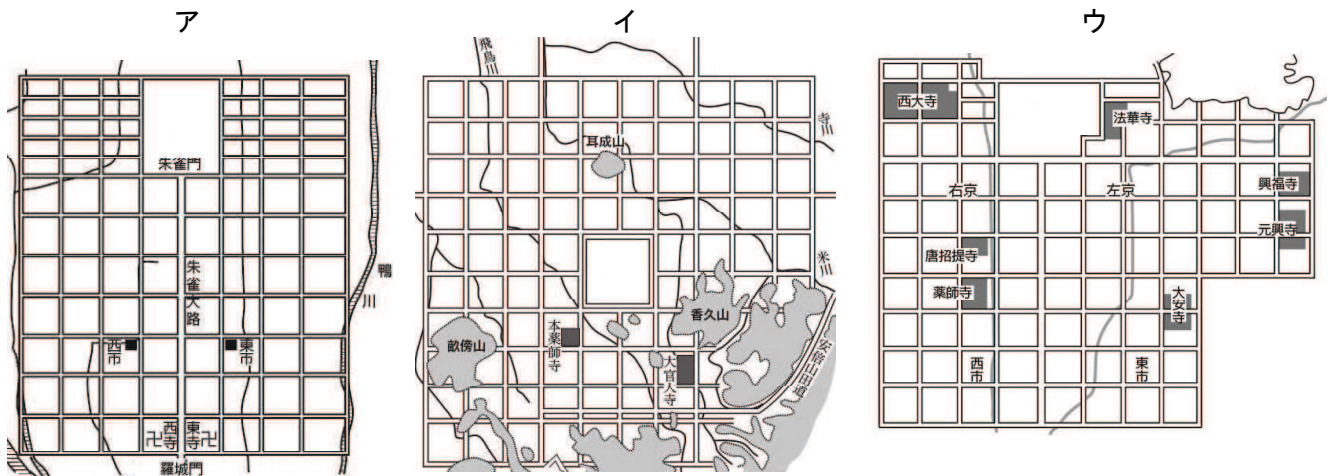
- ア. 唐の制度や文化を取り入れようと、遣唐使を中国に派遣した。
- イ. 明の求めに応じ、倭寇を禁じて正式な貿易船に勘合を持たせるようにした。
- ウ. 兵庫の港(大輪田泊)を整備し、航路を整えて宋と貿易した。
- エ. 使いを魏に送り、皇帝から「親魏倭王」の称号と金印を授けられた。

(5) 下線部⑤に関連して、朝貢とは、周辺諸国が中国に使いを送り、中国の皇帝に貢ぎ物を差し出すことである。周辺諸国が朝貢を行う目的は何であったか、「地位」という語句を用いて書きなさい。

(6) 下線部⑥に関連して、次のア～エのできごとを古いものから順に並べかえなさい。

- ア. 紫式部が藤原道長の娘に仕えながら、『源氏物語』を書きあげた。
- イ. 朝廷の政治に不満を感じ、平将門や藤原純友が反乱を起こした。
- ウ. 源頼朝が弟の義経などを送り、平氏を壇ノ浦でほろぼした。
- エ. 仏教の新しい教えを学ぶため、最澄と空海が唐にわたった。

(7) 下線部⑦に関連して、奈良時代とは、平城京が都であった時代をさす。平城京を表している図として最も適当なものを、次のア～ウから1つ選び、その記号を書きなさい。



※縮尺は同じではありません。

4 ゆうさんのクラスでは、「建造物から現代史を考える」というテーマで調べ学習を行い、その内容を【A】～【D】にまとめた。これを見て、あとの各問いに答えなさい。

【A】阪神甲子園球場

現在の「夏の甲子園」にあたる、全国中等学校優勝野球大会の会場として、①1924年に完成した。②大正デモクラシーの高揚や、③メディアの発達によって、大衆の社会参加が広がりをみせ、野球などのスポーツが娯楽として定着していった。

【B】第一生命保険本館

1938年、当時最先端のオフィスビルとして完成し、東京大空襲でも焼けずに残った。そのため敗戦後は④連合軍最高司令官総司令部の庁舎として使用され、⑤戦後の民主化改革を推進する多くの命令が、ここから発せられた。

【C】ベルリンの壁

第二次世界大戦後の東西①を象徴する建造物。1961年、②が西ベルリンを取り囲むように壁を築き、市民の自由な行き来を阻んだ。⑥東ヨーロッパ諸国の民主化運動の高まりの中、市民によって取りこわされた。壁が崩壊した翌年、東西ドイツは統一された。

【D】世界貿易センタービル

⑦アメリカ同時多発テロの標的の1つとして、ハイジャックされた民間航空機が突入し、一般市民ら2,700人余りが犠牲となった。アメリカはこれを理由に、同年③を攻撃した。①後の世界における「テロとの戦い」のはじまりを象徴する場所となった。

(1) 下線部①の前年に、資料1の新聞が伝える災害がおこった。このできごとは歴史上何とよばれるか、漢字5字で書きなさい。

(2) 下線部②について、大正デモクラシーの時期におこったできごとにあてはまらない文として最も適当なものを、次のア～エから1つ選び、その記号を書きなさい。

- ア. 満20歳以上の男女に選挙権があたえられた。
- イ. 女性差別からの解放を目指し、新婦人協会が設立された。
- ウ. 労働運動が高まり、日本で最初のメーデーが開催された。
- エ. 富山県で始まった米騒動が、全国の主要な都市に拡大した。


(3) 下線部③について、資料2は、1925年に始まった新たなメディアの宣伝ポスターの一部である。新聞や雑誌に続く、このメディアは何か、書きなさい。

(4) 下線部④の略称を、アルファベット3字で書きなさい。

(5) 下線部⑤について、民主化の中心は、憲法の改正であった。資料3は、当時の文部省が作った、中学生向けの憲法の教科書の一部である。文中の□に共通してあてはまる言葉を、漢字で書きなさい。



「大阪朝日新聞」1923年9月2日



〈資料3〉

もう一つは、よその^{くに}國と^{あらそ}争いごとがおこったとき、けっして \square によって、相手をまかして、じぶんのいいぶんをとおそうとしないということをきめたのです。おだやかにそうだんをして、きまりをつけようというのです。なぜならば、いくさをしかけることは、けっきょく、じぶんの國をほろぼすようなはめになるからです。また、 \square とまでゆかずとも、國の力で、相手をおどすようなことは、いっさいしないことにきめたのです。これを \square の放棄というのです。そうしてよその國となかよくして、世界中の國が、よい友だちになってくれるようにすれば、日本の國は、さかえてゆけるのです。みなさん、あのおそろしい \square が、二度とおこらないように、また \square を二度とおこさないようにいたしましょう。

(『あたらしい憲法のはなし』部分)

- (6) 【C】、【D】の \square 1 に共通してあてはまる語句を漢字で書きなさい。
- (7) 【C】、【D】の \square 2 と \square 3 にあてはまる国名の組み合わせとして最も適当なものを、次のア～エから1つ選び、その記号を書きなさい。

- ア. \square 2 = 西ドイツ \square 3 = アフガニスタン
イ. \square 2 = 東ドイツ \square 3 = アフガニスタン
ウ. \square 2 = 西ドイツ \square 3 = イラク
エ. \square 2 = 東ドイツ \square 3 = イラク

- (8) 下線部⑥について、この「ベルリンの壁の崩壊」がおこった時期として最も適当なものを、次の年表中のア～ウから1つ選び、その記号を書きなさい。

1962	キューバ危機
	↑ ↓ ア
1973	第4次中東戦争
	↑ ↓ イ
1991	ソビエト連邦解体
	↑ ↓ ウ
1995	阪神・淡路大震災

- (9) 下線部⑦について、この時、世界貿易センタービルのほかに、アメリカ国防総省本部庁舎(ペンタゴン)も標的となった。ペンタゴンの所在地はアメリカ合衆国の首都に隣接している。アメリカ合衆国の首都として最も適当なものを、次のア～エから1つ選び、その記号を書きなさい。

- ア. フィラデルフィア イ. ワシントンD. C.
ウ. ニューヨーク エ. ロサンゼルス

5 暮らしと経済について、あとの各問いに答えなさい。

(1) 家計の収入や支出について説明した文として最も適当なものを、次のア～エから1つ選び、その記号を書きなさい。

- ア. 農家や商店などを経営する自営業者の収入は、給与収入という。
- イ. 家計から貯蓄として銀行に預けられたお金は、全て政府に貸し付けられる。
- ウ. 収入から税金や預貯金、株式の購入費などを除いた残りが貯蓄となる。
- エ. 配当金や利子による収入を財産収入という。

(2) 消費者が購入する商品は、「財」と「サービス」に分けることができる。「財」と「サービス」のそれぞれの違いを明確にして説明しなさい。

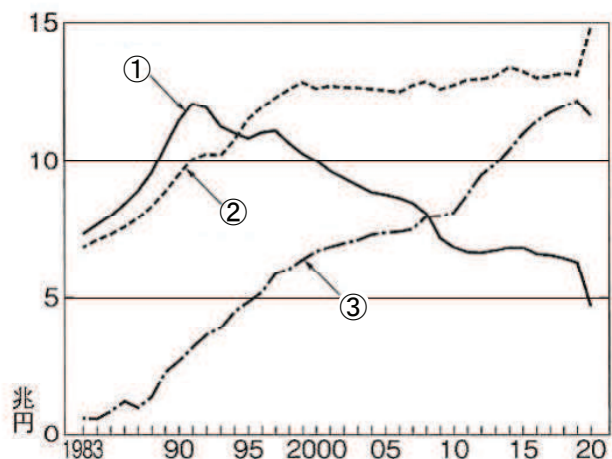
(3) 商品を生産するのは企業である。次の文章を読み、文中の空欄にあてはまる最も適当な語句を、漢字で書きなさい。

企業は、土地や設備、労働力といった生産要素をもとにして、さまざまな財やサービスを生産することで収入を得る。この収入から、土地や設備、原材料費や労働者への賃金といった必要経費を差し引いた残りが になる。企業の生産活動の最大の目的は、この を得て、それをできるだけ大きくすることにある。

(4) 次の資料は、さまざまな小売業での販売額の推移を示したものである。①～③が示す販売額の推移にあてはまるものとして最も適当なものを、次のア～エから1つずつ選び、その記号を書きなさい。

〈資料〉さまざまな小売業での販売額の推移

- ア. コンビニエンスストア
- イ. 大型スーパーマーケット
- ウ. 百貨店
- エ. インターネット販売



(2021/22年版「日本国勢図会」より)

(5) 情報化の進展は、販売から購入に至る経済活動にも効率化をもたらした。次の(a)，(b)の各問いに答えなさい。

(a) 近年、現金決済からクレジットカードや電子マネー、QRコードなどを利用した決済方法が定着してきている。こうした現金を使わずに支払いを済ませる方法を何というか。カタカナ7字で書きなさい。

(b) POS(販売時点情報管理)システムの説明として最も適当なものを、次のア～エから1つ選び、その記号を書きなさい。

ア. クレジットカードなどの個人情報盗まれないように保護する。

イ. 消費者がインターネットやカタログなどから商品を購入できる。

ウ. レジでバーコードなどから情報を読み取り、商品などを集計・管理する。

エ. ICカードや電子マネーを利用するとポイントがもらえる。

(6) 消費者を守るための権利が法律などによって定められている。次の(a)，(b)の各問いに答えなさい。

(a) 訪問販売などで商品を購入した場合、一定期間内であれば契約を取り消すことができる制度を何というか、書きなさい。

(b) 製品の欠陥によって消費者が被害を受けた場合の、企業の責任について定めた法律を何というか、書きなさい。

これで問題は終わりです。