

2024年度入学試験

前期入試試験問題

社 会

注 意

1. 開始のチャイムが鳴るまで開いてはいけません。
2. 受験番号を解答用紙の2カ所に書き，答えはすべて**解答用紙**に書きなさい。
3. 問題は **1** から **5** までで，12ページにわたって印刷してあります。
4. 終了のチャイムが鳴ったら，すぐに筆記用具を置きなさい。

セントヨゼフ女子学園中学校

- 1 ひろこさんは、歴史かるたを作ってクラスで発表しました。次の7枚の読みふだとその説明文をみて、あとの問いに答えなさい。

読みふだ

古事記伝
研究きわめた
苦節くせつ三十五年
④

ついに来た
ザビエルさんと
〇〇〇〇教
⑤

パレードだ
はにわ並んだ
大仙古墳だいせんこかみ
⑥

ピエロも真っ青
日本の伝統
能舞台のうぶたい
⑦

ラツパかな
天皇の宝たくさん
〇〇〇
⑧

りんとした
じゅうにひとえ
十二単と
〇〇〇〇
⑨

うんと遠い
平氏の守護神
いつくしま
⑩

説明文

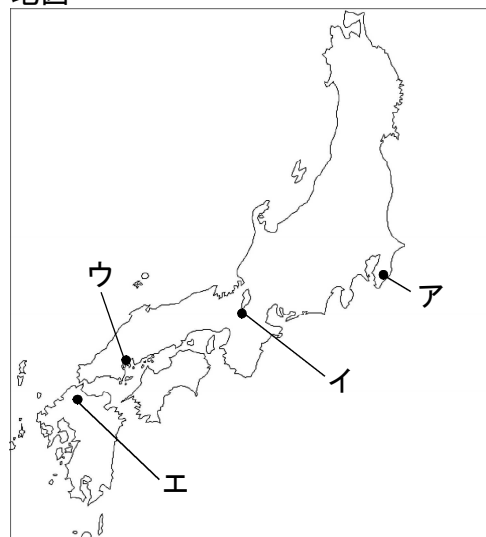
- ④ 『古事記伝』を書き上げたすぎ たげんぼく まつさか杉田玄白は松阪の医師だった。
- ⑤ ザビエルのあと、たくさんのせんきょうし宣教師が日本をおとずれ〇〇〇〇教を広めた。
- ⑥ 大仙古墳は大王のためにつくられた墓で、ふくおか さかい福岡県堺市にある。
- ⑦ 能は、田楽さるがくや猿楽はってんから発展した芸術で、足利義政の保護をうけた。
- ⑧ こんるりはい紺瑠璃坏は東大寺の宝物庫である〇〇〇に納められ、おさ こくほう国宝としてあつかわれている。
- ⑨ 十二単が登場した時代には、『源氏物語』のげんじ紫式部や『枕草子』のむらさきしきぶ まくらのそうし〇〇〇〇が活躍した。
- ⑩ いつくしまいつくしまとはうやま厳島神社のことで、平氏が守り神として敬い、宝物を納めた。

問1 読みふだ④・⑤・⑨の〇〇〇には、それぞれの説明文にある〇〇〇と同じことばが入る。④にはカタカナ、⑤・⑨には漢字で、それぞれ答えなさい。

問2 説明文④・⑥・⑧の_____部分はあやまっている。それぞれ正しい語句に直しなさい。


問3 説明文⑩の厳島神社の場所として正しいものを、地図のア～エから選び、記号で答えなさい。

地図




問4 次の取りふだに描かれているもののうち、5世紀の中ごろの日本にもっとも関連のあるものはどれか、㉔～㉞の中から1つ選び、記号で答えなさい。

取りふだ



㉔

本居宣長記念館所蔵




㉕

神戸市立博物館所蔵

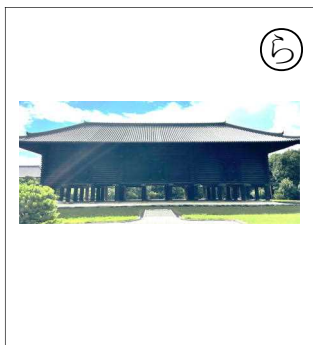


㉖

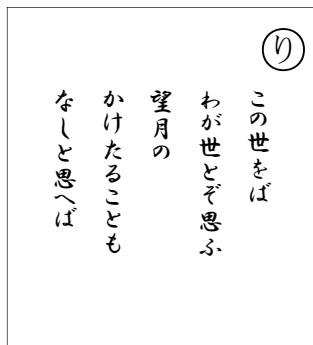
<https://earth.google.com>



㉗



㉘



㉙



㉚

問5 右の写真を使って、もう1枚かるたを作ることにした。(1)～(3)に答えなさい。

写真



(飛鳥時代の寺院)

- (1) この寺院を創建した人物の名前を答えなさい。
- (2) (1)の人物は小野妹子を中国への使節として送った。当時の中国の王朝名を答えなさい。
- (3) この寺院はどこにあるか、次のア～エから1つ選び、記号で答えなさい。
ア 岩手県 イ 奈良県 ウ 京都府 エ 山口県

問6 これらの歴史かるたがあらわす時代を、㉛～㉞の文字を使い、古い順にならべて書くとうなるか。解答らんの〇〇〇に1字ずつ入れなさい。

問7 問6の答えは、2021年に開催された障がい者を対象とした国際競技大会である。この大会は2021年を含めてこれまで東京で何回行われたか、数字で答えなさい。

2 クラスで明治時代以降の人物の人気投票を行ったところ、以下のような投票結果と投票の理由になった。これについて、あとの問いに答えなさい。

<p>1位</p>  <ul style="list-style-type: none"> ・一万円札に描かれているから ・著書の『(A)』を読みたいから 	<p>2位</p>  <ul style="list-style-type: none"> ・(B)運動を推し進めたから ・警察官が演説を中止しようとしてもそれに負けなかったから 	<p>3位</p>  <ul style="list-style-type: none"> ・初代内閣総理大臣だから ・(C)という政党をつくったから 	<p>4位</p>  <ul style="list-style-type: none"> ・今年から(D)円札に描かれるから ・(E)の英語教師の育成に力を入れたから
<p>5位</p>  <ul style="list-style-type: none"> ・(F)戦争に反対したから ・弟を想った①歌を詠んだから 	<p>6位</p>  <ul style="list-style-type: none"> ・(E)の自由と権利を拡大する運動を続けたから ・(E)の地位向上のためがんばったから 	<p>7位</p>  <ul style="list-style-type: none"> ・②軍部の横暴をいましめようと、命をかけて国会演説をおこなったから 	<p>8位</p>  <ul style="list-style-type: none"> ・日本人で初の(G)賞を受賞したから ・戦後の日本に明るいニュースを提供したから

問1 (A)～(G)にあてはまる語句を、次のア～セから1つずつ選び、記号で答えなさい。

- | | | | | |
|-------|--------|----------|---------|-------|
| ア 女性 | イ ノーベル | ウ 学問のすゝめ | エ 解体新書 | オ 千 |
| カ 五千 | キ 日清 | ク 日露 | ケ 自由民権 | コ 政友会 |
| サ 改進黨 | シ 男性 | ス 尊王攘夷 | セ アカデミー | |

問2 次の(1)～(3)は、1位～8位までの絵の人物の著書に書かれている内容の一部である。それぞれ誰の著書か、人物の名前を答えなさい。

(1) もともと、女性は太陽であった。しかし今、女性は月である。他によって生き、他の光によってかがやく、病人のような青白い顔色の月である。わたしたちは、かくれてしまったわたしたちの太陽を取りもどさなければならない。

(2) ああおとうとよ 君を泣く 君死にたまうことなかれ 末に生まれし 君なれば
親のなさはまさりしも 親は刃やいばをにぎらせて 人を殺せとおしえしや 人を殺して
死ねよとて 二十四までをそだてしや

(3) 天は人の上に人をつくらず，人の下に人をつくらずといわれるように，人はみな，生まれながらに平等である。

問3 3位の絵の人物が行ったこととしてあやまっているものをア～エから1つ選び，記号で答えなさい。

- ア 内閣総理大臣であった時に大日本帝国憲法ていこくけんぽうを發布した。
- イ 国会開設に備えてドイツなどの憲法を調査した。
- ウ 内閣総理大臣であった時にノルマントン号事件がおき，対応に追われた。
- エ 岩倉使節団の一員として，アメリカやヨーロッパに行き，帰国後は近代化に取り組んだ。

問4 5位の絵の人物に関連して，下線部①の背景はいけいとして正しいものはどれか，次のア～エから1つ選び，記号で答えなさい。

- ア アメリカに対する関税じしゅけん自主権を回復し，条約改正が実現した。
- イ 朝鮮ちょうせんの農民はんらんの反乱をきっかけに日本と中国は戦争をはじめた。
- ウ 日本とロシアは朝鮮かんこく（韓国）をめぐる対立していた。
- エ 日本は第一次世界大戦に加わり，中国などに勢力をのぼそうとした。

問5 7位の絵の人物に関連して，資料を参考に(1)～(3)に答えなさい。

(1) 7位の絵の人物として正しいものはどれか，次のア～エから1つ選び，記号で答えなさい。

- ア 尾崎行雄おざきゆきお
- イ 齋藤隆夫さいとうたかお
- ウ 犬養毅いぬかいつよし
- エ 吉田茂よしだしげる

(2) 下線部②に関連して，内閣総理大臣が在任中に軍人に殺害された事件として正しいものを，資料のA～Cから1つ選び，記号で答えなさい。

(3) 次のI，IIのできごとがあった時期として正しいものを，資料のD～Fから1つずつ選び，記号で答えなさい。

- I 国民や物資のすべてを統制できる権限を政府に与えた法律ができる。
- II 戦争がすすむ中，学童がくどうの集団そかいがはじまる。

おもなできごと	
満州事変がおきる……………	A
五・一五事件がおきる……………	B
二・二六事件がおきる……………	C
⇕	D
日中戦争がはじまる	
⇕	E
太平洋戦争がはじまる	
⇕	F
アメリカ軍が沖縄への上陸を開始する	

3 次の会話文を読んで、あとの問いに答えなさい。

さや：地図1は、わたしたちが住んでいる①三重県の全体図だね。

はな：南北の長さが約170kmで、②細長い形をしているわ。

さや：山や盆地が多くて、県内の③気候は地域によって違うだろうね。それに海岸線も長いから、津波など④災害の危険性も高いと考えられるね。

りん：三重県は自然が豊かな県で、魅力がたくさんあるよ。

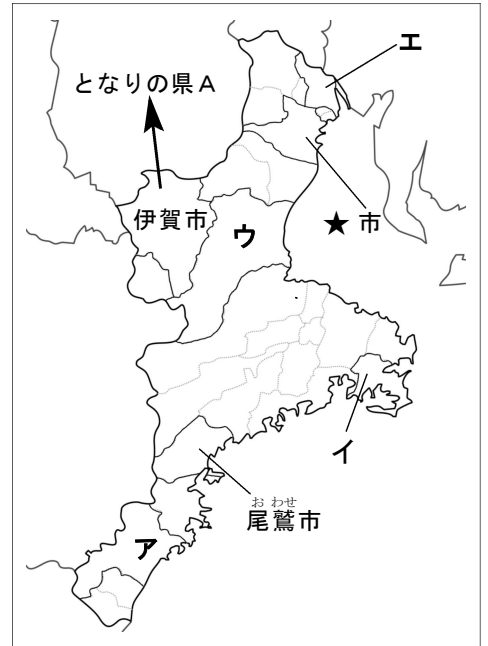
さや：北部は、となりの県から続く⑤中京工業地帯が広がっていて、たくさんの企業の工場があるね。⑥四大公害病の一つの「ぜんそく」がおこった都市もあるけれど、その後は環境問題に積極的に取り組んだよね。

はな：工業だけでなく⑦農業や畜産業もさかんだよ。例えば、伊勢茶やX牛が有名だね。それに⑧水産業もさかんで、Yの養殖が有名かな。⑨林業では製材工場の数が日本でトップクラスに多くて、すぎやひのきの産地として知られているわ。

さや：江戸時代の「おかげまいり」の影響で、⑩観光業もさかんだね。⑪志摩スペイン村やナガシマスパーランドなどのテーマパークもあって、何度も遊びに行ったなあ。

りん：改めて考えてみると、わたしたちの住んでいる三重県には魅力がたくさんあるんだね。⑫三重県のまわりには6つの府県があるけれど、これらの府県の魅力も勉強したいな。

地図1



問1 下線部①について、三重県の県庁所在地はどこか。

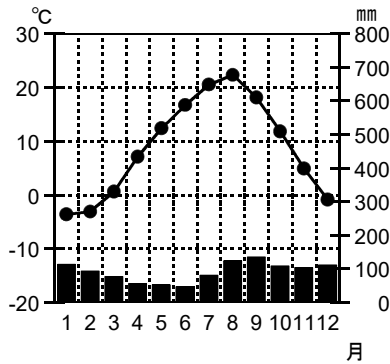
問2 下線部②に関連して、三重県と同じように「細長い形」という特徴をもつチリは、どこにあるか。その大陸を地図2のア～オから1つ選び、記号で答えなさい。

地図2

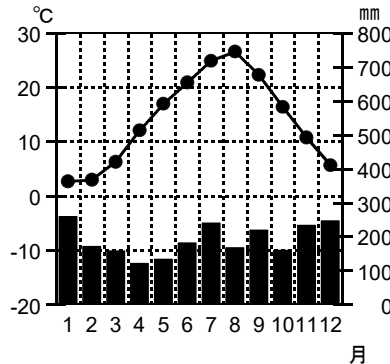


問3 下線部③について、次のア～エは尾鷲市、札幌市、富山市、広島市のいずれかの雨温図である。
尾鷲市の雨温図として正しいものを1つ選び、記号で答えなさい。

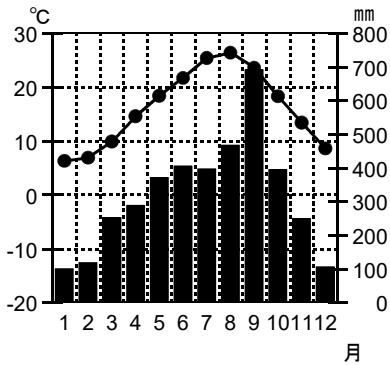
ア



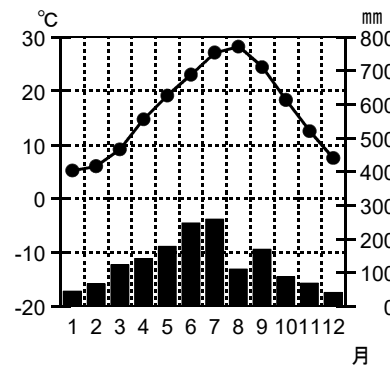
イ



ウ



エ



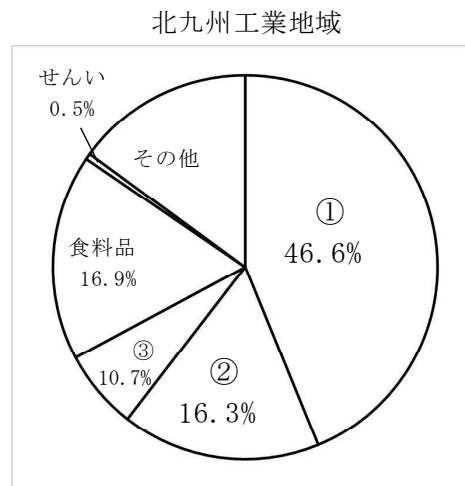
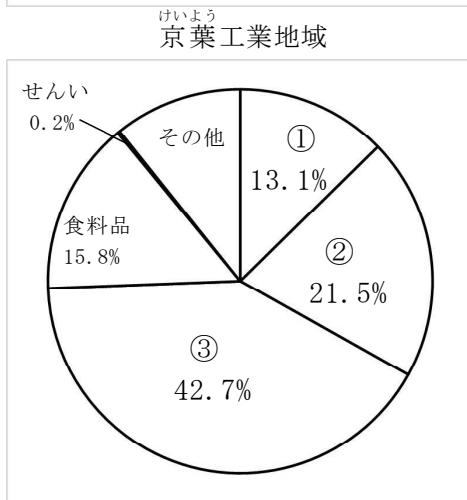
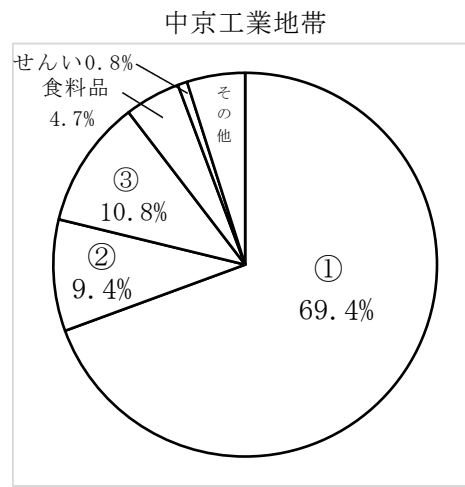
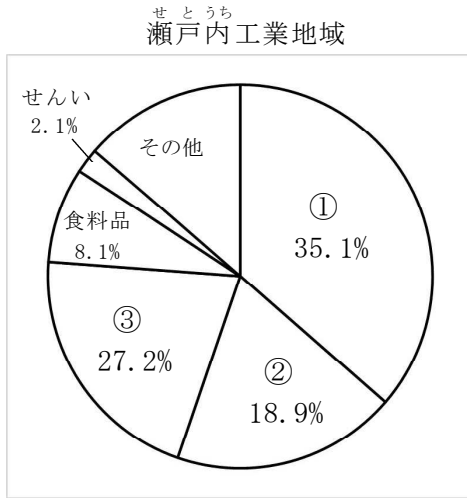
(理科年表 平成28年より作成)

問4 下線部④について述べた文として正しいものを次のア～エから1つ選び、記号で答えなさい。

- ア 台風は、大雨だけでなく強い風もふくため、海上では津波が発生する。
- イ 青森県の沖から石川県の沖にのびる南海トラフでは、大地震がくり返し起こっている。
- ウ 防潮堤や砂防ダムは、自然災害を防いだり、減らしたりする効果がまったくない。
- エ 自然災害による被害を減らすためには、公助だけでなく、自助や共助もたいせつである。

問5 下線部⑤に関連して、(1)・(2)に答えなさい。

(1) 次のグラフは、太平洋ベルトにある工業地帯・工業地域の工業製品額別の割合を示している。
 グラフ中の①～③にあてはまる語句の組み合わせとして正しいものを次のア～カから1つ選び、記号で答えなさい。



(平成30年工業統計表より作成)

- | | | | | | | | |
|---|------|------|------|---|------|------|------|
| ア | ①—金属 | ②—化学 | ③—機械 | イ | ①—金属 | ②—機械 | ③—化学 |
| ウ | ①—化学 | ②—金属 | ③—機械 | エ | ①—化学 | ②—機械 | ③—金属 |
| オ | ①—機械 | ②—化学 | ③—金属 | カ | ①—機械 | ②—金属 | ③—化学 |

(2) 工業製品が大量に輸出されると、相手国の工業製品が売れなくなり、相手国の産業がおとろえることがある。このように、輸出国と輸入国との貿易に関する争いのことを何というか。

問6 下線部⑥について、(1)・(2)に答えなさい。

(1) この都市は、地図1の★市である。この都市の名前を漢字で答えなさい。

(2) いまのわたしたちは、環境問題への取り組みをさらにすすめていく必要がある。環境に配慮した行動としてあやまっているものを次のア～エから1つ選び、記号で答えなさい。

- ア 使い終わった食用油を紙や布にしみこませて、燃えるごみとして捨てる。
- イ ごみをきちんと決められた方法で分別し、資源ごみはリサイクルする。
- ウ 寄付や買い取りなどで自然や建物などを守るナショナルトラスト運動をはじめ。
- エ 燃料電池自動車ではなく、二酸化炭素をまったく排出しないハイブリッドカーを使用する。

問7 下線部⑦について、(1)・(2)に答えなさい。

(1) 会話文中の **X** にあてはまる語句として正しいものを次のア～エから1つ選び、記号で答えなさい。

ア 近江おうみ イ 松阪 ウ 神戸 エ 但馬たじま

(2) 次の表は、レタス・りんご・さくらんぼ・うめの生産量しに占める都道府県別生産量の割合を示したものである。レタスにあてはまるものをア～エから1つ選び、記号で答えなさい。

(%)

	ア	イ	ウ	エ
生産量1位	青森県 58.4	和歌山県 65.3	長野県 34.2	山形県 73.9
生産量2位	長野県 18.2	群馬県 4.8	茨城県 14.9	北海道 9.3
生産量3位	山形県 6.5	三重県 1.8	群馬県 8.9	山梨県 6.3

(日本国勢図会2019年より作成)

問8 下線部⑧について、(1)・(2)に答えなさい。

(1) 会話文中の **Y** にあてはまる語句としてあやまっているものを次のア～エから1つ選び、記号で答えなさい。

ア マグロ イ カキ ウ 真珠しんじゆ エ ホタテガイ

(2) 三重県には、太平洋を流れる暖流だんりゆうによって、あたたかい海に住む魚がやってくる。この暖流の名前を漢字2字で何というか、答えなさい。

問9 下線部⑨について述べた文として正しいものを次のア～エから1つ選び、記号で答えなさい。

- ア 日本の国土の約3分の2が森林で、その半分以上が人工林となっている。
- イ 天然林は、人工林と違って、間ばつなどの手入れを行う必要がある。
- ウ 木くずなどをもとにつくることのできるバイオマスの利用がすすめられている。
- エ 日本の林業で働く人は増加しており、高齢化もすすんでいる。

問10 下線部⑩について、(1)・(2)に答えなさい。

(1) 次のうち、三重県に存在する世界遺産そんざいとして正しいものを次のア～エから1つ選び、記号で答えなさい。

ア 軍艦島ぐんかんじま イ 大浦天主堂おおうら ウ 熊野古道くまの エ 白神山地

(2) 次のうち、三重県でつくられている伝統工芸品として正しいものを次のア～エから1つ選び、記号で答えなさい。

ア 南部鉄器 イ 信楽焼しがらきやき ウ 輪島塗わじまぬり エ 万古焼ばんこやき

問11 下線部⑪について、志摩スペイン村がある市を地図1のア～エから1つ選び、記号で答えなさい。

問12 下線部⑫に関連して、(1)・(2)に答えなさい。

(1) 地図1にあるように、伊賀市はとなりの県Aに接している。この県について説明した文として正しいものを次のア～エから1つ選び、記号で答えなさい。

- ア 世界で初めて核兵器による攻撃を受けた都市があり、国際的に知名度が高い。
- イ 避暑地としても有名で、県境を接している8つの県から観光客が訪れる。
- ウ 県の面積の6分の1を湖が占めており、古くから交通の要衝として発展した。
- エ 日本海に面しており、信濃川が流れる越後平野では米づくりがさかんである。

(2) 次の表のア～キの都道府県には、三重県と県境を接している6府県が含まれている。ア～キから、それにあてはまらないものを1つ選び、記号で答えなさい。

	人口 (万人)	面積 (km ²)	在留外国人 (百人)	65歳以上人口 の割合 (%)	海面漁獲量 (百t)
ア	727	5,173	2,652	25.9	535
イ	93	4,725	71	33.3	131
ウ	138	4,017	335	26.9	-
エ	194	10,621	567	31.1	-
オ	515	83,424	363	32.5	8,949
カ	132	3,691	139	31.9	-
キ	245	4,612	584	29.8	97

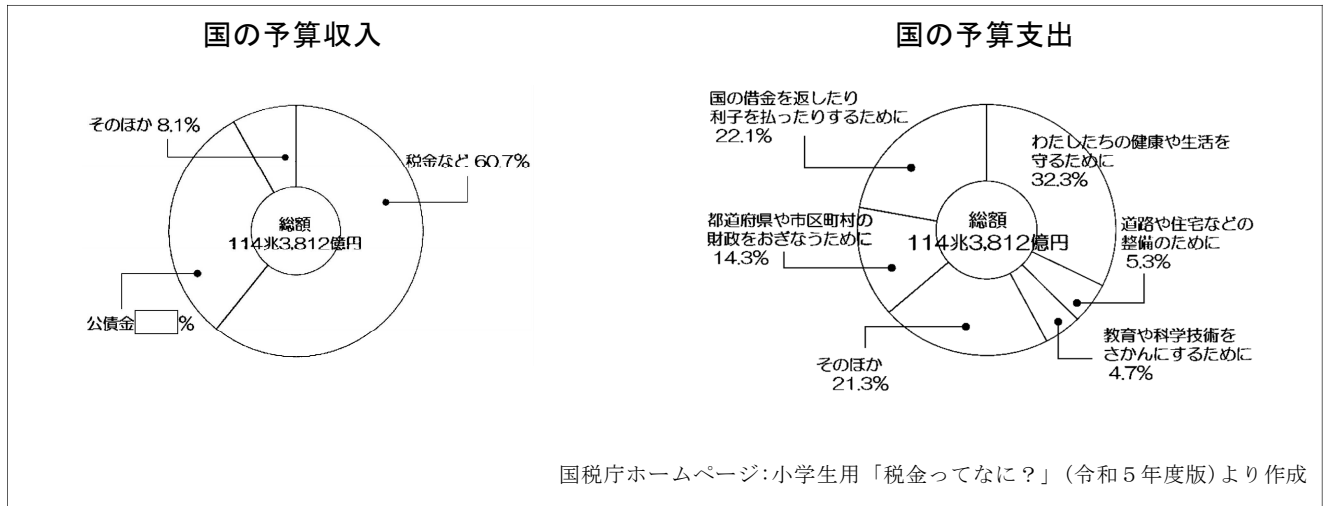
※在留外国人は2021年、
海面漁獲量は2020年、
他は2022年

(データブック オブ・ザ・ワールド2023年版より作成)

4 (この問題は、近日発生した事態に^{はいりよ}配慮して、^{さくじよ}削除しました。)

問6 下線部⑥について、資料をみて、(1)・(2)に答えなさい。

資料



(1) 国の収入は税金、公債金、その他の収入で構成されている。国の予算収入のうち公債金の占める割合(%)を小数第1位まで求めなさい。

(2) 国の予算支出の中で2番目に多い使いみちとして正しいものを、次のア～エから1つ選び、記号で答えなさい。

- ア 教育・科学振興費 イ 公共事業費 ウ 国債費 エ 地方財政費

問7 下線部⑦について、(1)・(2)に答えなさい。

(1) 裁判所の判決に納得できないときに、さらに上級の裁判所に2回までうったえることができる。このような制度を何と呼ぶか。

(2) (1)は、何のためのしくみか。解答らんにあわせて書きなさい。

これで問題は終わりです。